

تم تحميل وعرض المادة من :



موقع واجباتك

www.wajibati.net

موقع واجباتي منصة تعليمية تساهم بنشر حل المناهج الدراسية بشكل متميز لترتقي بمجال التعليم على الإنترنت ويستطيع الطلاب تصفح حلول الكتب مباشرة لجميع المراحل التعليمية المختلفة



حمل التطبيق من هنا



نموذج اختبار منتصف الفترة لمادة الدراسات الاجتماعية للصف الثالث المتوسط

الدرجة:

20

اسم الطالب

الفصل

أ / ب

السؤال الاول: ضع علامة (√) أمام العبارة الصائبة وعلامة (x) أمام العبارة الخاطئة لما يأتي؟

5 درجات

1	يحثنا ديننا الاسلامي على العمل والانجاز
2	التطور التقني لم يقلل من الاعتماد على الأيدي العاملة
3	يساعد علم المساحة في تمثيل مواقع الظواهر الطبيعية
4	عندما يكون الانسان منجزا فانه يشعر بالرضا
5	التضخم غير مضر بالاقتصاد

درجتين

السؤال الثاني:

البطالة مشكلة اقتصادية واجتماعية، وقامت حكومة وطني بجهود واجراءات لتقليص نسبة البطالة ومن هذه الاجراءات (برنامج جودة الحياة) عبر بأسلوبك ويايجاز عن هذا البرنامج واهدافه؟

4 درجات

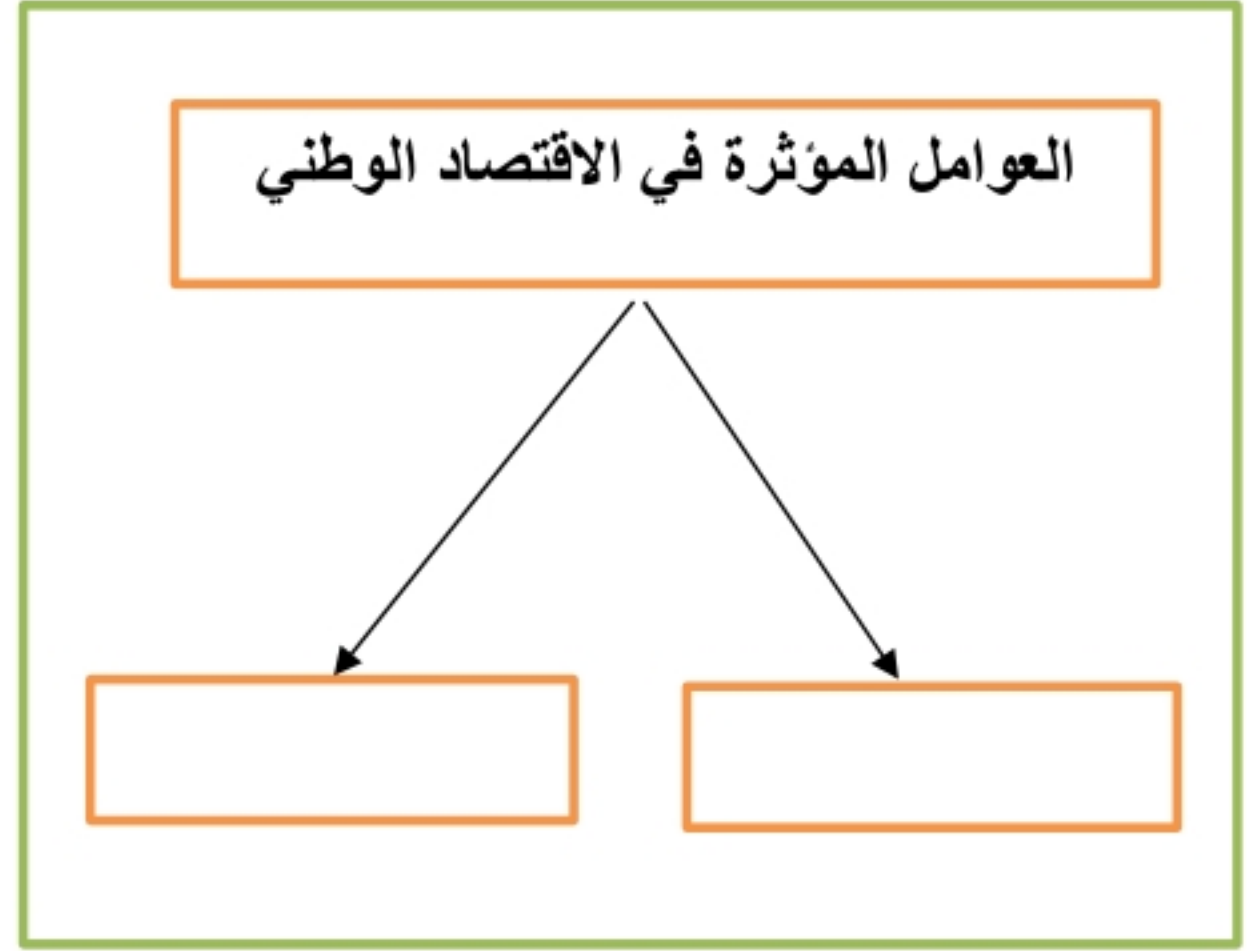
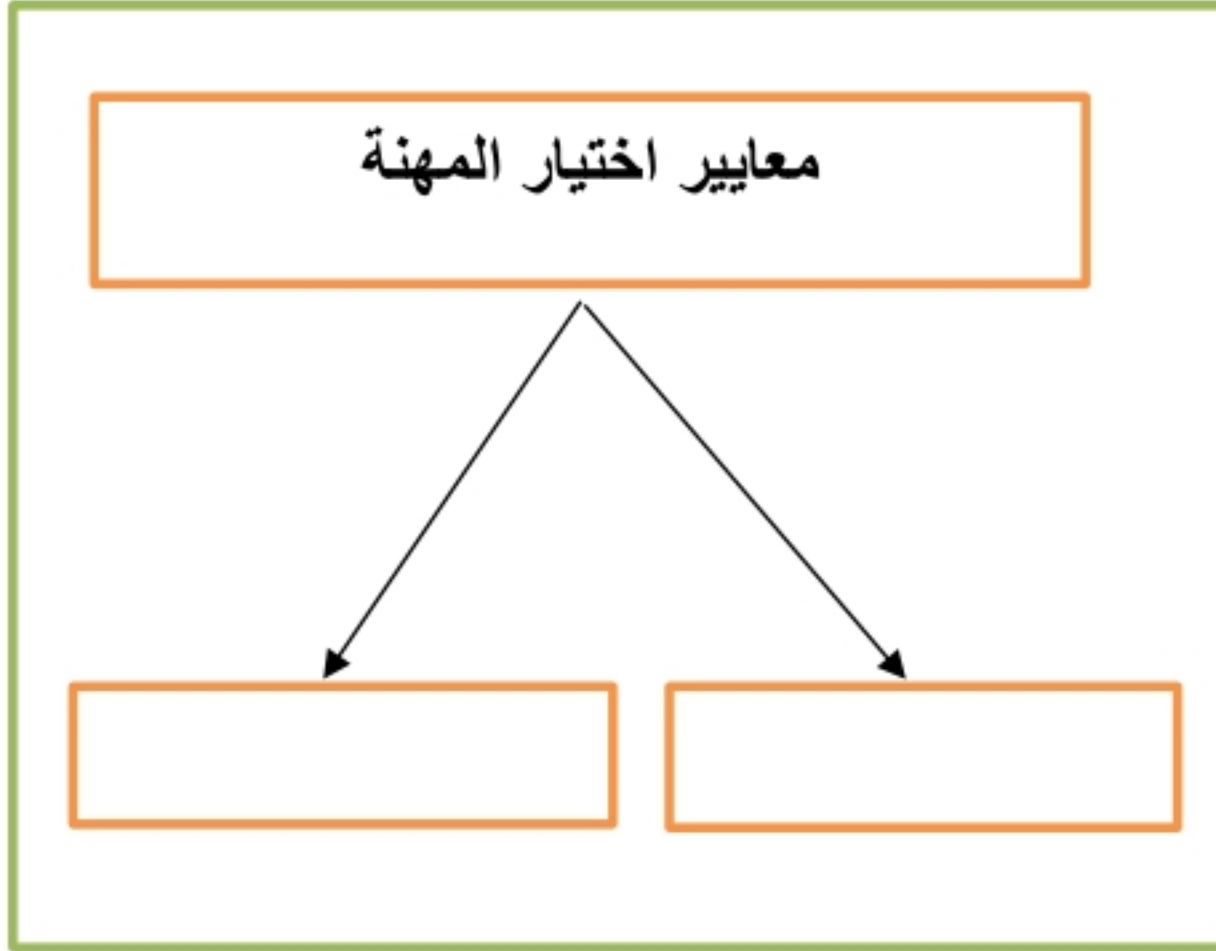
السؤال الثالث: اختر الاجابة الصحيحة في الجدول ادناه؟

1	نسبة البعد على الخريطة وما يقابله على الطبيعة:	2	كل ما يأتي من اقسام GPS ماعدا :
أ	مقياس الرسم	أ	المستخدم
ب	الاحداثيات	ب	المساحة الارضية
ج	اطار الخريطة	ج	التحكم
د	عنوان الخريطة	د	الاقمار الصناعية
3	الانشطة البشرية في مجال الانتاج والخدمات :	4	من تتوافر لديهم مهارات ولا تتوافر لهم فرص عمل
أ	الانجاز الذاتي	أ	بطالة اختيارية
ب	الانتاج	ب	بطالة هيكلية
ج	التضخم	ج	بطالة مقنعة
د	الاقتصاد الوطني	د	بطالة وظيفية

يتبع

السؤال الرابع: أكل خرائط المفاهيم التالية ؟

4 درجات



درجتين

السؤال الخامس: قارن بين الخريطة والصور الجوية وفق الجدول أدناه؟

الصور الجوية	وجه المقارنة	الخريطة
	المفتاح والرموز	
	الظواهر التي تفسرها	

3 درجات

السؤال السادس: من خلال درستك لأنواع الخرائط ومستعينا بالشكل المجاور حدد أنواع الخرائط أدناه؟

خريطة سياسية
خريطة مناخية
خريطة اقتصادية
خريطة تاريخية



انتهت الاسئلة / محمد القرني

نموذج إجابة

5 درجات

السؤال الاول: ضع علامة (√) أمام العبارة الصائبة وعلامة (x) أمام العبارة الخاطئة لما يأتي؟

√	1	يحثنا ديننا الاسلامي على العمل والانجاز
x	2	التطور التقني لم يقلل من الاعتماد على الأيدي العاملة
√	3	يساعد علم المساحة في تمثيل مواقع الظواهر الطبيعية
√	4	عندما يكون الانسان منجزا فانه يشعر بالرضا
x	5	التضخم غير مضر بالاقتصاد

درجتين

السؤال الثاني:

البطالة مشكلة اقتصادية واجتماعية، وقامت حكومة وطني بجهود واجراءات لتقليص نسبة البطالة ومن هذه الاجراءات (برنامج جودة الحياة) عبر بأسلوبك ويايجاز عن هذا البرنامج واهدافه؟

هو احد برامج رؤية المملكة 2030 ويخدم عدة جوانب منها الجانب الاقتصادي والاجتماعي ويسهم في خفض البطالة وتوفير فرص عمل كثيرة في عدة قطاعات مختلفة

4 درجات

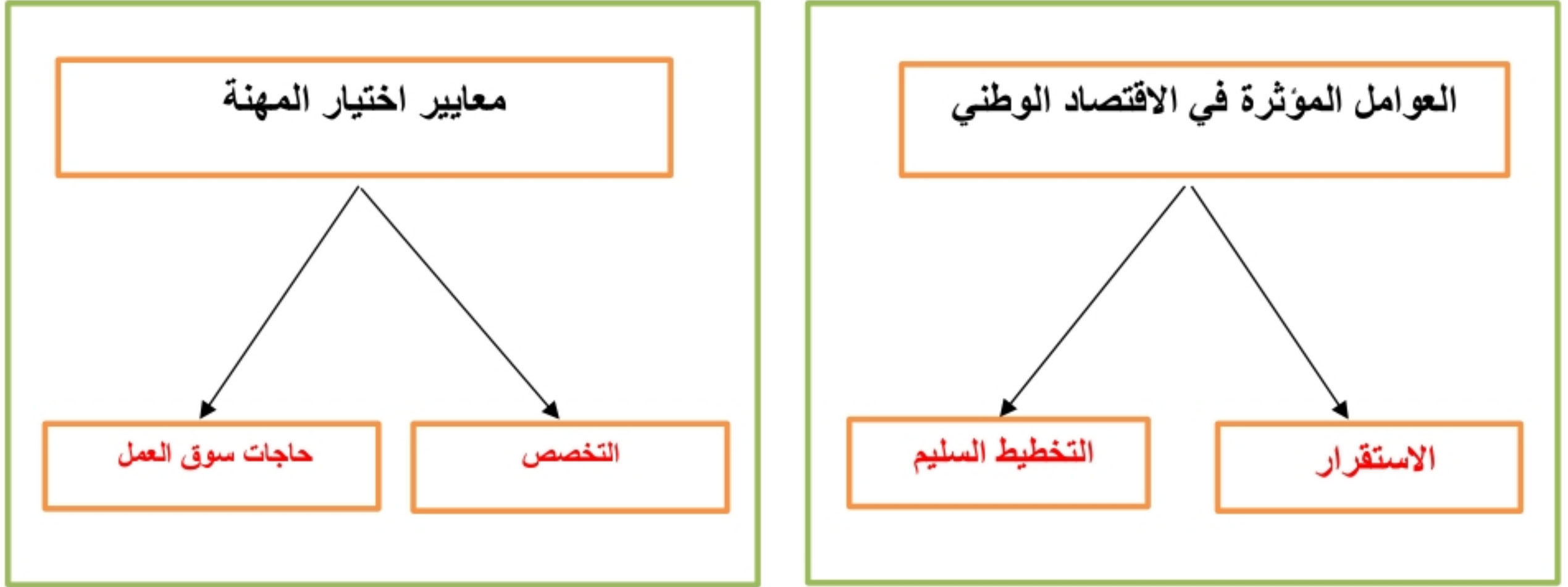
السؤال الثالث: اختر الاجابة الصحيحة في الجدول ادناه؟

1	نسبة البعد على الخريطة وما يقابله على الطبيعة:	2	كل ما يأتي من اقسام GPS ماعدا :
أ	مقياس الرسم	أ	المستخدم
ب	الاحداثيات	ب	المساحة الارضية
ج	اطار الخريطة	ج	التحكم
د	عنوان الخريطة	د	الاقمار الصناعية
3	الانشطة البشرية في مجال الانتاج والخدمات :	4	من تتوافر لديهم مهارات ولا تتوافر لهم فرص عمل
أ	الانجاز الذاتي	أ	بطالة اختيارية
ب	الانتاج	ب	بطالة هيكلية
ج	التضخم	ج	بطالة مقنعة
د	الاقتصاد الوطني	د	بطالة وظيفية

يتبع

السؤال الرابع: أكل خرائط المفاهيم التالية ؟

4 درجات



السؤال الخامس: قارن بين الخريطة والصور الجوية وفق الجدول أدناه؟

درجتين

الصور الجوية	وجه المقارنة	الخريطة
لا يوجد بها مفتاح ورموز	المفتاح والرموز	يوجد بها مفتاح ورموز
الظواهر الثابتة والمتحركة	الظواهر التي تفسرها	الظواهر الثابتة

3 درجات

السؤال السادس: من خلال درستك لأنواع الخرائط ومستعينا بالشكل المجاور حدد أنواع الخرائط أدناه؟

خريطة سياسية
خريطة مناخية
خريطة اقتصادية
خريطة تاريخية



خريطة اقتصادية



خريطة مناخية




خريطة تاريخية

انتهت الاسئلة / محمد القرني

موقع واجباتي



الدرجة رقماً	السؤال	 وزارة التعليم Ministry of Education	وزارة التعليم		
			الإدارة العامة للتعليم بمحافظة متوسطة		
	س ١		المادة	الصف	زمن الاختبار
	س ٢		اجتماعيات	ثالث متوسط	٤٥ دقيقة
	س ٣		اسم الطالب:		
عزيزي الطالب / استعن بالله ثم أجب عن الأسئلة التالية :			الصف:		
			أسئلة اختبار منتصف الفصل الدراسي الثالث للعام الدراسي ١٤٤٥ هـ		

السؤال الأول : أجب بعلامة (√) أمام العبارة الصحيحة وعلامة (X) أمام العبارة الخاطئة :

()	١) يحدد إطار الخريطة بعد الانتهاء من رسمها .
()	٢) الخريطة لا توضح الظواهر المتحركة .
()	٣) الصورة الجوية توضح خطوط الطول ودوائر العرض .
()	٤) يشير مؤشر اتجاه الخريطة دائماً نحو جهة الشمال .
()	٥) من فوائد إطار الخريطة تحديد الجزء الذي تمثله الخريطة .
()	٦) التوقيع هو نقل المعلومات من الخريطة إلى الطبيعة .

السؤال الثاني : اختر الإجابة الصحيحة في الجمل التالية وذلك بوضع علامة (√) في المربع الذي أمامك :

١	هي وسيلة لتمثيل سطح الكرة الأرضية أو جزء منه بظواهره الطبيعية والبشرية على لوحة مستوية :	٢	هي الخرائط التي تمثل عليها الظواهر الطبيعية التي خلقها الله والتي لا أثر للإنسان في نشأتها :
أ-	<input type="checkbox"/> مقياس الرسم	أ-	<input type="checkbox"/> الخرائط البشرية
ب-	<input type="checkbox"/> الخريطة	ب-	<input type="checkbox"/> الخرائط الطبيعية
ج-	<input type="checkbox"/> علم المساحة	ج-	<input type="checkbox"/> الخرائط التضاريسية
د-	<input type="checkbox"/> الصورة الجوية	د-	<input type="checkbox"/> الخرائط السياسية
٣	توضح طريقة هجرة نبينا محمد صلى الله عليه وسلم من مكة المكرمة إلى المدينة المنورة خريطة :	٤	يقصد بها خطوط الطول ودوائر العرض :
أ-	<input type="checkbox"/> اقتصادية	أ-	<input type="checkbox"/> عنوان الخريطة
ب-	<input type="checkbox"/> مناخية	ب-	<input type="checkbox"/> إطار الخريطة
ج-	<input type="checkbox"/> تاريخية	ج-	<input type="checkbox"/> شبكة الاحداثيات
د-	<input type="checkbox"/> سياسية	د-	<input type="checkbox"/> مقياس الرسم

٥	أفضل أنواع المقاييس هو المقياس :	٦	هي صورة لجزء من سطح الأرض تلتقط بالطائرات أو المناطيد المزودة بالكاميرات التصوير :
أ-	<input type="checkbox"/> الخطي	أ-	<input type="checkbox"/> الظواهر الطبيعية
ب-	<input type="checkbox"/> الكتاني	ب-	<input type="checkbox"/> الاحداثيات
ج-	<input type="checkbox"/> النسبي	ج-	<input type="checkbox"/> الخريطة
د-	<input type="checkbox"/> الكسري	د-	<input type="checkbox"/> الصور الجوية
٧	من فوائد نظام تحديد المواقع :	٨	المساحة الفلكية تكون لمعرفة الحسابات الفلكية مثل :
أ-	<input type="checkbox"/> تحديد المواقع تحديداً دقيقاً	أ-	<input type="checkbox"/> معرفة الشهور
ب-	<input type="checkbox"/> تحديد اتجاه القبلة	ب-	<input type="checkbox"/> أوقات الصلاة
ج-	<input type="checkbox"/> إرشاد السفن والطائرات	ج-	<input type="checkbox"/> تحديد القبلة
د-	<input type="checkbox"/> جميع ما سبق	د-	<input type="checkbox"/> جميع ما سبق

السؤال الثالث: اكتب الرقم المناسب من المجموعة (أ) أمام ما يناسبه من المجموعة (ب) :

مجموعة (أ)	الاجابة	مجموعة (ب)
١- المساحة الجيوديسية		الغرض منها إنشاء الخرائط التفصيلية وبيان المعالم وبعض التفاصيل .
٢- المساحة المستوية		الغرض منها رسم الخرائط التفصيلية من أجل بيان ما تحويه الأرض من معالم طبيعية وبشرية .
٣- عنوان الخريطة		تعني الأعمال المساحية التي تغطي جزء صغير من سطح الأرض دون الاهتمام بكروية الأرض .
٤- نظام (GPS)		تعني تحديد نقط على سطح الأرض للمساحات الشاسعة مع الأخذ في الحسبان بكروية الأرض .
٥- المساحة التفصيلية		الاسم الذي يحدد موضوع الخريطة .
٦- المساحة الطبوغرافية		نظام مترابط يساعد على تحديد احداثيات أي مكان على سطح الأرض بدقة عالية وفق خطوط الطول ودوائر العرض .

انتهت الأسئلة

إعداد : خالد الحربي

السؤال الاول: اكتبى المصطلح المناسب؟

وسيلة لتمثيل سطح الأرض بظواهره الطبيعية و البشرية على لوحة مستوية	
يقصد بها خطوط الطول ودوائر العرض	
صورة لجزء من سطح الأرض تلتقط بالطائرات المزودة بآلات تصوير	
نظام مترابط يساعد على تحديد اي مكان على سطح الأرض بدقة عالية	
ما يحيط بالخريطة من الخارج	
النسبة بين البعد على الخريطة وما يقابله على الطبيعة	

السؤال الثانى: صوبى ما تحته خط؟

تمثل الخريطة الطبيعية الجوانب التي تتصل بالإنسان ونشاطه	
الصور الجوية الرأسية تغطي مساحات كبيرة	
يعد مقياس الرسم الكتابي أفضل انواع مقاييس رسم الخريطة	
اول عمل يقوم به مستعملو الخرائط في الميدان رسم الخريطة	
يشير مؤشر اتجاه الخريطة الي اتجاه الشرق.	
قسم التحكم في Gps عبارة عن أجهزة الاستقبال في الطائرات والسفن والسيارات	

السؤال الثالث: قارنى بين الخريطة والصور الجوية من حيث ؟

الخريطة	وجه المقارنة	الصور الجوية
	المفتاح والرموز	
	الظواهر المتحركة	
	خطوط الطول ودوائر العرض	

السؤال الرابع: عددي ٢ فقط مما يلي

فوائد نظام تحديد المواقع العالمي	
استعمالات الصور الجوية	
أنواع الخرائط الطبيعية	

السؤال الخامس علىى زادت أهمية الخرائط فى الوقت الحالى.

زادت أهمية الخرائط فى الوقت الحالى	
يصعب تمثيل الأماكن والمواقع والظواهر بأحجامها الحقيقية على الخريطة	

نموذج إجابة

السؤال الأول: اكتبى المصطلح المناسب؟

الخريطة	وسيلة لتمثيل سطح الأرض بظواهره الطبيعية و البشرية على لوحة مستوية
الاحداثيات	يقصد بها خطوط الطول ودوائر العرض
الصور الجوية	صورة لجزء من سطح الأرض تلتقط بالطائرات المزودة بآلات تصوير
نظام تحديد المواقع العالمي	نظام مترابط يساعد على تحديد اي مكان على سطح الأرض بدقة عالية
إطار الخريطة	ما يحيط بالخريطة من الخارج
مقياس الرسم	النسبة بين البعد على الخريطة وما يقابله على الطبيعة

السؤال الثاني: صوبى ما تحته خط؟

البشرية	تمثل الخريطة الطبيعية الجوانب التي تتصل بالإنسان ونشاطه
المائلة	الصور الجوية الرأسية تغطي مساحات كبيرة
الخطي	يعد مقياس الرسم الكتابي أفضل انواع مقاييس رسم الخريطة
توجيه الخريطة	اول عمل يقوم به مستعملو الخرائط في الميدان رسم الخريطة
الشمال	يشير مؤشر اتجاه الخريطة الي اتجاه الشرق.
المستخدم	قسم التحكم في Gps عبارة عن أجهزة الاستقبال في الطائرات والسفن والسيارات

السؤال الثالث: قارنى بين الخريطة والصور الجوية من حيث ؟

الخريطة	وجه المقارنة	الصور الجوية
تحتاج لمفتاح ورموز	المفتاح والرموز	لا تحتاج لمفتاح ورموز
لا توضح الظواهر المتحركة	الظواهر المتحركة	توضح الظواهر المتحركة
توضح خطوط الطول ودوائر العرض	خطوط الطول ودوائر العرض	لا توضح خطوط الطول ودوائر العرض

السؤال الرابع: عددي ٢ فقط مما يلي

فوائد نظام تحديد المواقع العالمي	تحديد المواقع بدقة عالية	تحديد اتجاه القبلة
استعمالات الصور الجوية	التخطيط العمراني	إعداد الخرائط الطبوغرافية
أنواع الخرائط الطبيعية	خرائط نبات طبيعي	خرائط التضاريس

السؤال الخامس علىى زادت أهمية الخرائط فى الوقت الحالى.

زادت أهمية الخرائط فى الوقت الحالى	بسبب تطور التقنية / ارتباطها بالتطوير والتنمية
يصعب تمثيل الأماكن والمواقع والظواهر بأحجامها الحقيقية على الخريطة	لكبر حجمها

رأى معلمك أعلم أنك تجتهدين وتحاولين ومحاولاتك جميلة مثلك وتأكدي بأن معلمتك فخورة جدا بك 🌟

التوقيع	اسم المصحح :	الدرجة	 وزارة التعليم Ministry of Education	المملكة العربية السعودية وزارة التعليم الإدارة العامة للتعليم بمنطقة مكتب التعليم مدرسة
التوقيع	اسم المراجع : ٤٠	 رؤية 2030	

رقم الجلوس	الصف الثالث متوسط	العام الدراسي ١٤٤٥ هـ	أسئلة اختبار منتصف الفصل الدراسي الثالث
عدد الصفحات : ٢	الزمن : ساعة	المادة : اجتماعيات	اسم الطالب :

السؤال الأول

استعن بالله ثم اجب على الاسئلة

٢٠

ضع علامة (√) أمام العبارة الصحيحة وعلامة (X) أمام العبارة الخاطئة

أ

()	تساعد المساحة على تمثيل مواقع الظواهر الطبيعية.	١
()	تتشابه الرموز في كل مفاتيح الخرائط	٢
()	اختلاف المعلومات التي تقدمها الخرائط أدى إلى تنوعها .	٣
()	الصور الجوية توضح الظواهر المتحركة	٤
()	يطلق على المساحة الأرضية المساحة التقليدية	٥

السؤال الثاني

أربط بين العمود [أ] بما يناسبه في العمود [ب] بوضع الرقم المناسب في مربع الإجابة :

م	العمود [أ]	الإجابة	العمود [ب]
١	توضح الهجرات البشرية في العالم.		خريطة سياسية
٢	تمثل الحدود بين الدول		خريطة سكانية
٣	تحوي حقول النفط في منطقة الخليج العربي.		خريطة مناخية
٤	توضح طريق هجرة نبينا محمد من مكة المكرمة إلى المدينة المنورة		خريطة اقتصادية
٥	تمثل مناطق نزول الأمطار صيفا في شبه الجزيرة العربية.		خريطة تاريخية

السؤال الثالث

ضع دائرة على الحرف الذي يسبق الإجابة الصحيحة لكل مما يلي :

١٠

١- تساعد في معرفة الشهور وأوقات الصلاة وتحديد القبلة .

أ المساحة الأرضية ب المساحة الفلكية ج المساحة الملاحية

٢- النسبة بين البعد على الخريطة، وما يقابله على الطبيعة:

أ مفتاح الخريطة ب مقياس الرسم ج شبكة الاحداثيات

٣ - مجموعة من المصطلحات والرموز تمثل الظواهر والمعالم التي على الخريطة

أ مفتاح الخريطة ب شبكة الاحداثيات ج المساحة

٤:- يبين موضوع الخريطة والمكان الذي تمثله:

أ عنوان الخريطة ب مفتاح الخريطة ج إطار الخريطة

٥- تعني تحديد نُقْط على سطح الأرض للمساحات الشاسعة،

أ المساحة الجيوديسية ب المساحة المستوية ج المساحة الطبوغرافية

السؤال الرابع

اكتب اثنين فقط لكل مما يلي :

أ - من أنواع مقاييس الرسم :

١-

٢-

ب - استعمالات الصور الجوية :

١-

٢-

ج - مكونات نظام تحديد المواقع العالمي :

١-

٢-

٥



نموذج اختبار منتصف الفترة
الفصل الدراسي الثالث 1444
المادة: الدراسات الاجتماعية
الصف: الثالث المتوسط



وزارة التعليم
ادارة
مكتب تعليم
مدرسة

الدرجة / 20

الفصل

إعداد / محمد القرني

اسم الطالب

علم المساحة
خريطة سياسية
الخريطة
خريطة تضاريسية
الاحداثيات
الصور المائلة

السؤال الأول: مستعينا بالشكل المجاور ضع المصطلح امام ما يناسبه من العبارات ادناه؟

- (تمثيل سطح الارض او جزء منع على لوحة مستوية) ❖
(تقاطع خطوط الطول ودوائر العرض .) ❖
(هي صور تلتقط بعدسات التصوير في وضع مائل .) ❖
(العلم الذي يبحث في الطرائق المختلفة لتمثيل سطح الارض .) ❖
(هي الخرائط التي توضح حدود الدول .) ❖

5 درجات

السؤال الثاني : ضع الرقم امام المجموعة الاولى امام ما يناسبه من المجموعة الثانية ؟

المجموعة الثانية	الرقم	المجموعة الاولى	الرقم
يحيط بالخريطة من الخارج		مقياس الرسم	1
تقاطع خطوط الطول مع دوائر العرض		اطار الخريطة	2
النسبة بين البعد على الخريطة ومايقايله على الطبيعة		عنوان الخريطة	3
اسم وموضوع الخريطة والمكان الذي تمثله			

3 درجات

السؤال الثالث : أكمل خرائط المفاهيم التالية ؟



4 درجات

السؤال الرابع : (أ) قارن بين الخريطة والصور الجوية وفق الجدول؟

الصور الجوية	وجه المقارنة	الخريطة
	المفتاح	
	الظاهرة التي تفسرها	

5 درجات

(ب) وضح باختصار اهمية نظام ال GPS ؟

السؤال الخامس: عزيزي الطالب من خلال دراستك لأنواع الخرائط صنف ما يأتي مستعينا بالشكل المجاور؟

خريطة سكانية
خريطة اقتصادية
خريطة تاريخية
خريطة مناخية



3 درجات





نموذج اختبار منتصف الفترة
الفصل الدراسي الثالث 1444
المادة: الدراسات الاجتماعية
الصف: الثالث المتوسط



نموذج إجابة

الدرجة / 20

إعداد / محمد القرني (إجابة) الفصل

اسم الطالب

علم المساحة
خريطة سياسية
الخريطة
خريطة تضاريسية
الاحداثيات
الصور المانلة

السؤال الأول: مستعينا بالشكل المجاور ضع المصطلح امام ما يناسبه من العبارات ادناه؟

- ❖ (الخريطة) تمثيل سطح الارض او جزء منع على لوحة مستوية
- ❖ (الاحداثيات) تقاطع خطوط الطول ودوائر العرض .
- ❖ (الصور المانلة) هي صور تلتقط بعدسات التصوير في وضع مانل .
- ❖ (علم المساحة) العلم الذي يبحث في الطرائق المختلفة لتمثيل سطح الارض .
- ❖ (خريطة سياسية) هي الخرائط التي توضح حدود الدول .

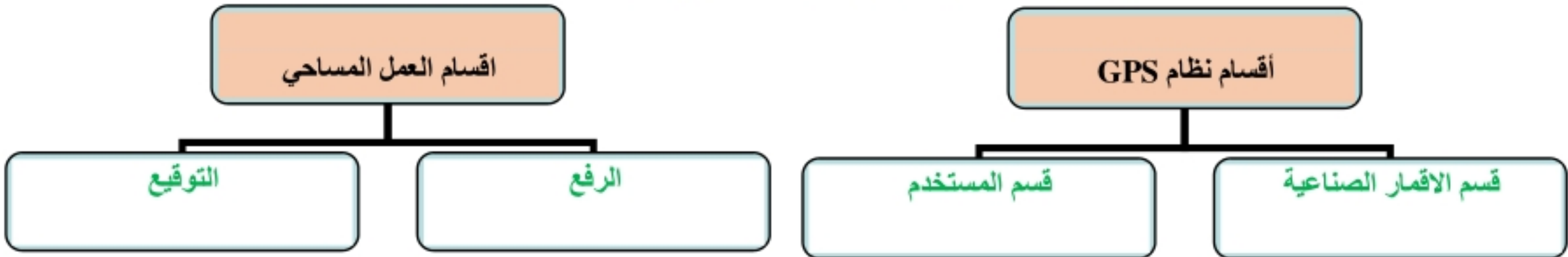
5 درجات

السؤال الثاني : ضع الرقم امام المجموعة الاولى امام ما يناسبه من المجموعة الثانية ؟

المجموعة الثانية	الرقم	المجموعة الاولى	الرقم
يحيط بالخريطة من الخارج	2	مقياس الرسم	1
تقاطع خطوط الطول مع دوائر العرض		اطار الخريطة	2
النسبة بين البعد على الخريطة ومايقايله على الطبيعة	1	عنوان الخريطة	3
اسم وموضوع الخريطة والمكان الذي تمثله	3		

3 درجات

السؤال الثالث : أكمل خرائط المفاهيم التالية ؟



4 درجات

السؤال الرابع : (أ) قارن بين الخريطة والصور الجوية وفق الجدول؟

الصور الجوية	وجه المقارنة	الخريطة
لا تحتاج اليه	المفتاح	تحتاج ويوجد فيها
الظواهر الثابتة والمتحركة	الظاهرة التي تفسرها	الظواهر الثابتة فقط

5 درجات

(ب) وضح باختصار اهمية نظام ال GPS ؟

يحدد المواقع بدقة عالية ويفيدنا في تحديد اتجاه القبلة وارشاد سائقي السيارات الى الاماكن التي يقصدونها

السؤال الخامس: عزيزي الطالب من خلال دراستك لأنواع الخرائط صنف ما يأتي مستعينا بالشكل المجاور؟

خريطة سكانية
خريطة اقتصادية
خريطة تاريخية
خريطة مناخية



خريطة سكانية



خريطة اقتصادية



خريطة مناخية

3 درجات

الدراسات الاجتماعية	المادة	<p>المملكة العربية السعودية</p> <p>وزارة التعليم</p> <p>الإدارة العامة للتربية والتعليم</p> <p>بمحافظة جدة</p> <p>البيان النموذجية</p>
السادسة والثامنة والتاسعة	الوحدة	
المتوسط	المرحلة	
الثالث	الصف	
رباب هوساوي	المعلمة	
		<p>الفصل الدراسي الثالث</p> <p>العام الدراسي ١٤٤٥ هـ</p> <p>وزارة التعليم Ministry of Education</p> <p>مدرسة البيان النموذجية البيانات التعليمية</p>
		بنك الأسئلة لمادة: الدراسات الاجتماعية

[اختاري الإجابة الصحيحة :]

١	أنواع الخرائط على وفق الغرض منها الخرائط الطبيعية ومنها الخرائط .	(أ) التضاريسية	(ب) التاريخية	(ج) السكانية	(د) السياسية
٢	أنواع الخرائط على وفق الغرض منها الخرائط البشرية ومنها خرائط .	(أ) النبات الطبيعي	(ب) المناخية	(ج) التضاريسية	(د) الاقتصادية
٣	تتنوع الخرائط وتصنف وفق معايير مختلفة وذلك بسبب اختلاف:	(أ) توزيع الضغط الجوي	(ب) المعلومات والموضوعات	(ج) اختلاف توزيع السكان	(د) لأنها تمثل الظواهر المختلفة
٤	أهم فوائد إطار الخارطة .	(أ) قراءة الخارطة ومقارنتها	(ب) تعيين موقع الراصد على الخارطة	(ج) تحديد الأماكن التي تخصص لبقية العناصر	(د) إضافة معلومات وتفصيلات جديدة
٥	لتوجيه الخارطة فوائد عديدة أهمها .	(أ) تحديد الجزء الذي تمثله الخارطة	(ب) استعمالها دليلاً يرشد السياح	(ج) تحديد الأماكن التي تخصص لبقية العناصر	(د) تسهيل وضع شبكة خطوط الطول
٦	يتم توجيه الخارطة عن طريق .	(أ) البوصلة	(ب) الإسطرلاب	(ج) الباروجراف	(د) الأنيموميتر
٧	يعتبر المقياس الخطي أفضل أنواع المقاييس وذلك لأنه .	(أ) يقاس بوحدات صغيرة عند التكبير والتصغير	(ب) يتساوى في تكبير وتصغير الخارطة	(ج) يتغير في تكبير وتصغير الخارطة	(د) صحيحاً عند تصغير أو تكبير الخارطة
٨	أهم فوائد شبكة الإحداثيات .	(أ) تسهيل وضع شبكة خطوط الطول	(ب) تحدد مواقع الأماكن بدقة	(ج) توضح مقياس الرسم	(د) تمنع الزحام في الخارطة
٩	يساعد مفتاح الخريطة على .	(أ) تحديد المواقع الجغرافية	(ب) معرفة مقياس الرسم	(ج) قراءة المعلومات وفهم مدلولاتها	(د) توضيح الظواهر المتحركة

الوسيلة التي تمثل سطح الكرة الأرضية أو جزء منه بظواهره الطبيعية والبشرية تسمى :	١٠		
(أ) الخريطة	(ب) المفتاح	(ج) المقياس	(د) الصور الجوية
النسبة بين البعد على الخريطة وما يقابله على الطبيعة يطلق عليها :	١١		
(أ) عنوان الخارطة	(ب) اتجاه الخارطة	(ج) إطار الخارطة	(د) مقياس الرسم
يحدد موضوع الخارطة والمكان الذي تمثله يطلق عليه :	١٢		
(أ) مقياس الرسم	(ب) عنوان الخارطة	(ج) المقياس النسبي	(د) إطار الخارطة
يحيط بالخارطة من الخارج يسمى بـ:	١٣		
(أ) إطار الخارطة	(ب) خطوط الطول	(ج) المقياس الخطي	(د) المقياس النسبي
المؤشر الذي يبين اتجاه الشمال يطلق عليه :	١٤		
(أ) اتجاه الخارطة	(ب) الإحداثيات	(ج) مقياس الرسم	(د) عنوان الخارطة
مجموعة من المصطلحات والرموز التي تمثل الظواهر والمعالم الموجودة على الخارطة يطلق عليه:	١٥		
(أ) عنوان الخريطة	(ب) إطار الخريطة	(ج) مفتاح الخريطة	(د) الإحداثيات
الصور الجوية لا تحتاج إلى مفتاح وذلك بسبب أنها:	١٦		
(أ) تمثل درجة الحرارة وسرعة الرياح	(ب) توضح خطوط الطول ودوائر العرض	(ج) تحدد جزء من سطح الأرض	(د) توضح الظواهر الطبيعية كما هي
تعد الصور الجوية مصدراً مهماً لاستنباط المعلومات الجغرافية وتستخدم لأغراض متنوعة أبرزها :	١٧		
(أ) التخطيط السكاني وتوزيعهم	(ب) تحديد المواقع الأثرية	(ج) تقسيم الخرائط الأصلية	(د) إضافة معلومات جديدة
فوائد نظم تحديد المواقع الجغرافية متعددة منها :	١٨		
(أ) تحديد اتجاه القبلة	(ب) معرفة الأقمار الصناعية	(ج) تحديد قوة المستخدم	(د) حساب الإحداثيات
مكونات نظام تحديد المواقع العالمي (GPS) قسم :	١٩		
(أ) المستهلك	(ب) التحليل	(ج) التحكم	(د) التطوير
الغرض من المساحة الطبوغرافية:	٢٠		
(أ) توجيه الأعمال العسكرية	(ب) إرشاد الرحالين إلى الأماكن	(ج) رسم الخرائط التفصيلية	(د) توجيه فرق الطوارئ
أنواع المساحة حسب طبيعة العمل المساحة :	٢١		
(أ) العسكرية	(ب) المعدنية	(ج) الملاحية	(د) الأثرية
المعالم التي تساعد المساحة على تمثيلها على الخرائط :	٢٢		
(أ) الرفع	(ب) الصناعية	(ج) التوقيع	(د) التحليل

أهمية الإنجاز الذاتي :				٢٣
(أ) يعزز الثقة بالنفس	(ب) عدم الرضاء على النفس	(ج) قلة المعرفة والمهارة	(د) انعدام المسؤولية	
خطوات تحقيق الإنجاز الذاتي :				٢٤
(أ) الأناية	(ب) الكسل	(ج) التخطيط	(د) انعدام الأهداف	
صفات الفرد المنجز :				٢٥
(أ) الخوف من عمل الأعمال الصعبة	(ب) قليل الجهد	(ج) التهرب من العمل	(د) يؤدي واجباته بانتظام	
يحقق الإنتاج فوائد كثيرة من أبرزها :				٢٦
(أ) انخفاض مستويات الاقتصاد الوطني	(ب) قلة فرص العمل لأفراد المجتمع	(ج) دعم الإبداع والابتكار	(د) تلبية الاحتياجات المادية فقط	
لاختيار المهنة معايير متعددة منها :				٢٧
(أ) قلة الخبرة المكتسبة	(ب) التخطيط العشوائي	(ج) حاجات سوق العمل	(د) الأجر المنخفض	
المشكلات الاقتصادية الناتجة عن حركة العرض والطلب :				٢٨
(أ) الركود	(ب) الرشوة	(ج) التضخم	(د) البطالة	
تعددت العوامل التي تساعد على تحقيق الإنجاز الذاتي ومنها :				٢٩
(أ) الطموح	(ب) انعدام الثقة بالنفس	(ج) تكرار الأخطاء	(د) التسوية المستمر	
العوامل التي تؤثر في اقتصاديات الدول عديدة منها :				٣٠
(أ) البناء والزراعة	(ب) التعدين والصناعة	(ج) الاستقرار والموارد	(د) النقل والخدمات	
الأسباب الاقتصادية للبطالة :				٣١
(أ) ضعف التدريب والتأهيل	(ب) النظرة الاجتماعية	(ج) زيادة عدد السكان	(د) البحث عن أجر عالي	
الآثار الاجتماعية للبطالة عديدة منها :				٣٢
(أ) ضعف الإنتاج	(ب) قلة الاستهلاك	(ج) زيادة حالة الأمراض النفسية	(د) هدر الموارد الاجتماعية	
البطالة التي تتوافر لديهم مهارات ولاتتوفر لهم فرص عمل يطلق عليها :				٣٣
(أ) المقنعة	(ب) الوظيفية	(ج) الاختيارية	(د) الهيكلية	
أساليب العلاج التي اتخذتها حكومة وطني لحل مشكلة البطالة متعددة أبرزها :				٣٤
(أ) زيادة العمالة الوافدة	(ب) انخفاض المنشآت الصغيرة	(ج) جذب المستثمر المحلي والاجنبي	(د) إهمال الباحثين عن العمل	

أسباب التضخم :				٣٥
(أ) ارتفاع نسبة البطالة	(ب) ارتفاع معدل الفقر	(ج) ارتفاع أجور العاملين	(د) ارتفاع نسبة السكان	
تبذل الحكومة جهوداً للسيطرة على التضخم ومن أبرز سياساتها :				٣٦
(أ) توفير الوظائف	(ب) الإهدار المستمر	(ج) زيادة الضرائب	(د) عدم مراقبة الأسعار	
لكي تتحمل المسؤولية يجب عليك :				٣٧
(أ) قبول النقد الموضوعي	(ب) الخمول أثناء العمل	(ج) الاعتماد على النفس فقط	(د) التأخير في إنجاز المهام	
المشاركة في برامج تطوير المهارات الذاتية تندرج ضمن المسؤولية				٣٨
(أ) اجتماعية	(ب) وطنية	(ج) شخصية	(د) تنمية	
الانتماء للوطن له فوائد متعددة أبرزها:				٣٩
(أ) تأمين الاستقرار المجتمعي	(ب) الحكم بالعدل والشورى	(ج) حماية حقوق الإنسان	(د) توفير التعليم العام	
التطوع في المجتمع يندرج ضمن المسؤولية :				٤٠
(أ) ذاتية	(ب) اجتماعية	(ج) أخلاقية	(د) وطنية	
تحقيق الانتماء والولاء والالتزام بالأنظمة يندرج ضمن المسؤولية :				٤١
(أ) الاجتماعية	(ب) الأخلاقية	(ج) الوطنية	(د) الدينية	
فوائد المسؤولية عديدة منها :				٤٢
(أ) الثقة بالنفس	(ب) الخوف من الفشل	(ج) مقارنة النفس بالآخرين	(د) كثرة التبرير	
عند تحمل المسؤولية لابد من اتباع عدة خطوات ومنها .				٤٣
(أ) قبول النقد الموضوعي الصادق	(ب) التراجع أمام التحديات	(ج) الاختلاط مع الأشخاص السلبيين	(د) الرغبة في امتلاك السيطرة	
المواطن السعودي عليه واجبات يلتزمها ومنها :				٤٤
(أ) الولاء لولي الأمر	(ب) الحكم بالعدل والشورى	(ج) توفير التعليم العام	(د) تيسير مجالات العمل	
لكل مواطن حقوق يتمتع بها منها :				٤٥
(أ) الانتماء للوطن	(ب) الاعتزاز بتراث الوطن	(ج) التعبير بالكلمة الطيبة	(د) المحافظة على المرافق	
للذوق العام مظاهر كثيرة مثل :				٤٦
(أ) خفض الصوت	(ب) إلقاء النفايات	(ج) ارتداء ملابس غير لائقة	(د) الكتابة على الجدران	

للمحافظة على الذوق العام أسس من أبرزها :				٤٧
(أ) إخافة المتواجدين	(ب) ارتداء لباس غير محتشم	(ج) الإساءة	(د) احترام القيم والعادات	
المتطوع هو قدوة للمجتمع ويمثل دينه ووطنه ومن صفاته :				٤٨
(أ) الأمانة	(ب) الكذب	(ج) الخيانة	(د) الأناية	
للتطوع فوائد متعددة تعود على المجتمع منها :				٤٩
(أ) الاستعداد الذهني	(ب) غرس القيم الصالحة	(ج) تحقيق أمر شرعي	(د) منع التجريم	
لكي تحقق الأعمال التطوعية أهدافها ينبغي الالتزام بعدد من الضوابط منها :				٥٠
(أ) سد احتياجات المجتمع	(ب) تحقيق الأمن الشامل	(ج) تحت إشراف جهات حكومية	(د) تعزيز الترابط الاجتماعي	
الجهة الحكومية التي تتولى تنظيم شؤون التطوع في المملكة العربية السعودية وزارة :				٥١
(أ) الزراعة والشؤون البلدية	(ب) الداخلية والحج والعمرة	(ج) الموارد البشرية والتنمية الاجتماعية	(د) الخدمة المدنية	
من برامج التطوع (كن عوناً) ومن مجالاته :				٥٢
(أ) تنظيم الندوات والفعاليات	(ب) التسهيلات الضرورية	(ج) تعبئة فائض الطعام	(د) الترجمة للحجاج والمعتمرين	

في الفقرات من (1) إلى (٢٥) زاوجي بين المصطلحات في العمود الأول مع ما يناسبها من تعريفها في العمود الثاني:

المصطلحات	تعريفها
(١) الخريطة	(أ) التي تمثل عليها الجوانب التي تتصل بالإنسان ونشاطه
(٢) الخرائط الطبيعية	(ب) خطوط الطول ودوائر العرض
(٣) الخرائط البشرية	(ج) المؤشر الذي يبين اتجاه الشمال والاتجاهات الأخرى على الخريطة
(٤) عنوان الخريطة	(د) وسيلة لتمثيل سطح الكرة الأرضية أو جزء منه بظواهره الطبيعية والبشرية
(٥) شبكة الاحداثيات	(هـ) صورة لجزء من سطح الأرض تلتقط بالطائرات أو المناطيد المزودة بآلات تصوير
(٦) اتجاه الخارطة	(و) الاسم الذي يحدد موضوع الخريطة والمكان الذي تمثله
(٧) الصور الجوية	(ز) التي تمثل الظواهر الطبيعية التي خلقها الله سبحانه وتعالى التي لا أثر للإنسان في نشأتها
(٨) نظام تحديد المواقع العالمي	(ح) يبحث في الطرائق المختلفة لتمثيل سطح الأرض وما عليه من مظاهر طبيعية وبشرية
(٩) علم المساحة	(ط) نظام مترابط يساعد على تحديد إحداثيات أي مكان على سطح الأرض بدقة عالية
(١٠) المساحة الجيوديسية	(ي) تغطي جزءاً صغيراً من سطح الأرض دون الاهتمام بكروية الأرض
(١١) المساحة المستوية	(ك) حالة داخلية مستمرة مرتبطة بمشاعر الفرد توجهه نحو التخطيط للعمل
(١٢) الإنجاز الذاتي	(ل) مجهود إرادي يؤديه الإنسان لإنتاج سلعة أو تقديم خدمة مقابل الحصول على أجر
(١٣) العمل	(م) ما ينجزه النشاط الإنساني من سلع أو خدمات منتجة من المواد الخام
(١٤) الإنتاج	(ن) تحديد نقط على سطح الأرض للمساحات الشاسعة مع الأخذ بالحسبان كروية الأرض
(١٥) الاقتصاد الوطني	(س) القيم والضوابط والآداب التي تحكم سلوك
(١٦) البطالة	(ع) الذي يدرك انتماءه للوطن ويؤدي واجباته تجاهه
(١٧) التضخم	(ف) قدرة الشخص على أداء واجباته وتحمل نتائج أقواله وأفعاله وما ينتج عنها
(١٨) المسؤولية	(ص) زيادة الأسعار تصاعدياً بسبب الطلب الذي يزيد على قدرة العرض
(١٩) المواطن الصالح	(ق) ألا تنهياً فرص العمل للأفراد الباحثين عن العمل والراغبين فيه والقادرين عليه
(٢٠) الذوق العام	(ر) الأنشطة البشرية لأفراد المجتمع في مجال الإنتاج والخدمات والاستهلاك