

تم تحميل وعرض المادة من :



موقع واجباتي

www.wajibati.net

موقع واجباتي منصة تعليمية تساهم بنشر حل المناهج الدراسية بشكل متميز لترتقي بمجال التعليم على الإنترنت ويستطيع الطلاب تصفح حلول الكتب مباشرة لجميع المراحل التعليمية المختلفة



حمل التطبيق من هنا

محمد القرني (اللهم اجعلها صدقة لوالدي رحمة الله عليهم)

العام الدراسي	١٤٤٥هـ	المادة	الدراسات الاجتماعية
الفصل الدراسي	الثاني	الزمن	
الدور		عدد الأوراق	٤
الصف	الثاني المتوسط	عدد الأسئلة	٣
الدرجة النهائية	٤٠ درجة	عدد الفقرات	٤٠ فقرة (كل فقرة بدرجة)

اسم الطالب	نموذج مقترح	الفصل
------------	-------------	-------

بيان تقدير الدرجات						
رقم السؤال	الدرجة المستحقة		المصحح		المراجع	
	رقماً	كتابة	الاسم	التوقيع	الاسم	التوقيع
١						
٢						
٣						
المجموع			جمعه:	راجعه:		
الدرجة بعد التدقيق		—	اسم المدقق وتوقيعه			

تعليمات هامة

- التوكل على الله وتذكر حديث نبينا محمد صلى الله عليه وسلم حيث قال (من غشنا فليس منا)
- اكتب اسمك الرباعي كاملاً في الصفحة الأولى وفصلك (أ أو ب) فقط
- تأكد من عدد الأسئلة انها أربعة أسئلة
- الكتابة تكون بالقلم الأزرق الجاف
- الالتزام بالهدوء في قاعة الاختبار
- تأكد من جوابك على جميع الأسئلة
- الخروج من قاعة الاختبار بعد مضي نصف الوقت

(أ) ضع علامة (√) أمام العبارة الصحيحة وعلامة (x) أمام العبارة الخاطئة فيما يلي ؟

١	يقع وطني المملكة العربية السعودية في الاقليم الاستوائي
٢	تمتلك دول مجلس التعاون موارد اقتصادية لها تأثير كبير في الاقتصاد العالمي
٣	من نتائج الالتزام بالأنظمة تحمل المسؤولية
٤	يعتبر الجرانيت والبازلت من الصخور المتحولة
٥	يوجد في المملكة براكين قديمة
٦	يعقد قادة دول مجلس التعاون اجتماعاتهم مرة كل ثلاثة اشهر
٧	الالتواءات والانكسارات من العمليات الداخلية البنيوية لتشكيل سطح الارض

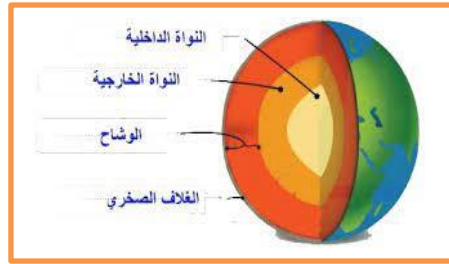
(ب) عزيزي الطالب من خلال دراستك لإنجازات مجلس التعاون صنف مايلي حسب الجدول؟

دعم القضية الفلسطينية - درع الجزيرة - حرية انتقال السلع

انجازات عسكرية	انجازات سياسية	انجازات اقتصادية	اخرى

(ج) تعرف على الصور ادناه مستعيناً بالشكل المجاور ؟

طبقات الارض
بالون الطقس
الصخور المتحولة



(د) صح ماتحته خط في العبارات التالية ؟

م	العبارة	التصحيح
١	ينقسم الغلاف الجوي الى <u>ثمان</u> طبقات	
٢	تقع دول مجلس التعاون في الجزء <u>الشمالي الشرقي</u> من قارة آسيا	

(أ) أختَر الإجابة الصحيحة وذلك بوضع دائرة حول الخيار المناسب فيما يأتي ؟

١	هي الوسط الذي يحيط بالمخلوق الحي فيؤثر فيه ويتأثر به :						
أ	التجوية	ب	التعرية	ج	التصحّر	د	البيئة
٢	كل مايلي من انواع الرياح اليومية ماعدا :						
أ	نسيم البر	ب	نسيم البحر	ج	العكسية	د	نسيم الوادي
٣	الغاز الذي يشكل النسبة الأكبر في الغلاف الجوي هو :						
أ	النتروجين	ب	الاكسجين	ج	الكربون	د	الهيدروجين
٤	وصف حالة الجو في مدة زمنية قصيرة :						
أ	المناخ	ب	الرطوبة	ج	الضغط الجوي	د	الطقس
٥	تأسس مجلس التعاون الخليجي عام :						
أ	١٤٠٠هـ	ب	١٤٠١هـ	ج	١٤٠٢هـ	د	١٤٠٣هـ
٦	من أهم مظاهر السطح في دول مجلس التعاون هضبة نجد وتقع في :						
أ	المملكة العربية السعودية	ب	الكويت		البحرين		سلطنة عمان

(ب) من ابرز التحديات التي تواجه دول مجلس التعاون (البطالة) اكتب بأسلوبك عن هذا الموضوع ؟

(ج) ضع الرقم الموجود امام المجموعة الأولى امام مايناسبه من المجموعة الثانية ؟

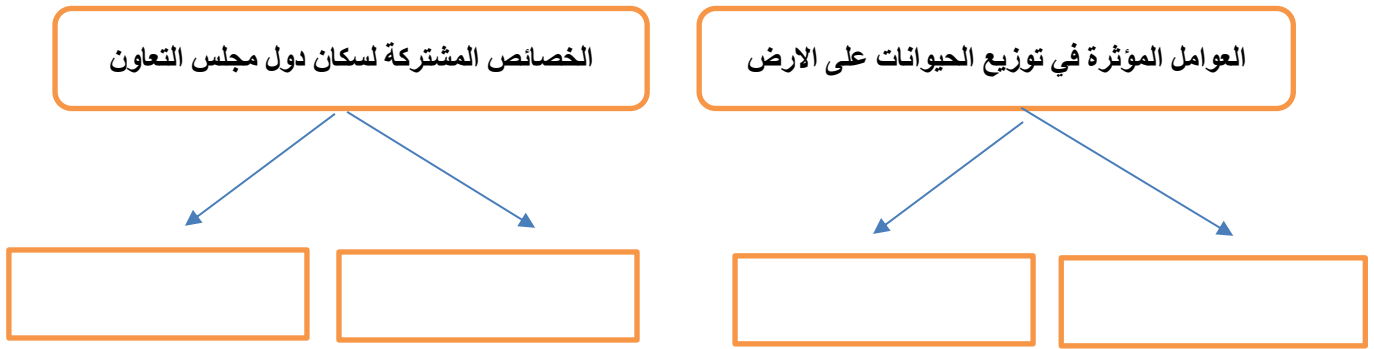
الرقم	المجموعة الأولى	المجموعة الثانية
١	الترمومتر	جهاز قياس مقدار الضغط الجوي
٢	السيسموجراف	جهاز قياس الرطوبة
٣	الانيمومتر	جهاز قياس درجات الحرارة في الجو
٤	الهيجرومتر	جهاز رصد الزلازل
		جهاز قياس سرعة الرياح

السؤال الثالث:

(أ) قارن بين النظام واللائحة وفق الجدول ؟

اللائحة	وجه المقارنة	النظام
	السمة	
	أداة الإصدار	
	التعديل	

(ب) أكمل خرائط المفاهيم التالية ؟



(ج) اكتب وعبر بأسلوبك ورأيك بإيجاز حول المواضيع التالية ؟

١ - جهود حكومة وطني المملكة العربية السعودية في المحافظة على البيئة :

.....

٢ - النتائج المترتبة على تطبيق نظام مكافحة الرشوة :

.....

(د) اذكر السبب لما يأتي (بم تفسر) ؟

١ - أهمية طبقة الأوزون للكائنات الحية :

٢ - تعد درجة الحرارة اهم عناصر المناخ :

.....

انتهت الاسئلة

تمنيتي للجميع بالتوفيق والنجاح

مدير المدرسة :

معلم المادة :

محمد القرني (اللهم اجعلها صدقة لوالدي رحمة الله عليهم)

العام الدراسي	١٤٤٥هـ	المادة	الدراسات الاجتماعية
الفصل الدراسي	الثاني	الزمن	
الدور		عدد الأوراق	٤
الصف	الثاني المتوسط	عدد الأسئلة	٣
الدرجة النهائية	٤٠ درجة	عدد الفقرات	٤٠ فقرة (كل فقرة بدرجة)

اسم الطالب	نموذج إجابة	الفصل
------------	-------------	-------

بيان تقدير الدرجات						
رقم السؤال	الدرجة المستحقة		المصحح		المراجع	
	رقماً	كتابة	الاسم	التوقيع	الاسم	التوقيع
١						
٢						
٣						
المجموع			جمعه:	راجعه:		
الدرجة بعد التدقيق		—	اسم المدقق وتوقيعه			

تعليمات هامة

- التوكل على الله وتذكر حديث نبينا محمد صلى الله عليه وسلم حيث قال (من غشنا فليس منا)
- اكتب اسمك الرباعي كاملاً في الصفحة الأولى وفصلك (أ أو ب) فقط
- تأكد من عدد الأسئلة انها أربعة أسئلة
- الكتابة تكون بالقلم الأزرق الجاف
- الالتزام بالهدوء في قاعة الاختبار
- تأكد من جوابك على جميع الأسئلة
- الخروج من قاعة الاختبار بعد مضي نصف الوقت

(ب) ضع علامة (√) أمام العبارة الصحيحة وعلامة (x) أمام العبارة الخاطئة فيما يلي؟

١	يقع وطني المملكة العربية السعودية في الاقليم الاستوائي	×
٢	تمتلك دول مجلس التعاون موارد اقتصادية لها تأثير كبير في الاقتصاد العالمي	√
٣	من نتائج الالتزام بالأنظمة تحمل المسؤولية	√
٤	يعتبر الجرانيت والبازلت من الصخور المتحولة	×
٥	يوجد في المملكة براكين قديمة	√
٦	يعقد قادة دول مجلس التعاون اجتماعاتهم مرة كل ثلاثة اشهر	×
٧	الالتواءات والانكسارات من العمليات الداخلية الباطنية لتشكيل سطح الارض	√

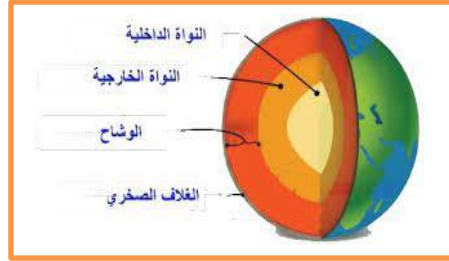
(ب) عزيزي الطالب من خلال دراستك لإنجازات مجلس التعاون صنف مايلي حسب الجدول؟

دعم القضية الفلسطينية - درع الجزيرة - حرية انتقال السلع

انجازات عسكرية	انجازات سياسية	انجازات اقتصادية	اخرى
درع الجزيرة	دعم القضية الفلسطينية	حرية انتقال السلع	

(ج) تعرف على الصور ادناه مستعيناً بالشكل المجاور؟

طبقات الارض
بالون الطقس
الصخور المتحولة



طبقات الارض



بالون الطقس

(د) صحح ماتحته خط في العبارات التالية ؟

م	العبارة	التصحيح
١	ينقسم الغلاف الجوي الى <u>ثمان</u> طبقات	خمس
٢	تقع دول مجلس التعاون في الجزء <u>الشمالي الشرقي</u> من قارة آسيا	الجنوبي الغربي

(أ) أختَر الإجابة الصحيحة وذلك بوضع دائرة حول الخيار المناسب فيما يأتي ؟

١	هي الوسط الذي يحيط بالمخلوق الحي فيؤثر فيه ويتأثر به :					
أ	التجوية	ب	التعرية	ج	التصحّر	د
٢	كل مايلي من انواع الرياح اليومية ماعدا :					
أ	نسيم البر	ب	نسيم البحر	ج	العكسية	د
٣	الغاز الذي يشكل النسبة الأكبر في الغلاف الجوي هو :					
أ	النيتروجين	ب	الاكسجين	ج	الكربون	د
٤	وصف حالة الجو في مدة زمنية قصيرة :					
أ	المناخ	ب	الرطوبة	ج	الضغط الجوي	د
٥	تأسس مجلس التعاون الخليجي عام :					
أ	١٤٠٠هـ	ب	١٤٠١هـ	ج	١٤٠٢هـ	د
٦	من أهم مظاهر السطح في دول مجلس التعاون هضبة نجد وتقع في :					
أ	المملكة العربية السعودية	ب	الكويت		البحرين	سلطنة عمان

(ب) من ابرز التحديات التي تواجه دول مجلس التعاون (البطالة) اكتب بأسلوبك عن هذا الموضوع ؟

البطالة هي ألا يجد المرء عملا وهو قادر عليه وراغب فيه ولقد قامت دول مجلس التعاون بإجراءات للحد من البطالة ومنها (توطین الوظائف و رفع الاجور و التدريب المنتهي بالتوظيف واقتصار بعض المهن على المواطن)

(ج) ضع الرقم الموجود امام المجموعة الأولى امام مايناسبه من المجموعة الثانية ؟

الرقم	المجموعة الاولى	المجموعة الثانية
١	الترمومتر	جهاز قياس مقدار الضغط الجوي
٢	السيسموجراف	جهاز قياس الرطوبة
٣	الانيمومتر	جهاز قياس درجات الحرارة في الجو
٤	الهيجرومتر	جهاز رصد الزلازل
		جهاز قياس سرعة الرياح

السؤال الثالث:

(أ) قارن بين النظام واللائحة وفق الجدول ؟

اللائحة	وجه المقارنة	النظام
مفصل	السمة	عام
قرار مجلس الوزراء	أداة الإصدار	مرسوم ملكي
كثير	التعديل	قليل جدا

(ب) أكمل خرائط المفاهيم التالية ؟



(ج) اكتب وعبر بأسلوبك ورأيك بإيجاز حول المواضيع التالية ؟

١ - جهود حكومة وطني المملكة العربية السعودية في المحافظة على البيئة :
إنشاء المحميات الطبيعية و مبادرة السعودية الخضراء

٢ - النتائج المترتبة على تطبيق نظام مكافحة الرشوة :

تحقيق مبدأ العدالة و تكافؤ الفرص والمساواة بين افراد المجتمع .

(د) اذكر السبب لما يأتي (بم تفسر) ؟

- ١ - أهمية طبقة الأوزون للكائنات الحية : **يحميها من الأشعة الضارة القادمة من الشمس .**
- ٢ - تعد درجة الحرارة اهم عناصر المناخ : **لأنها تؤثر في بقية العناصر الأخرى . .**

انتهت الاسئلة

تمنيتي للجميع بالتوفيق والنجاح

مدير المدرسة :

معلم المادة :

الدرجة كتابة	الدرجة بعد المراجعة	المراجع	الدرجة كتابة	الدرجة	المصحح
		التوقيع		٤٠	التوقيع
	٤٠			٤٠	

السؤال الأول: اختر الإجابة الصحيحة فيما يأتي : (١٠ درجات)

١	يتكون من قادة الدول الاعضاء ويعقد اجتماعاته مرة كل سنة هو :	١٣
أ)	المجلس الأعلى	ب) المجلس الوزاري
ب)	المجلس الوزاري	ج) الأمانة العامة
ج)	الأمانة العامة	د) المجلس الاجتماعي
د)	المجلس الاجتماعي	
٢	تكوين قوة عسكرية موحدة للتدخل السريع باسم درع الجزيرة من الإنجازات :	
أ)	العسكرية والأمنية	ب) السياسية
ب)	السياسية	ج) الاقتصادية
ج)	الاقتصادية	د) الاجتماعية
د)	الاجتماعية	
٣	تعيش فيها المخلوقات الحية وهي طبقة السحب والعواصف والأمطار تعرف بطبقة :	
أ)	الستراتوسفير	ب) التروبوسفير
ب)	التروبوسفير	ج) التيرموسفير
ج)	التيرموسفير	د) الإكسوسفير
د)	الإكسوسفير	
٤	أنشئ مجلس التعاون لدول الخليج العربية عام :	
أ)	١٤٠٠هـ	ب) ١٤٠١هـ
ب)	١٤٠١هـ	ج) ١٤٠٢هـ
ج)	١٤٠٢هـ	د) ١٤٠٣هـ
د)	١٤٠٣هـ	
٥	البركان الذي لا يحتمل انفجاره هو بركان :	
أ)	نشط	ب) جديد
ب)	جديد	ج) خامد
ج)	خامد	د) هادئ
د)	هادئ	
٦	من اسباب حدوث الزلازل هو :	
أ)	سرعة الرياح	ب) دوران الأرض
ب)	دوران الأرض	ج) انصهار الصخور
ج)	انصهار الصخور	د) انخفاض درجة الحرارة
د)	انخفاض درجة الحرارة	
٧	تقل الرطوبة أو تنعدم في مدينة :	
أ)	جدة	ب) الدمام
ب)	الدمام	ج) جيزان
ج)	جيزان	د) الرياض
د)	الرياض	
٨	من الأنظمة الأساسية للدولة نظام :	
أ)	حماية الطفل	ب) مكافحة الجرائم
ب)	مكافحة الجرائم	ج) الهيئة العامة للغذاء والدواء
ج)	الهيئة العامة للغذاء والدواء	د) مجلس الوزراء
د)	مجلس الوزراء	
٩	الغاز الذي يشكل نسبة أكثر في الغلاف الجوي بمقدار ٧٨% هو :	
أ)	النيتروجين	ب) ثاني اكسيد الكربون
ب)	ثاني اكسيد الكربون	ج) الأوكسجين
ج)	الأوكسجين	د) الهيدروجين
د)	الهيدروجين	
١٠	ينقسم الإقليم الصحراوي إلى :	
أ)	الحار و البارد	ب) المعتدل و البارد
ب)	المعتدل و البارد	ج) الدافئ و البارد
ج)	الدافئ و البارد	د) الدافئ و المعتدل
د)	الدافئ و المعتدل	

ب) عدد ثلاثة من الخصائص المشتركة بين سكان دول مجلس التعاون ؟ (٣ درجات)

(١)

(٢)

(٣)

السؤال الثاني :

(١٠ درجات)

١٠

ضع علامة (√) أمام العبارة الصحيحة ، وعلامة (x) أمام العبارة الخاطئة فيما يلي :

- (١) فوائد اجتماعية وهي التي تتعلق بالحماية والمحافظة على الفرد والمجتمع .
- (٢) تقع دول مجلس التعاون في الجزء الجنوبي الغربي من قارة آسيا .
- (٣) الأنظمة الأساسية هي التي تختص بالموضوعات العامة .
- (٤) لكي تعطي مقاييس حرارة الجو بدقة عالية فلا بد من وضع الجهاز تحت اشعة الشمس .
- (٥) تنشر الأنظمة السعودية في جريدة أم القرى .
- (٦) تزداد طبقات الغلاف الجوي سمكاً كلما بعدت عن سطح الأرض .
- (٧) التعرية من العمليات الخارجية لتشكيل سطح الأرض .
- (٨) في المملكة العربية السعودية براكين قديمة .
- (٩) يقع الجبل الأخضر في المملكة العربية السعودية .
- (١٠) من الآثار السلبية للتجوية والتعرية تأمين مأوى تعيش فيه الحيوانات .

السؤال الثالث : أ (وصل الفقرة (ب) بما يناسبها من الفقرة (أ))

(١٠ درجات)

م	(أ)	الإجابة	(ب)
١	من العوامل الطبيعية الداخلية السريعة		الغلاف المائي
٢	من العوامل الطبيعية الداخلية البطيئة		الحيوان
٣	صخور تحولت عن اصلها الرسوبي أو الناري بفعل الحرارة والضغط		الرياح
٤	صخور منصهرة اندفعت من باطن الأرض ثم تصلبت		الإعصار
٥	جهاز لقياس سرعة الرياح		الباروجراف
٦	جهاز لقياس الضغط الجوي		الأنيمومتر
٧	عناصر غير حية		الصخور النارية
٨	عناصر حية		الصخور المتحولة
٩	تيارات هوائية تنتقل من مناطق الضغط المرتفع إلى مناطق الضغط المنخفض		الانكسارات
١٠	عاصفة هوائية شديدة حلزونية الشكل قد تزيد سرعتها على ١١٩ كم في الساعة		الزلازل

اجب عن الأسئلة التالية : أ (عرف الغلاف الجوي ؟) (درجتان)

هو

ب (أكمل الفراغات التالية :) (٣ درجات)

* من عناصر المناخ في المملكة العربية السعودية : و

ج (من المشكلات التي ظهرت بعد النمو الاقتصادي والتطور السريع لدول مجلس التعاون. اذكر اثنين فقط :) (درجتان)

- ١

- ٢

نموذج إجابة



نموذج إجابة الفصل الدراسي الثاني (الدور الأول) - 138

السؤال الأول: اختر الإجابة الصحيحة فيما يأتي :	(10 درجات)
1	يتكون من قادة الدول الاعضاء ويعقد اجتماعاته مرة كل سنة هو :
(أ)	المجلس الأعلى
(ب)	المجلس الوزاري
(ج)	الأمانة العامة
(د)	المجلس الاجتماعي
2	تكوين قوة عسكرية موحدة للتدخل السريع باسم درع الجزيرة من الإنجازات :
(أ)	العسكرية والأمنية
(ب)	السياسية
(ج)	الاقتصادية
(د)	الاجتماعية
3	تعيش فيها المخلوقات الحية وهي طبقة السحب والعواصف والأمطار تعرف بطبقة :
(أ)	الستراتوسفير
(ب)	التروبوسفير
(ج)	الثيرموسفير
(د)	الإكسوسفير
4	أنشئ مجلس التعاون لدول الخليج العربية عام :
(أ)	1400هـ
(ب)	1401هـ
(ج)	1402هـ
(د)	1403هـ
5	البركان الذي لا يحتمل انفجاره هو بركان :
(أ)	نشط
(ب)	جديد
(ج)	خامد
(د)	هادئ
6	من اسباب حدوث الزلازل هو :
(أ)	سرعة الرياح
(ب)	دوران الأرض
(ج)	انصهار الصخور
(د)	انخفاض درجة الحرارة
7	نقل الرطوبة أو تنعدم في مدينة :
(أ)	جدة
(ب)	الدمام
(ج)	جيزان
(د)	الرياض
8	من الأنظمة الأساسية للدولة نظام :
(أ)	حماية الطفل
(ب)	مكافحة الجرائم
(ج)	الهيئة العامة للغذاء والدواء
(د)	مجلس الوزراء
9	الغاز الذي يشكل نسبة أكثر في الغلاف الجوي بمقدار 78% هو :
(أ)	النيتروجين
(ب)	ثاني اكسيد الكربون
(ج)	الأكسجين
(د)	الهيدروجين
10	ينقسم الإقليم الصحراوي إلى :
(أ)	الحار والبارد
(ب)	المعتدل والبارد
(ج)	الدافئ والبارد
(د)	الدافئ والمعتدل

(ب) عدد ثلاثة من الخصائص المشتركة بين سكان دول مجلس التعاون ؟ (3 درجات)

(1) دينهم واحد وهو الإسلام .

(2) أصولهم واحدة .

(3) لغتهم واحدة وهي اللغة العربية.

تابع إجابة ب (دولهم متجاورة وتشرف على الخليج العربي , يجمع بينهم تاريخ مشترك , عاداتهم وتقاليدهم متقاربة , تشابه أنشطتهم الاقتصادية)

السؤال الثاني :

(10 درجات)

10

10

ضع علامة (√) أمام العبارة الصحيحة , وعلامة (x) أمام العبارة الخاطئة فيما يلي :

- (1) فوائد اجتماعية وهي التي تتعلق بالحماية والمحافظة على الفرد والمجتمع . (√)
- (2) تقع دول مجلس التعاون في الجزء الجنوبي الغربي من قارة آسيا . (√)
- (3) الأنظمة الأساسية هي التي تختص بالموضوعات العامة . (√)
- (4) لكي تعطي مقاييس حرارة الجو بدقة عالية فلا بد من وضع الجهاز تحت اشعة الشمس . (x)
- (5) تنشر الأنظمة السعودية في جريدة أم القرى . (√)
- (6) تزداد طبقات الغلاف الجوي سمكاً كلما بعدت عن سطح الأرض . (√)
- (7) التعرية من العمليات الخارجية لتشكيل سطح الأرض . (√)
- (8) في المملكة العربية السعودية براكين قديمة . (√)
- (9) يقع الجبل الأخضر في المملكة العربية السعودية . (x)
- (10) من الآثار السلبية للتجوية والتعرية تأمين مأوى تعيش فيه الحيوانات . (x)

السؤال الثالث : أ) وصل الفقرة (ب) بما يناسبها من الفقرة (أ)

(10 درجات)

17

17

م	(أ)	الإجابة	(ب)
1	من العوامل الطبيعية الداخلية السريعة	7	الغلاف المائي
2	من العوامل الطبيعية الداخلية البطيئة	8	الحيوان
3	صخور تحولت عن اصلها الرسوبي أو الناري بفعل الحرارة والضغط	9	الرياح
4	صخور منصهرة اندفعت من باطن الأرض ثم تصلبت	10	الإعصار
5	جهاز لقياس سرعة الرياح	6	الباروجراف
6	جهاز لقياس الضغط الجوي	5	الأنيمومتر
7	عناصر غير حية	4	الصخور النارية
8	عناصر حية	3	الصخور المتحولة
9	تيارات هوائية تنتقل من مناطق الضغط المرتفع إلى مناطق الضغط المنخفض	2	الانكسارات
10	عاصفة هوائية شديدة حلزونية الشكل قد تزيد سرعتها على 119 كم في الساعة	1	الزلازل

ب اجب عن الأسئلة التالية : أ) عرف الغلاف الجوي ؟

(درجتان)

الغلاف الجوي هو / غلاف غازي يحيط بالكرة الأرضية ليس له لون ولا طعم ولا رائحة .

ب) أكمل الفراغات التالية :

(3 درجات)

* من عناصر المناخ في المملكة العربية السعودية : الحرارة و الضغط الجوي و الرياح . (الرطوبة)

ج) من المشكلات التي ظهرت بعد النمو الاقتصادي والتطور السريع لدول مجلس التعاون. اذكر اثنين فقط :

(درجتان)

1- العمالة الوافدة .

2- البطالة .

(التلوث البيئي , التصحر)