

تم تحميل وعرض المادة من :



موقع واجباتي
www.wajibati.net

موقع واجباتي منصة تعليمية تساهم بنشر حل المناهج الدراسية بشكل متميز لترتقي بمجال التعليم على الإنترنت ويستطيع الطلاب تصفح حلول الكتب مباشرة لجميع المراحل التعليمية المختلفة

الصف: ثالث ابتدائي
اليوم :
التاريخ : / / ١٤٤٤ هـ
الزمن : ساعة ونصف فقط



المملكة العربية السعودية
وزارة التعليم
إدارة تعليم منطقة تبوك

اختبار نهاية الفصل الدراسي الثالث (الدور الأول)

مادة **العلوم** للصف الثالث ابتدائي

للعام الدراسي ١٤٤٤ هـ

رقم الجلوس :

اسم الطالبة :

رقم السؤال	الدرجة رقما	الدرجة كتابة	المصححة	المراجعة	المدققة
السؤال الأول					
السؤال الثاني					
السؤال الثالث					

درجة الاختبار النهائية: فقط لا غير من ٤٠ درجة





النجاح ليس إنجازاً بقدر ما هو قدرة مستمرة على الإنجاز





السؤال الأول: اختاري الإجابة الصحيحة في كلا مما يلي:

١٠





١- الأداة التي تستخدم لقياس الكتلة هي:

أ		ب		ج		د	
---	---	---	---	---	---	---	---





٢- تمثل جسيمات المادة الغازية:

أ		ب		ج		د	
---	---	---	---	---	---	---	---





٣- الأداة المستخدمة لفصل مخلوط من الأرز والدقيق هي:

أ		ب		ج		د	
---	--	---	--	---	--	---	--





٤- أي التغيرات التالية تغير كيميائي:

أ		ب		ج		د	
---	---	---	---	---	---	---	---





٥- الآلة البسيطة التي تدخل في صناعة المصعد الكهربائي هي:

أ		ب		ج		د	
---	---	---	---	---	---	---	---

٦- يمثل تحول الطاقة الكهربائية إلى صوتية:

أ		ب		ج		د	
---	---	---	---	---	---	---	---

٧- أي أصوات الحيوانات التالية حاد؟

أ		ب		ج		د	
---	---	---	---	---	---	---	---

٨- ماذا يحدث إذا سقط الضوء على مرآة؟

أ	ينعكس	ب	ينكسر	ج	يمتص	د	يتشتت
---	-------	---	-------	---	------	---	-------

٩- يعد ورق الألمونيوم:

أ	جسم شفاف	ب	جسم غير شفاف	ج	جسم شبه شفاف	د	ظل
---	----------	---	--------------	---	--------------	---	----

١٠- تصدر الأصوات عن الشيء عندما:

أ	يتأرجح	ب	ينقلب	ج	يهتز	د	ينثني
---	--------	---	-------	---	------	---	-------

السؤال الثاني:

أ- ضعي المصطلحات التالية في مكانها المناسب:

(الاجسام الشفافة - الشغل - المحلول - التغير الكيميائي - المادة - السائل)

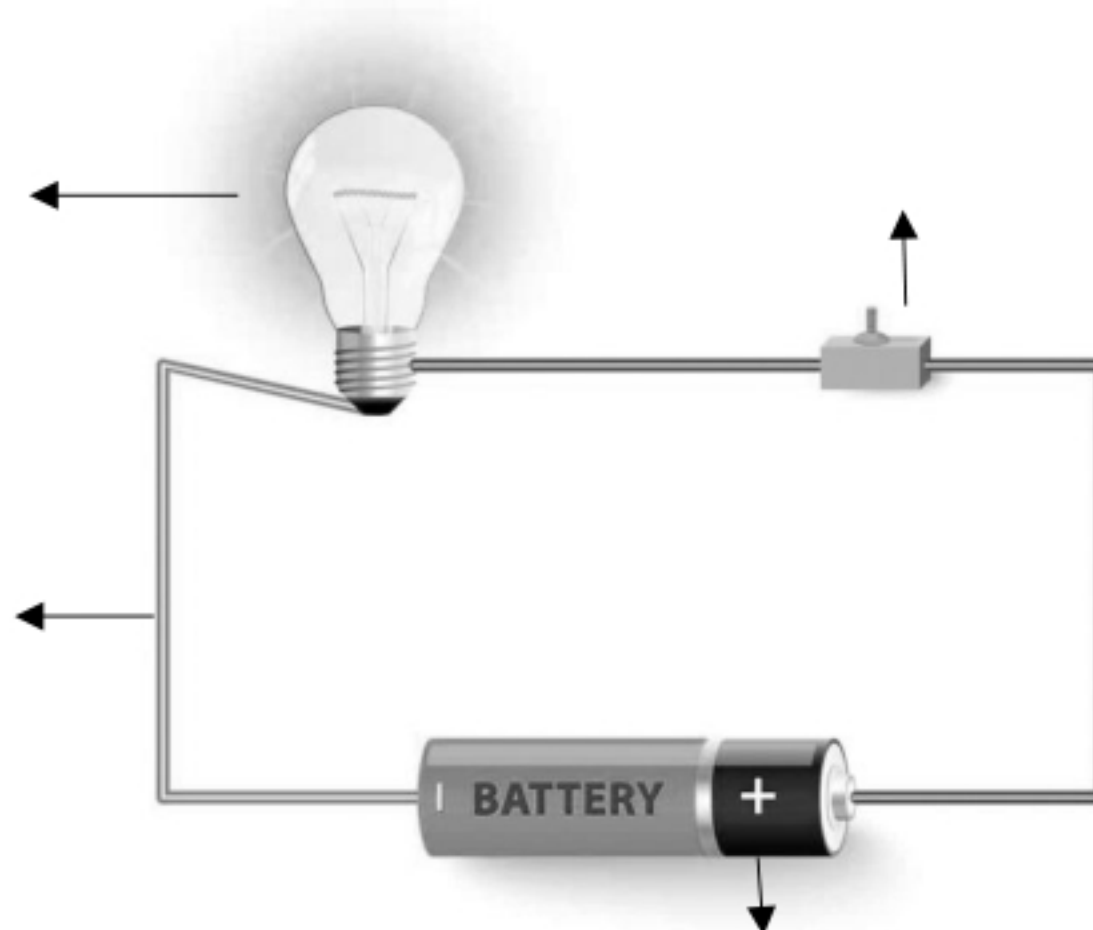
- ١- (.....) كل شي له كتلة ويشغل حيزاً.
- ٢- (.....) اجسام تسمح بنفاذ معظم الضوء من خلالها في خطوط مستقيمة.
- ٣- (.....) تغير ينتج عنه مواد جديدة.
- ٤- (.....) القوة المبذولة لتحريك جسم ما مسافة معينة.
- ٥- (.....) نوع من أنواع المخاليط تمتزج فيه المواد امتزاج تام.
- ٦- (.....) مادة لها حجم ثابت وشكل غير ثابت.

ب- ضعي علامة (✓) او (✗) امام العبارات التالية:

١	العناصر هي وحدة بناء المادة.
٢	تصنع اسلاك الكهرباء من النحاس لأنها جيدة التوصيل.
٣	المادة التي تنتشر هي المادة الصلبة.
٤	التغير الفيزيائي تغير يحدث في شكل المادة دون ان ينتج مادة جديدة.
٥	الاجسام الشفافة لا تسمح بنفاذ الضوء من خلالها.
٦	المادة الصلبة لها شكل وحجم ثابت.
٧	يقاس حجم السوائل باستخدام المخبر المدرج.
٨	الصوت والضوء من اشكال الطاقة.
٩	يعرف المسار المغلق الذي تسلكه الكهرباء بالدائرة الكهربائية
١٠	ينتقل الصوت في الفضاء.

ج- ضعي البيانات التالية في اماكنها الصحيحة:








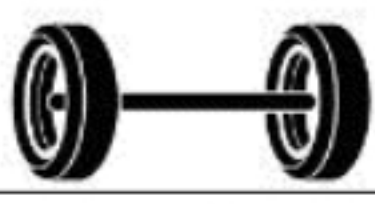
(مصباح - مفتاح كهربائي - اسلاك - بطارية)



السؤال الثالث:

رقمي العمود الاخر بما يناسبه في العمود الأول:

١٠

	
	
	
	
	
	
	
الكيلوجرام	
	
الليتر	

١	يحول الطاقة الكهربائية الى حركية
٢	عضو السمع في الانسان
٣	البرغي
٤	يبذل شغلاً
٥	انكسار الضوء
٦	وحدة قياس الحجم
٧	العجلة والمحور
٨	لا يبذل شغلاً
٩	وحدة قياس الكتلة
١٠	مادة غازية

انتهت الاسئلة
دعواتي لكن بالتوفيق والنجاح
العلمة: أمل الزهراني

الصف: ثالث ابتدائي
اليوم:
التاريخ: / / ١٤٤٤ هـ
الزمن: ساعة ونصف فقط

نموذج إجابة

المملكة العربية السعودية
وزارة التعليم
إدارة تعليم منطقة تبوك

نموذج اجابة

اختبار نهاية الفصل الدراسي الثالث (الدور الأول)

مادة العلوم للصف الثالث ابتدائي

للعام الدراسي ١٤٤٤ هـ

رقم الجلوس :

اسم الطالبة :

رقم السؤال	الدرجة رقما	الدرجة كتابة	المصححة	المراجعة	المدققة
السؤال الأول					
السؤال الثاني					
السؤال الثالث					

درجة الاختبار النهائية: فقط لا غير من ٤٠ درجة






النجاح ليس إنجازاً بقدر ما هو قدرة مستمرة على الإنجاز


السؤال الأول: اختاري الإجابة الصحيحة في كلا مما يلي:

١٠





١- الأداة التي تستخدم لقياس الكتلة هي:

أ		ب		ج		د	
---	---	---	---	---	---	---	---





٢- تمثل جسيمات المادة الغازية:

أ		ب		ج		د	
---	---	---	---	---	---	---	---





٣- الأداة المستخدمة لفصل مخلوط من الأرز والدقيق هي:

أ		ب		ج		د	
---	--	---	--	---	--	---	--





٤- أي التغيرات التالية تغير كيميائي:

أ		ب		ج		د	
---	---	---	---	---	---	---	---





٥- الآلة البسيطة التي تدخل في صناعة المصعد الكهربائي هي:

أ		ب		ج		د	
---	---	---	---	---	---	---	---

٦- يمثل تحول الطاقة الكهربائية إلى صوتية:

أ		ب		ج		د	
---	---	---	---	---	---	---	---

٧- أي أصوات الحيوانات التالية حاد؟

أ		ب		ج		د	
---	---	---	---	---	---	---	---

٨- ماذا يحدث إذا سقط الضوء على مرآة؟

أ	ينعكس	ب	ينكسر	ج	يمتص	د	يتشتت
---	--------------	---	-------	---	------	---	-------

٩- يعد ورق الألمونيوم:

أ	جسم شفاف	ب	جسم غير شفاف	ج	جسم شبه شفاف	د	ظل
---	----------	---	---------------------	---	--------------	---	----

١٠- تصدر الأصوات عن الشيء عندما:

أ	يتأرجح	ب	ينقلب	ج	يهتز	د	ينثني
---	--------	---	-------	---	-------------	---	-------

السؤال الثاني:

أ- ضعي المصطلحات التالية في مكانها المناسب:

(الاجسام الشفافة - الشغل - المحلول - التغير الكيميائي - المادة - السائل)

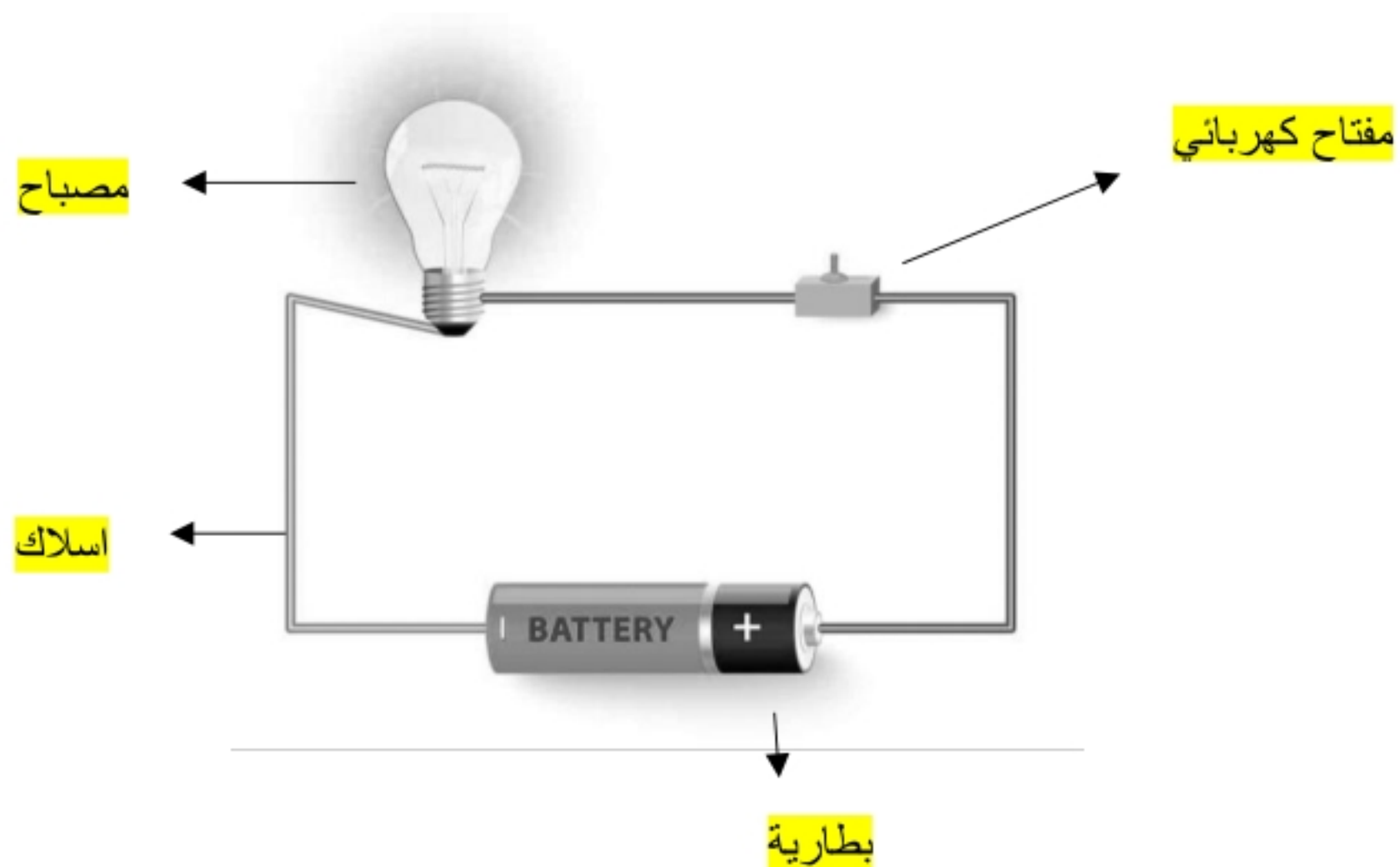
- ١- (**المادة**) كل شي له كتلة ويشغل حيزاً.
- ٢- (**الاجسام الشفافة**) اجسام تسمح بنفاذ معظم الضوء من خلالها في خطوط مستقيمة.
- ٣- (**التغير الكيميائي**) تغير ينتج عنه مواد جديدة.
- ٤- (**الشغل**) القوة المبذولة لتحريك جسم ما مسافة معينة.
- ٥- (**المحلول**) نوع من أنواع المخاليط تمتزج فيه المواد امتزاج تام.
- ٦- (**السائل**) مادة لها حجم ثابت وشكل غير ثابت.

ب- ضعي علامة (✓) او (✗) امام العبارات التالية:

✓	العناصر هي وحدة بناء المادة.	١
✓	تصنع اسلاك الكهرباء من النحاس لأنها جيدة التوصيل.	٢
✗	المادة التي تنتشر هي المادة الصلبة.	٣
✓	التغير الفيزيائي تغير يحدث في شكل المادة دون ان ينتج مادة جديدة.	٤
✗	الاجسام الشفافة لا تسمح بنفاذ الضوء من خلالها.	٥
✗	المادة الصلبة لها شكل وحجم ثابت.	٦
✓	يقاس حجم السوائل باستخدام المخبر المدرج.	٧
✓	الصوت والضوء من اشكال الطاقة.	٨
✓	يعرف المسار المغلق الذي تسلكه الكهرباء بالدائرة الكهربائية.	٩
✗	ينتقل الصوت في الفضاء.	١٠

ج- ضعي البيانات التالية في اماكنها الصحيحة:








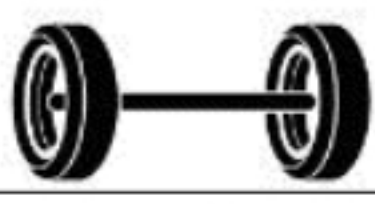
(مصباح - مفتاح كهربائي - اسلاك - بطارية)



السؤال الثالث:

رقمي العمود الاخر بما يناسبه في العمود الأول:

١٠

	٢
	١٠
	٨
	١
	٣
	٥
	٤
الكيلوجرام	٩
	٧
الليتر	٦

١	يحول الطاقة الكهربائية الى حركية
٢	عضو السمع في الانسان
٣	البرغي
٤	يبذل شغلاً
٥	انكسار الضوء
٦	وحدة قياس الحجم
٧	العجلة والمحور
٨	لا يبذل شغلاً
٩	وحدة قياس الكتلة
١٠	مادة غازية

انتهت الاسئلة
دعواتي لكن بالتوفيق والنجاح
العلمة: أمل الزهراني

المجموع الكلي		المملكة العربية السعودية وزارة التعليم الإدارة العامة للتعليم بمنطقة
		مدرسة /
٤٠		
اختبار مادة العلوم (الدور الأول) الفصل الدراسي الثالث للعام الدراسي - ١٤٤٤ هـ		

المادة	العلوم	الصف	الثالث
اليوم	التاريخ	زمن الاجابة	ساعة ونصف
اسم الطالبة			
رقم الجلوس	()		

رقم السؤال	الدرجة المستحقة		اسم المصحح / ة	اسم المراجع / ة	اسم المدقق / ة
	الدرجة رقماً	الدرجة كتابة			
السؤال الأول					
السؤال الثاني					
السؤال الثالث					
السؤال الرابع					
المجموع					



لسؤال الأول :-

١٥

(نختار الاجابة الصحيحة فيما يلي :-

١- أي شيء له كتلة وحجم .	٢- عضو السمع في الانسان .
أ- المادة	أ- العين
ب - التغيير الفيزيائي	ب - الاذن
ج - الخاصية	ج - القلب
٣- ينتج عن اهتزاز الأجسام .	٤- نستخدم لفصل الحديد عن المواد الاخرى .
أ- الصوت	أ- غربال
ب - القوى	ب - مغناطيس
ج - المادة	ج - تبخير
٥- خليط مكون من مادتين مختلفتين أو أكثر .	٦- عجلة يلف حولها سلك قوي .
أ- مخلوط	أ- الرافعة
ب - محلول	ب - سطح مائل
ج - ماء	ج - البكرة
٧- ينتشر الضوء في خطوط .	٨- مادة لها شكل ثابت وحجم ثابت .
أ- مستقيمة	أ- صلبة
ب - متعرجة	ب - سائلة
ج - منكسرة	ج - غازية
٩- إذا سقط الضوء على مرآه فإنه .	١٠- وحدة بناء المادة .
أ- ينعكس	أ- العنصر
ب - ينكسر	ب - الخاصية
ج - ينحرف	ج - المحلول
١١- أي المواد التالية ينتقل فيها الصوت ببطء .	١٢- يحول الطاقة الكهربائية الى صوتية
أ- الماء	أ- الجرس
ب - الصخر	ب - الثلاجة
ج - الهواء	ج - المروحة

ب) نحدد حسب الصور وحدات القياس المعيارية التالية (اللتر _ الكيلو جرام _ المتر)



يتبع

سؤال الثاني :-

١٠

(ما المصطلح العلمي المناسب للعبارات التالية :-

(الكتلة - الشغل - الآلة البسيطة - الضوء - الدائرة الكهربائية)

- ١- (.....) مقدار ما يحتويه الجسم من مادة .
- ٢- (.....) أداة تستخدم لانجاز الاعمال بسهولة .
- ٢- (.....) شكل من أشكال الطاقة نحس به بالعين .
- ٤- (.....) القوة المبذولة لتحريك جسم ما مسافة معينة .
- ٥- (.....) مسار يسمح بمرور التيار الكهربائي من خلاله .

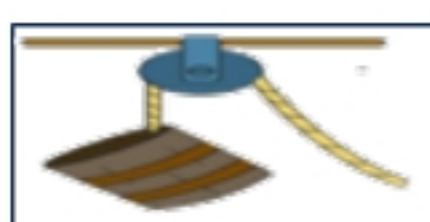
ب) نصنف التغيرات التالية الى (تغير كيميائي . تغير فيزيائي) بوضع اشارته (✓)

التغير	تغير كيميائي	تغير فيزيائي
احتراق الخشب		
تسوس الاسنان		
طبخ الطعام		
تقطيع الورق		
تجمد الماء		

سؤال الثالث :-

١٠

(نكتب تحت كل صورة اسم الآلة البسيطة (الرافعة * البرغي * عجلة ومحور * البكرة)



نضع علامة (✓) أمام العبارات الصحيحة وعلامة (x) أمام العبارات الخاطئة :

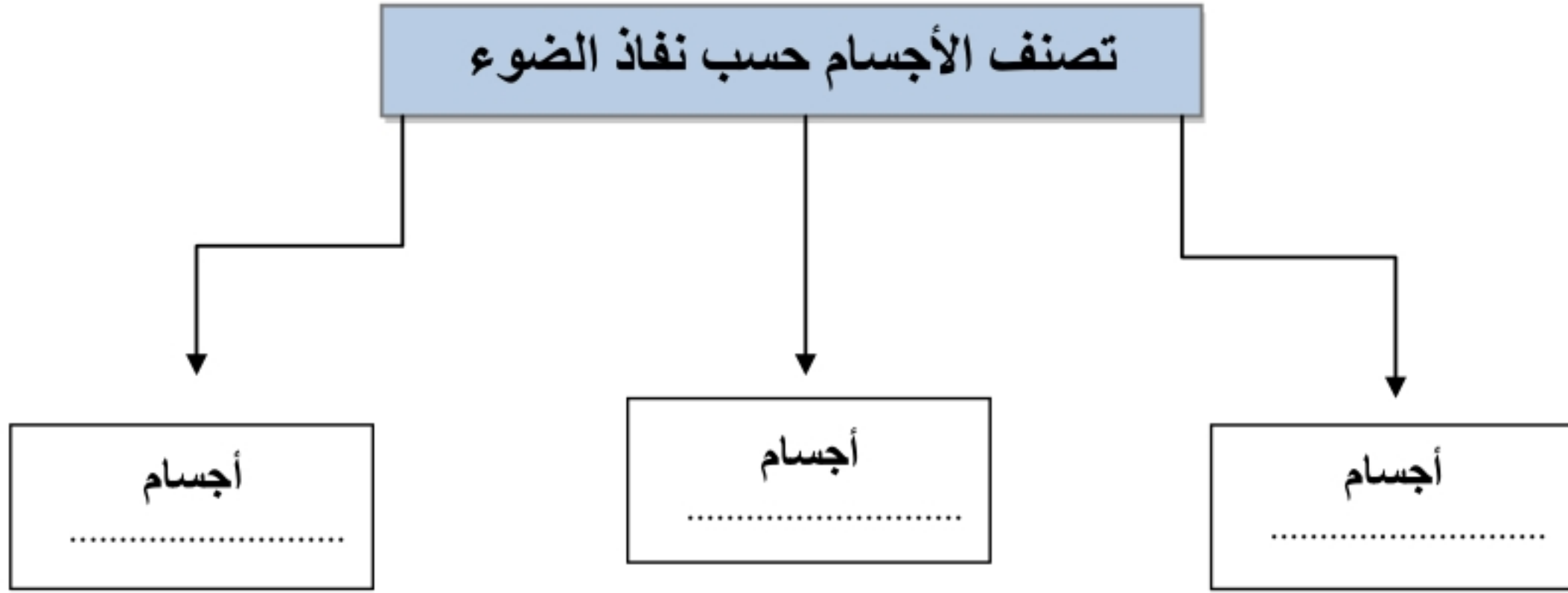
.....	١- من طرق فصل المخلوط الغربال
.....	٢- البرق من الأمثلة على الكهرباء الساكنة
.....	٣- يعد ورق الألمنيوم مثال على جسم غير شفاف
.....	٤- انكسار الضوء هو انحرافه عن مساره
.....	٥- من دلائل حدوث التغير الكيميائي تكون الغاز
.....	٦- تذوب حبيبات السكر في الماء بسرعة اذا تم تبريد المحلول

يتبع

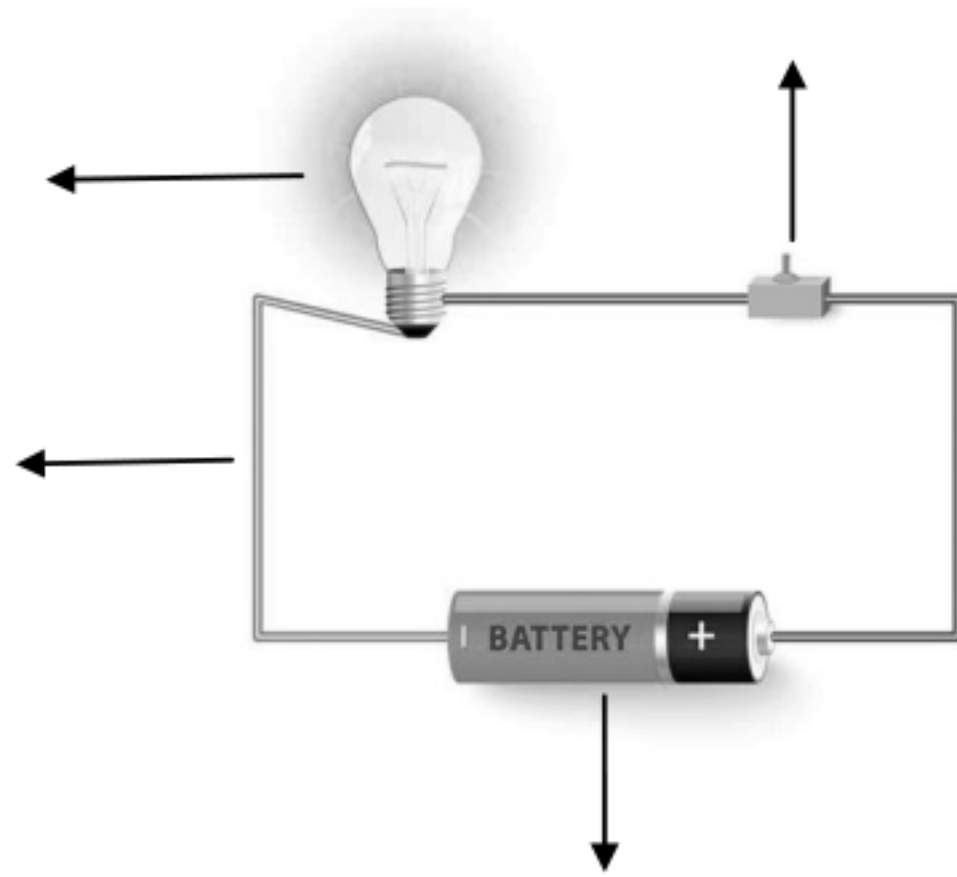
لسؤال الرابع :-

ج) نكمل الخريطة التالية :-

٥



ب) نضع البيانات التالية في مكانها الصحيح (مصباح * أسلاك * بطارية * مفتاح كهربائي)



انتهت الأسئلة ** بالتوفيق



سكره الشمري

المجموع الكلي		المملكة العربية السعودية وزارة التعليم الإدارة العامة للتعليم بمنطقة
		مدرسة /
٤٠		
اختبار مادة العلوم (الدور الأول) الفصل الدراسي الثالث للعام الدراسي - ١٤٤٤ هـ		

نموذج إجابة

المادة	العلوم		الصف	الثالث
اليوم	التاريخ		زمن الاجابة	ساعة ونصف
اسم الطالبة				
رقم الجلوس	()			

اسم السؤال	الدرجة المستحقة		اسم المصحح / المدقق / اسم	اسم المراجع / اسم	اسم المدقق / اسم
	الدرجة رقماً	الدرجة كتابة			
السؤال الأول					
السؤال الثاني					
السؤال الثالث					
السؤال الرابع					
المجموع					



لسؤال الأول :-

١٥

(نختار الاجابة الصحيحة فيما يلي :-

١- أي شيء له كتلة وحجم .	٢- عضو السمع في الانسان .
أ- المادة	أ- العين
ب- التغير الفيزيائي	ب- الاذن
ج- الخاصية	ج- القلب
٣- ينتج عن اهتزاز الأجسام .	٤- نستخدم لفصل الحديد عن المواد الاخرى .
أ- الصوت	أ- غربال
ب- القوى	ب- مغناطيس
ج- المادة	ج- تبخير
٥- خليط مكون من مادتين مختلفتين أو أكثر .	٦- عجلة يلف حولها سلك قوي .
أ- مخلوط	أ- الرافعة
ب- محلول	ب- سطح مائل
ج- ماء	ج- البكرة
٧- ينتشر الضوء في خطوط .	٨- مادة لها شكل ثابت وحجم ثابت .
أ- مستقيمة	أ- صلبة
ب- متعرجة	ب- سائلة
ج- منكسرة	ج- غازية
٩- إذا سقط الضوء على مرآه فإنه .	١٠- وحدة بناء المادة .
أ- ينعكس	أ- العنصر
ب- ينكسر	ب- الخاصية
ج- ينحرف	ج- المحلول
١١- أي المواد التالية ينتقل فيها الصوت ببطء .	١٢- يحول الطاقة الكهربائية الى صوتية
أ- الماء	أ- الجرس
ب- الصخر	ب- الثلجة
ج- الهواء	ج- المروحة

ب) نحدد حسب الصور وحدات القياس المعيارية التالية (اللتر _ الكيلو جرام _ المتر)



الكيلو جرام



المتر



اللتر

يتبع

سؤال الثاني :-

١٠

(ما المصطلح العلمي المناسب للعبارات التالية :-
(الكتلة - الشغل - الالة البسيطة - الضوء - الدائرة الكهربائية)

- ١- (الكتلة) مقدار ما يحتويه الجسم من مادة .
- ٢- (الالة البسيطة) أداة تستخدم لانجاز الاعمال بسهولة .
- ٢- (الضوء) شكل من أشكال الطاقة نحس به بالعين .
- ٤- (الشغل) القوة المبذولة لتحريك جسم ما مسافة معينة .
- ٥- (الدائرة) مسار يسمح بمرور التيار الكهربائي من خلاله .

ب) نصنف التغيرات التالية الى (تغير كيميائي . تغير فيزيائي) بوضع اشارته (✓)

التغير	تغير كيميائي	تغير فيزيائي
احتراق الخشب	✓	
تسوس الاسنان	✓	
طبخ الطعام	✓	
تقطيع الورق		✓
تجمد الماء		✓

سؤال الثالث :-

١٠

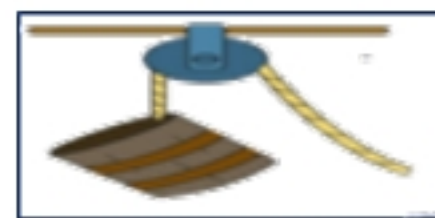
(نكتب تحت كل صورة اسم الالة البسيطة (الرافعة * البرغي * عجلة ومحور * البكرة)



الرافعة



عجلة ومحور



البكرة



البرغي

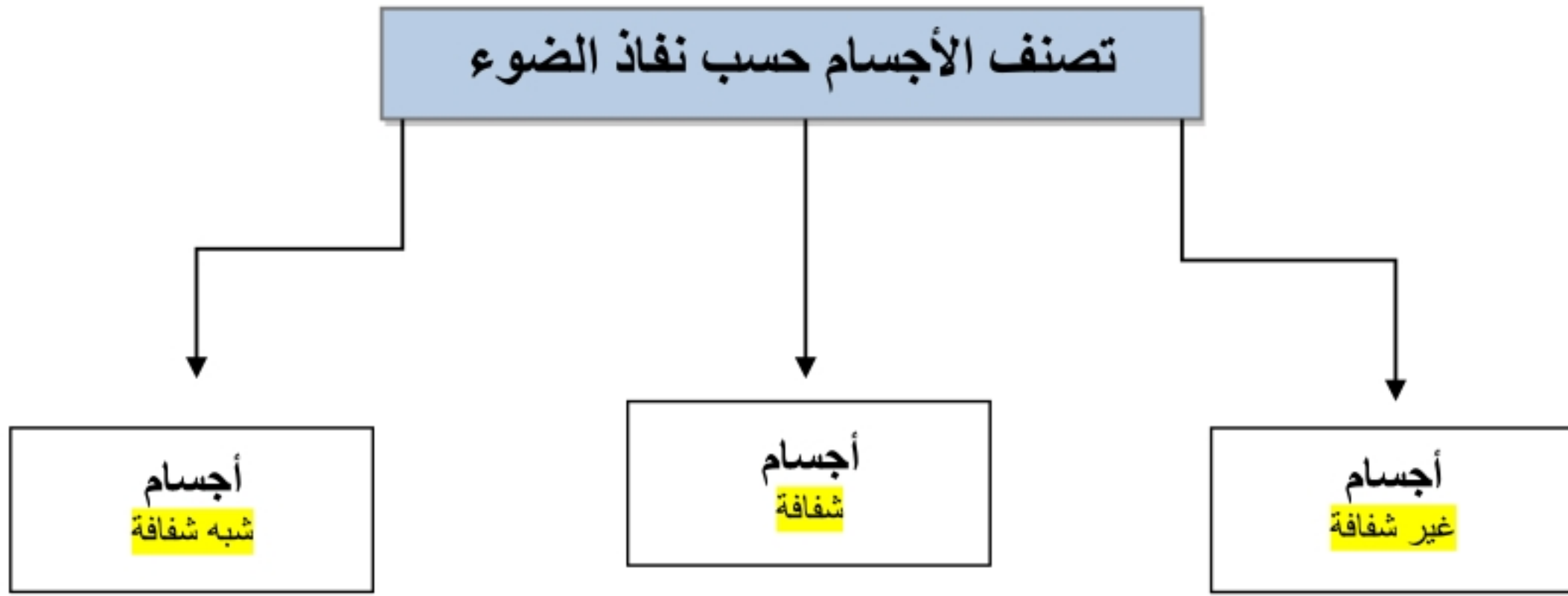
نضع علامة (✓) أمام العبارات الصحيحة وعلامة (x) أمام العبارات الخاطئة :

✓	١- من طرق فصل المخلوط الغربال
✓	٢- البرق من الأمثلة على الكهرباء الساكنة
✓	٣- يعد ورق الالمنيوم مثال على جسم غير شفاف
✓	٤- انكسار الضوء هو انحرافه عن مساره
✓	٥- من دلائل حدوث التغير الكيميائي تكون الغاز
x	٦- تذوب حبيبات السكر في الماء بسرعة اذا تم تبريد المحلول

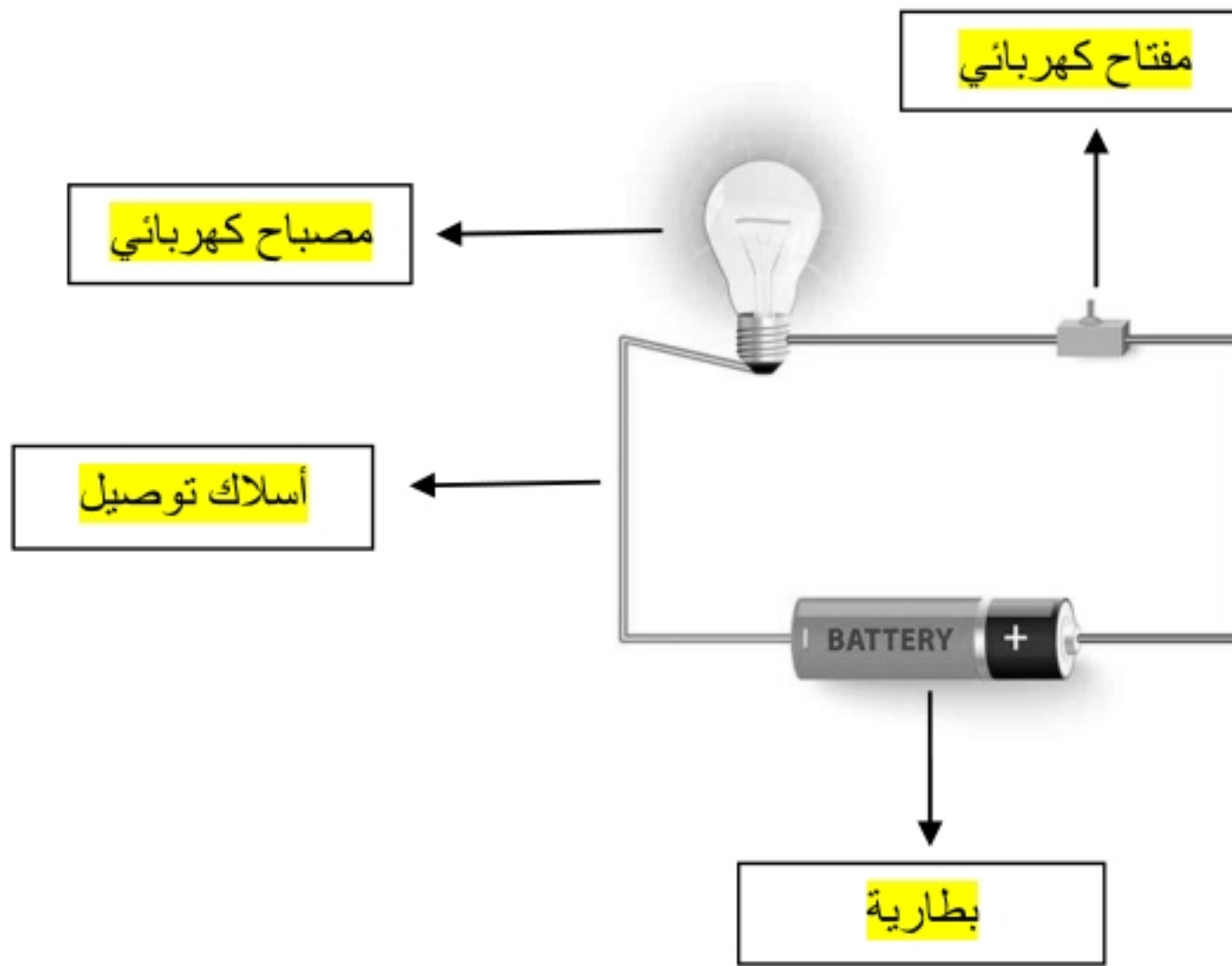
لسؤال الرابع :-

ج) نكمل الخريطة التالية :-

٥



ب) نضع البيانات التالية في مكانها الصحيح (مصباح * أسلاك * بطارية * مفتاح كهربائي)



تم حل النموذج من الأستاذ (البدر)

انتهت الأسئلة ** بالتوفيق



سكره الشمري

اختبار (منتصف الفصل) مادة العلوم للصف الثالث الفصل الدراسي الثالث لعام ١٤٤٤ هـ

السؤال الأول :-

نختار الاجابة الصحيحة فيما يلي :-

١٠

١- وحدة قياس الطول	٢- تصنع أسلاك الكهرباء من النحاس لانه
أ- المتر	أ- هش
ب - كيلوجرام	ب - جيد التوصيل
ج - لتر	ج - ضعيف التوصيل
٣- تتكون المادة من وحدات بنائية تسمى	٤- تتحرك جزيئاتها بحرية
أ- العناصر	أ- الصلبة
ب - المغناطيس	ب - السائلة
ج - الورق	ج - الغازية
٥- من التغيرات الكيميائية للورقة	٦- أي مما يلي يعد محلولاً ؟
أ- تمزيقها	أ- الرمل
ب - القص	ب - النحاس الاصفر
ج - الحرق	ج - السلطة

ب) نضع كل مصطلح علمي في العبارة المناسبة :-

(التغير الفيزيائي ، المادة ، الشغل ، المخلوط)

- ١- (.....) خليط من مادتين مختلفتين مع احتفاظ المواد بخصائصها .
- ٢- (.....) القوة المبذولة لتحريك جسم ما مسافة معينة .
- ٣- (.....) أي شيء له حجم وكتلة .
- ٤- (.....) تغير يحدث في شكل المادة او مظهرها .

السؤال الثاني :-

أ) أيهما يبذل شغلا :-

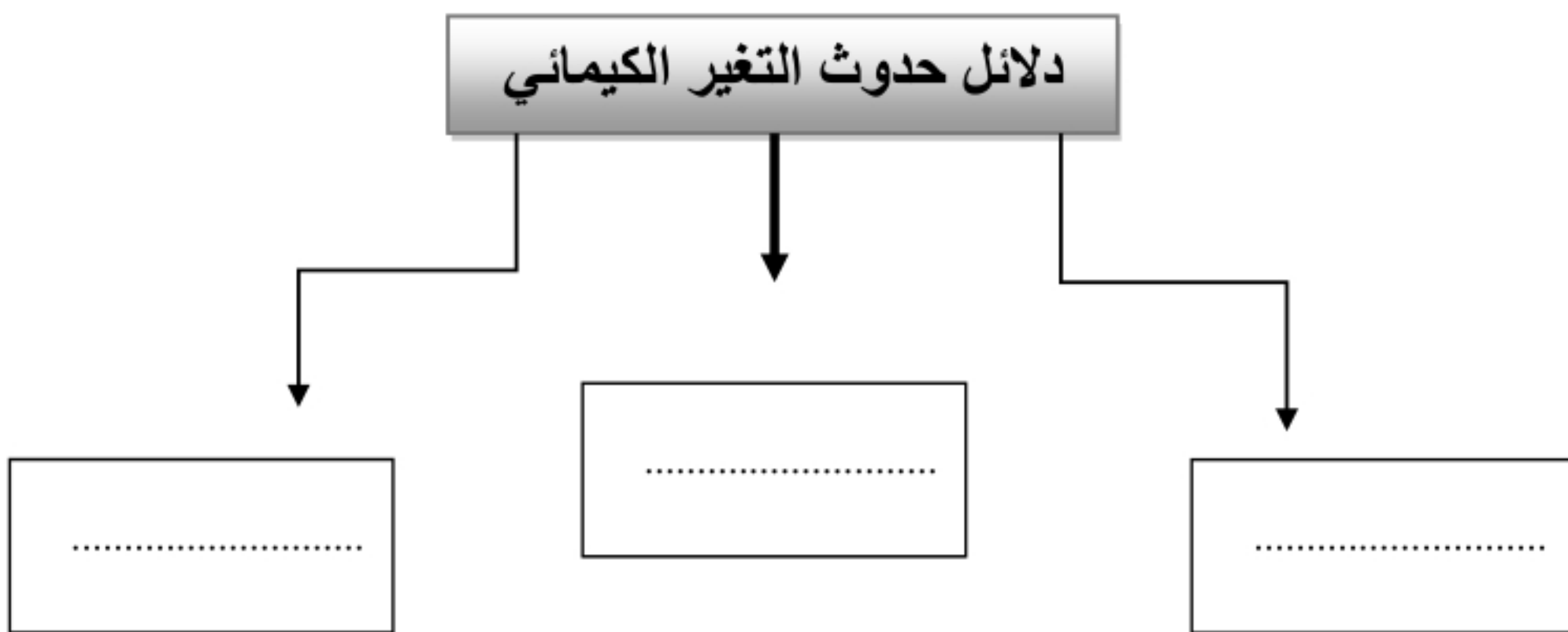
١٠



ب) هل العبارات التالية صحيحة ام خاطئة :

- ١- كلما زادت القوة المؤثرة على الجسم يزداد مقدار الشغل (.....)
- ٢- لخشب والبلاستيك مواد موصلة للحرارة (.....)
- ٣- التغير الذي ينتج عنه مواد جديدة هو التغير الكيميائي (.....)
- ٤- تحريك المادة المذابة يزيد من سرعة ذوبانها في المحلول (.....)
- ٥- المادة الصلبة لها شكل ثابت وحجم ثابت (.....)
- ٦_ يمكن قياس الكتلة بالميزان ذو الكفتين (.....)

ج) نكمل الناقص من الخريطة التالية :-



انتهت الأسئلة

اختبار (منتصف الفصل) مادة العلوم للصف الثالث الفصل الدراسي الثالث لعام ١٤٤٤ هـ

السؤال الأول :-

نختار الاجابة الصحيحة فيما يلي :-

١٠

١- وحدة قياس الطول	٢- تصنع أسلاك الكهرباء من النحاس لانه
أ- المتر	أ- هش
ب - كيلوجرام	ب - جيد التوصيل
ج - لتر	ج - ضعيف التوصيل
٣- تتكون المادة من وحدات بنائية تسمى	٤- تتحرك جزيئاتها بحرية
أ- العناصر	أ- الصلبة
ب - المغناطيس	ب - السائلة
ج - الورق	ج - الغازية
٥- من التغيرات الكيميائية للورقة	٦- أي مما يلي يعد محلولاً ؟
أ- تمزيقها	أ- الرمل
ب - القص	ب - النحاس الاصفر
ج - الحرق	ج - السلطة

ب) نضع كل مصطلح علمي في العبارة المناسبة :-

(التغير الفيزيائي ، المادة ، الشغل ، المخلوط)

- ١- (..... المخلوط) خليط من مادتين مختلفتين مع احتفاظ المواد بخصائصها .
- ٢- (..... الشغل) القوة المبذولة لتحريك جسم ما مسافة معينة .
- ٣- (..... المادة) أي شي له حجم وكتلة .
- ٤- (..... التغير الفيزيائي) تغير يحدث في شكل المادة او مظهرها .

السؤال الثاني :-

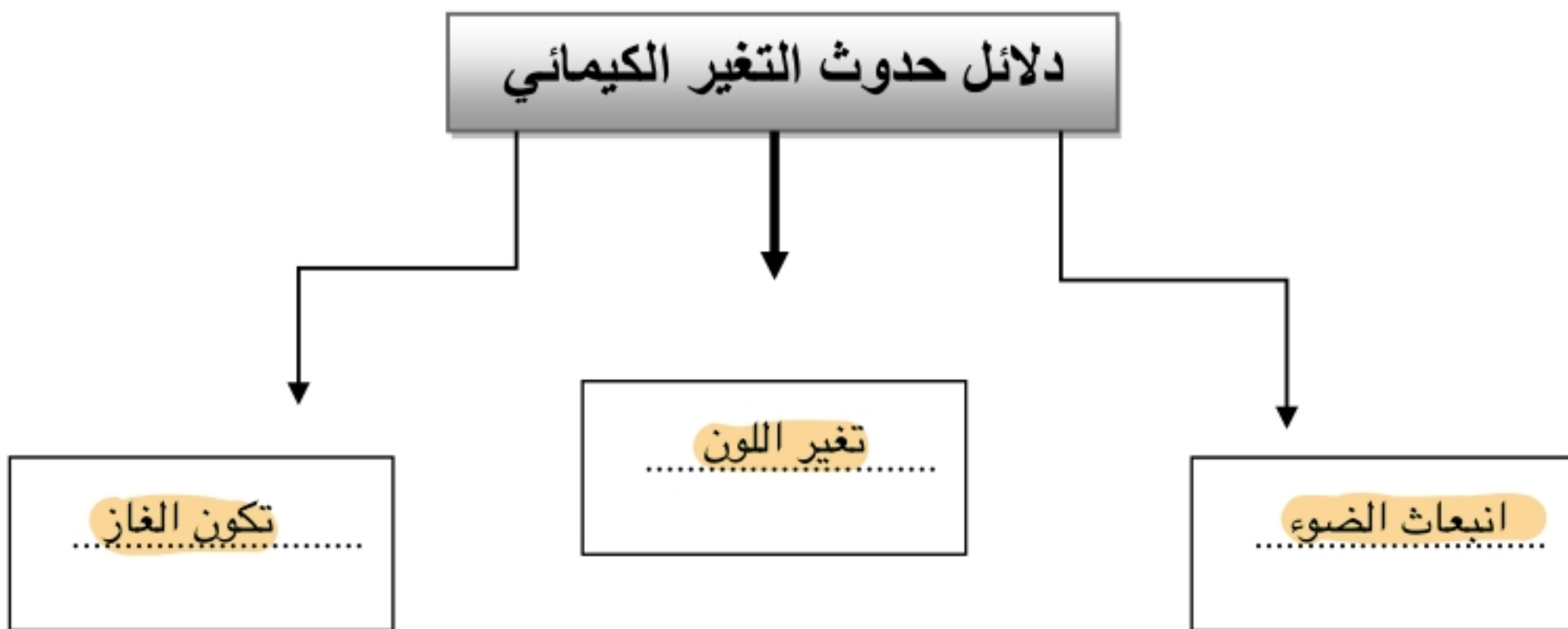
أ) أيهما يبذل شغلا :-



ب) هل العبارات التالية صحيحة ام خاطئة :

- ١- كلما زادت القوة المؤثرة على الجسم يزداد مقدار الشغل (..... ✓)
- ٢- لخشب والبلاستيك مواد موصلة للحرارة (..... ✗)
- ٣- التغير الذي ينتج عنه مواد جديدة هو التغير الكيميائي (..... ✓)
- ٤- تحريك المادة المذابة يزيد من سرعة ذوبانها في المحلول (..... ✓)
- ٥- المادة الصلبة لها شكل ثابت وحجم ثابت (..... ✓)
- ٦- يمكن قياس الكتلة بالميزان ذو الكفتين (..... ✓)

ج) نكمل الناقص من الخريطة التالية :-



انتهت الأسئلة