

تم تحميل وعرض المادة من :



موقع واجباتك

www.wajibati.net

موقع واجباتي منصة تعليمية تساهم بنشر حل المناهج الدراسية بشكل متميز لترتقي بمجال التعليم على الإنترنت ويستطيع الطلاب تصفح حلول الكتب مباشرة لجميع المراحل التعليمية المختلفة



حمل التطبيق من هنا

رقم الجلوس	الصف الثالث المتوسط	أسئلة اختبار الفصل الدراسي الثالث 1444 هـ
عدد الصفحات	الزمن ساعة	المادة اجتماعيات
		اسم الطالبة

السؤال	1س	2س	3س	4س	المصححة	المراجعة	المدققة
الدرجة رقما							
الدرجة كتابة							

استعيني بالله ثم أجيب عن الأسئلة التالية

السؤال الأول :

أ) اكمل الفراغات التالية :

- 1- ينقسم العمل المساحي إلى قسمين هما و
- 2- تنقسم المساحة المستوية إلى قسمين هما و
- 3- هناك عوامل متعددة تتحكم في اقتصاد أي دولة من أبرزها و
- 4- من أنواع البطالة و
- 5- أنواع التطوع و

ب) عللي ما يأتي

• سبب تنوع الخرائط

.....

• أهمية علم المساحة

.....

• يمثل النفط المورد الأساسي للوطن.

.....

السؤال الثاني

(أ)		اختر من العمود (أ) ما يناسبه من العمود (ب)	
		(أ)	(ب)
1	خريطة تاريخية		تحتوي حقول النفط في منطقة الخليج العربي .
2	خريطة سكانية		توضح طريق هجرة نبينا محمد صل الله عليه وسلم من مكة المكرمة إلى المدينة المنورة.
3	خريطة مناخية		تبين الحدود بين المملكة العربية السعودية والمملكة الأردنية.
4	خريطة اقتصادية		تمثل مناطق نزول الأمطار صيفا في شبه الجزيرة العربية.
5	خريطة سياسية		توضح الهجرات البشرية في العالم.

(ب) اختاري المصطلح الصحيح من بين الأقواس وضعية في الفراغ المناسب

(الصورة الجوية - الخريطة - الإنجاز الذاتي - العمل - الذوق العام)

- 1- هي وسيلة لتمثيل سطح الكرة الأرضية أو جزء منه بظواهره الطبيعية والبشرية على لوحة مستوية.
- 2- مجهوداً إرادي يؤديه الإنسان لإنتاج سلعة أو تقديم خدمة، مقابل الحصول على أجر
- 3- هي صورة لجزء من سطح الأرض تلتقط بالطائرات والمناطيد المزودة بآلات تصوير.
- 4- هو حالة داخلية مستمرة مرتبطة بمشاعر الفرد توجهه نحو التخطيط للعمل
- 5- هو جميع القيم والضوابط والآداب التي تحكم سلوك الإنسان في المجتمع.

السؤال الثالث

(أ) صوبي ما تحته خط في الجمل التالية

التصويب	الجملة	
	الأعمال التطوعية تكون تحت إشراف جهة بدون ترخيص لها.	1
	حفظ النعمة وجمع الفائض من الطعام عمل تطوعي لا يخدم الوطن	2
	آداب الذوق العام غير مرتبطة بالمسؤولية.	3
	التطور التقني لم يقلل من الاعتماد على الأيدي العاملة.	4
	حدد إطار الخريطة بعد الانتهاء من رسمها.	5
	تتشابه الرموز في كل مفاتيح الخرائط	6

(يكتفى باثنان فقط)

(ب) عددي ما يأتي

1- الصور الجوية نوعان

.....

.....

2- فوائد نظام تحديد المواقع العالمي

.....

.....

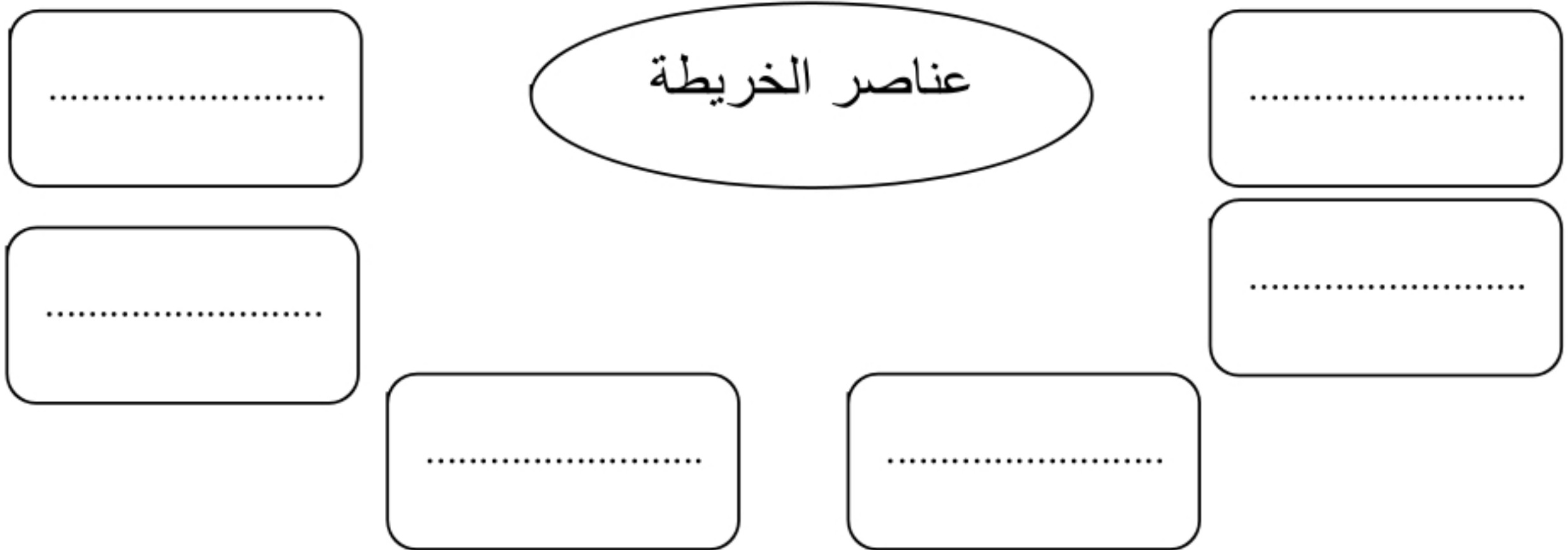
اقلبي الصفحة

السؤال الرابع

اختراري الإجابة الصحيحة من الإجابات المتعددة التالية على أن تكون إجابة واحد فقط

من أنواع الخرائط الطبيعية			
التضاريسية	الزراعية	السكانية	السياحية
برنامج (وقار)			
مساعدة كبار السن	تهتم بالحجاج	توعية المجتمع بأهمية حفظ النعمة	مستحيي الضمان الاجتماعي
برنامج كنّ عوناً هدفه مساعدة			
إرشاد ضيوف الرحمن	توزيع فائض	الاقتصاد الوطني	السياحة
من أنواع الخرائط بشرية			
الخرائط المناخية	الخرائط التاريخية	خرائط النبات الطبيعي	

ب (صممي خريطة مفاهيم



انتهت الأسئلة
مع تمنياتي لك بالتوفيق
اذكروني بدعوة

معلمة المادة

رقم الجلوس	الصف الثالث المتوسط	أسئلة اختبار الفصل الدراسي الثالث 1444 هـ
عدد الصفحات	الزمن ساعة	المادة اجتماعيات
اسم الطالبة		

السؤال	س1	س2	المصححة	المراجعة	المدققة
الدرجة رقما					
الدرجة كتابة					

نموذج إجابة

استعيني بالله ثم أجيب عن الأسئلة التالية

السؤال الأول :

أ) اكمل الفراغات التالية :

- 1- ينقسم العمل المساحي إلى قسمين هما **الرفع** و **التوقيع**
- 2- تنقسم المساحة المستوية إلى قسمين هما **المساحة الطبوغرافية** و **المساحة التفصيلية**
- 3- هناك عوامل متعددة تتحكم في اقتصاد أي دولة من أبرزها **الاستقرار** و **الموارد**
- 4- من أنواع البطالة **الهيكليّة** و **الاختيارية**
- 5- أنواع التطوع **تطوع فردي** و **تطوع مؤسسي**

ب) عللي ما يأتي

• سبب تنوع الخرائط

• باختلاف المعلومات والموضوعات ومدى الحاجة إليها.

• أهمية علم المساحة

1- أساس مهم في معظم المشروعات الهندسية.

2- أساس في عمل الخرائط.

• يمثل النفط المورد الأساسي للوطن.

1- لأنها ثاني أكبر دولة في العالم تمتلك احتياطات نفطية.....

2- ثاني أكبر منتج للنفط في العالم.

السؤال الثاني

(أ)		اختر من العمود (أ) ما يناسبه من العمود (ب)	
		(أ)	(ب)
1	خريطة تاريخية	٤	تحتوي حقول النفط في منطقة الخليج العربي .
2	خريطة سكانية	١	توضح طريق هجرة نبينا محمد صل الله عليه وسلم من مكة المكرمة إلى المدينة المنورة.
3	خريطة مناخية	٥	تبين الحدود بين المملكة العربية السعودية والمملكة الأردنية.
4	خريطة اقتصادية	٣	تمثل مناطق نزول الأمطار صيفا في شبه الجزيرة العربية.
5	خريطة سياسية	٢	توضح الهجرات البشرية في العالم.

(ب) اختاري المصطلح الصحيح من بين الأقواس وضعية في الفراغ المناسب

(الصورة الجوية - الخريطة - الإنجاز الذاتي - العمل - الذوق العام)

- 1-**الخريطة**..... هي وسيلة لتمثيل سطح الكرة الأرضية أو جزء منه بظواهره الطبيعية والبشرية على لوحة مستوية.
- 2-**العمل**..... مجهودٌ إرادي يؤديه الإنسان لإنتاج سلعة أو تقديم خدمة، مقابل الحصول على أجر
- 3- **الصورة الجوية**... هي صورة لجزء من سطح الأرض تلتقط بالطائرات والمناطيد المزودة بآلات تصوير.
- 4-**الإنجاز الذاتي**..... هو حالة داخلية مستمرة مرتبطة بمشاعر الفرد توجهه نحو التخطيط للعمل
- 5-**الذوق العام**..... هو جميع القيم والضوابط والآداب التي تحكم سلوك الإنسان في المجتمع.

السؤال الثالث

(أ) صوبي ما تحته خط في الجمل التالية

التصويب	الجملة	
مرخص لها	الأعمال التطوعية تكون تحت إشراف جهة بدون ترخيص لها.	1
يخدم الوطن	حفظ النعمة وجمع الفائض من الطعام عمل تطوعي لا يخدم الوطن	2
مرتبطة	آداب الذوق العام غير مرتبطة بالمسؤولية.	3
يقلل	التطور التقني لم يقلل من الاعتماد على الأيدي العاملة.	4
قبل	حدد إطار الخريطة بعد الانتهاء من رسمها.	5
تختلف	تتشابه الرموز في كل مفاتيح الخرائط	6

(يكتفى باثنان فقط)

(ب) عددي ما يأتي

1- الصور الجوية نوعان

١- **الصور الجوية الرأسية**.....

٢- **الصور الجوية المائلة**.....

2- فوائد نظام تحديد المواقع العالمي

١- **تحديد المواقع تحديد دقيق**.....

٢- **تحديد اتجاه القبلة**.....

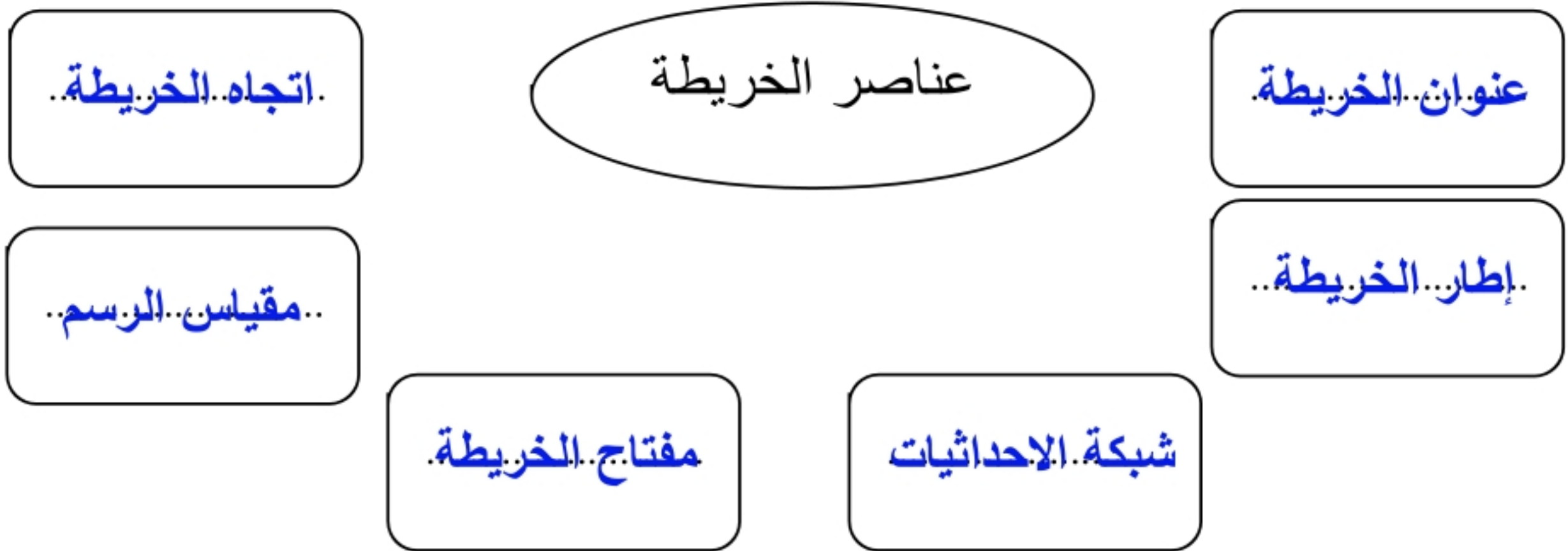
أقربي الصفحة

السؤال الرابع

اختاري الإجابة الصحيحة من الإجابات المتعددة التالية على أن تكون إجابة واحد فقط

من أنواع الخرائط الطبيعية			
التضاريسية	الزراعية	السكانية	السياحية
برنامج (وقار)			
مساعدة كبار السن	تهتم بالحجاج	توعية المجتمع بأهمية حفظ النعمة	مستحي الضمان الاجتماعي
برنامج كنّ عوناً هدفه مساعدة			
إرشاد ضيوف الرحمن	توزيع فائض	الاقتصاد الوطني	السياحة
من أنواع الخرائط بشرية			
الخرائط المناخية	الخرائط التاريخية	خرائط النبات الطبيعي	

ب (صممي خريطة مفاهيم



انتهت الأسئلة
مع تمنياتي لك بالتوفيق
اذكروني بدعوة

معلمة المادة

ضع علامة (√) امام العبارة الصحيحة وعلامة (x) امام العبارة الخاطئة ؟

1	تشويه المرافق العامة والمنزهات ليس من آداب الذوق العام
2	الاعمال التطوعية تكون تحت اشراف جهة مرخص لها
3	منصفات الفرد المنجز ان يقوم بأعماله على حسب الفراغ
4	تحدد أجهزة GPS الاماكن على سطح الارض بدقة عالية
5	التزام آداب الذوق العام يؤدي الى المواطنة الصالحة
6	يحدد اطار الخريطة بعد الانتهاء من رسمها
7	حث الاسلام على العمل والانجاز
8	التبرع بالدم في المستشفيات من أعمال التطوع
9	الالتزام والمسؤولية تزيد ثقتك بنفسك وثقة الآخرين بك
10	تتشابه الرموز في كل مفاتيح الخرائط

علل (بم تفسر) لما يأتي ؟

1/ يعد الاعتماد على النفط مصدرا رئيسا للدخل الوطني مشكلة اقتصادية:

2/ تنوع وتعدد انواع الخرائط واختلافها :

3/ للإنجاز الذاتي اهمية كبيرة في حياة الفرد :

4/ اصدار مجلس الوزراء في وطننا لائحة المحافظة على الذوق العام :

اكمل الفراغات التالية بما يناسبها؟

1/ من مظاهر الذوق العام : و

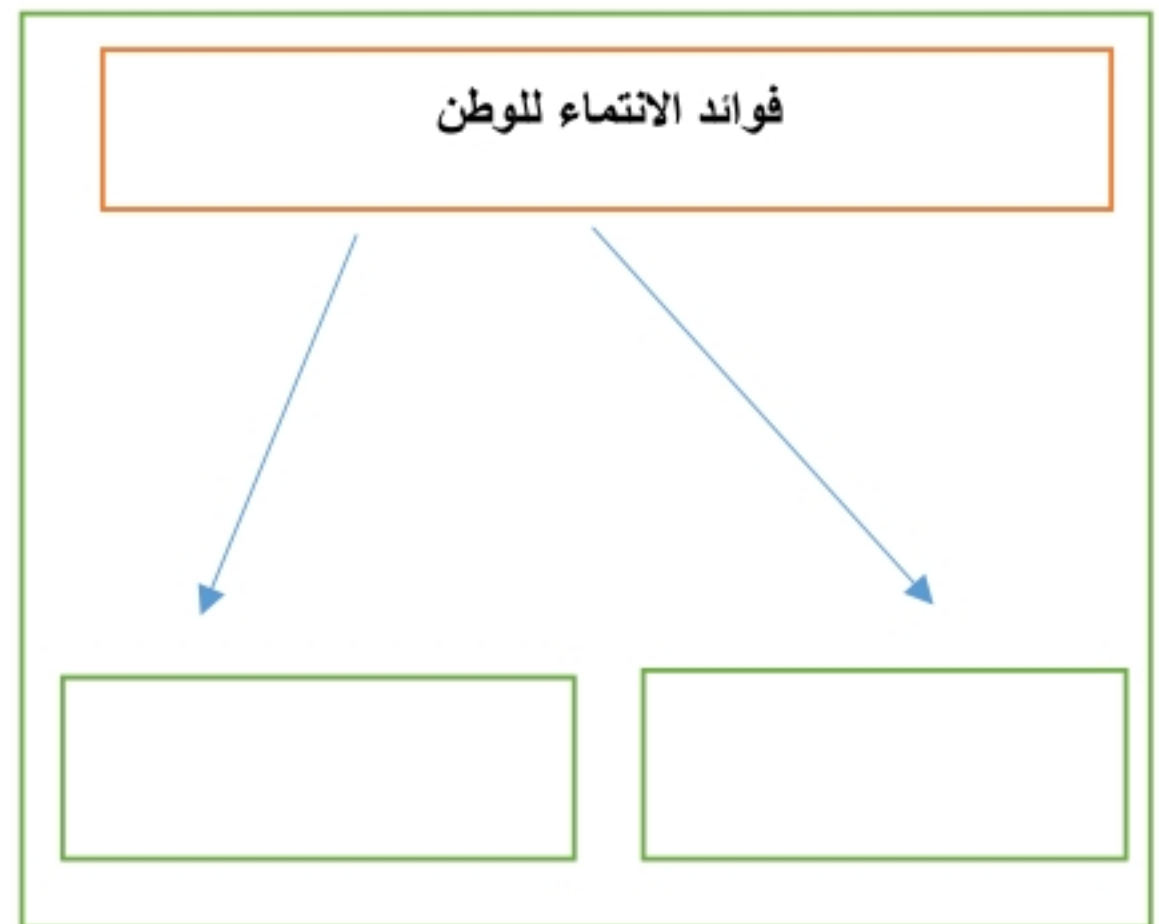
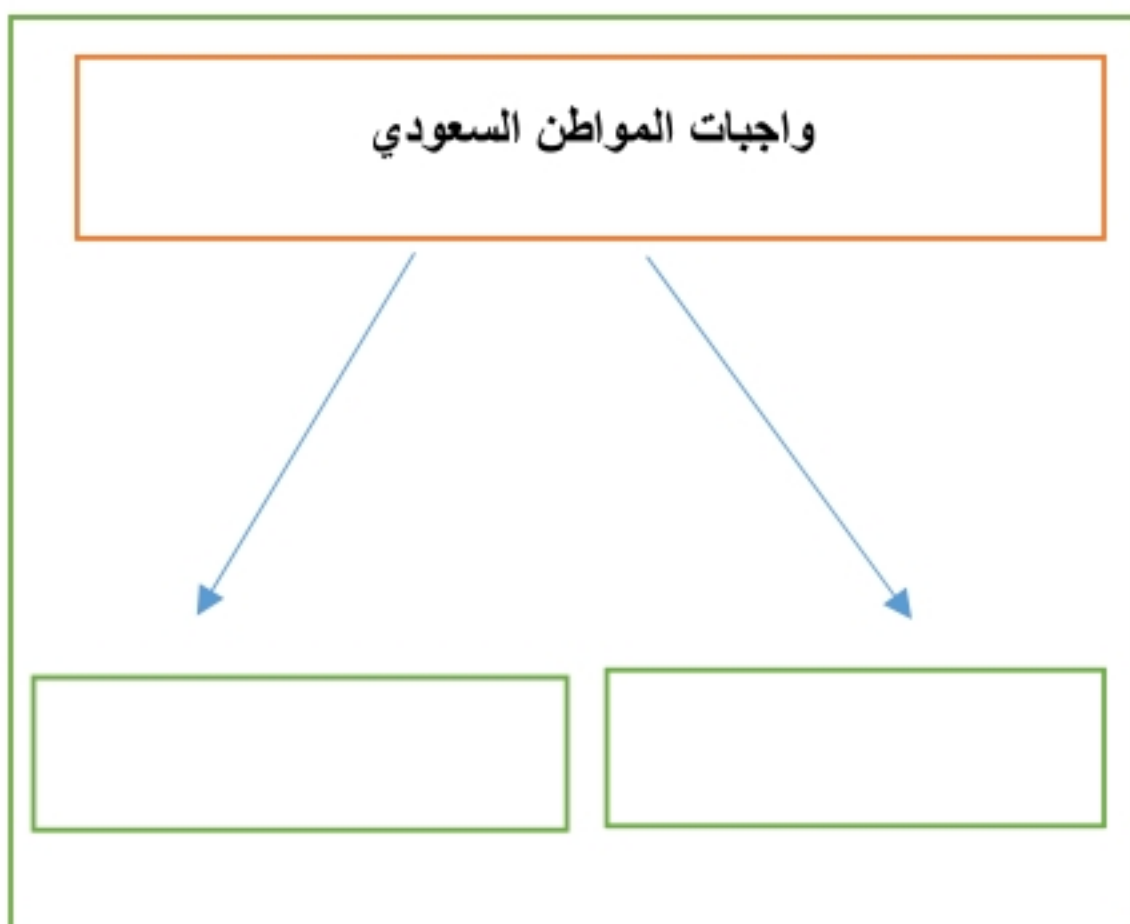
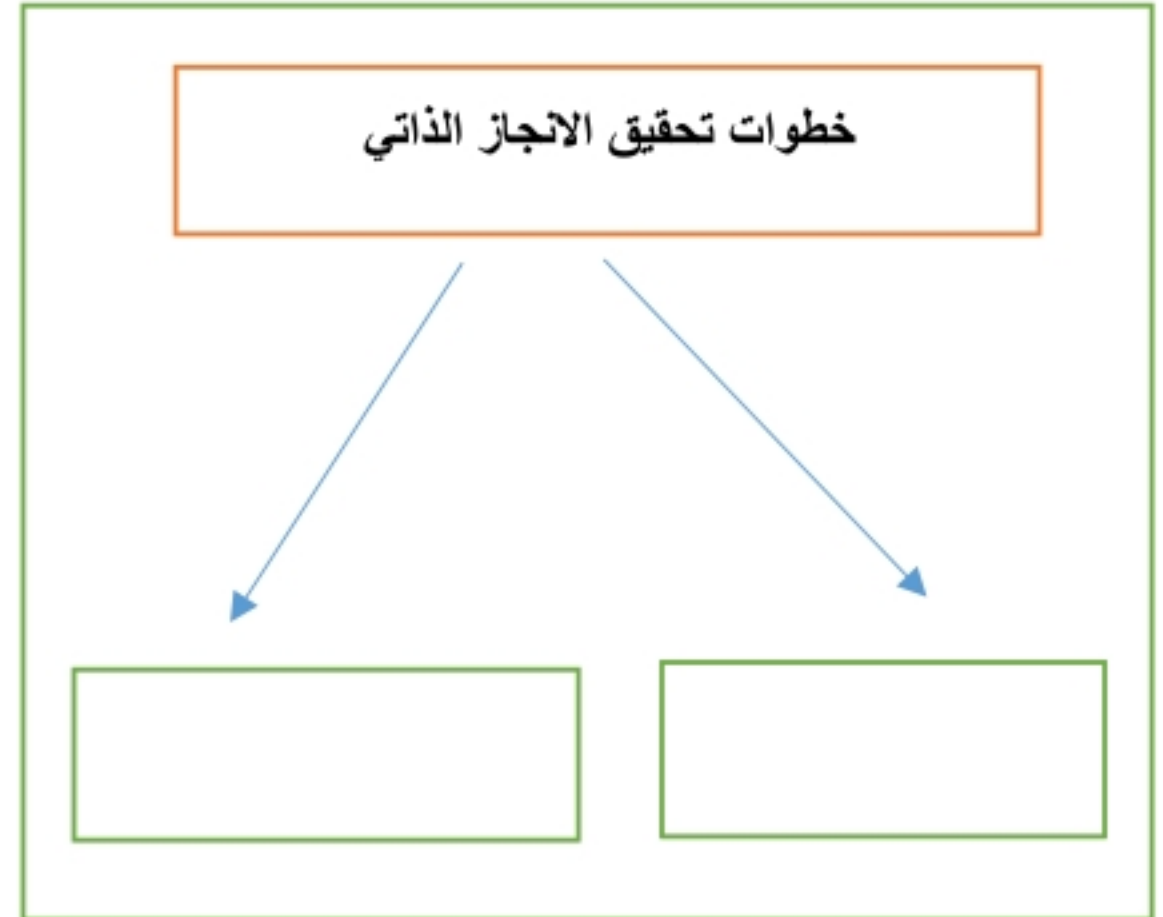
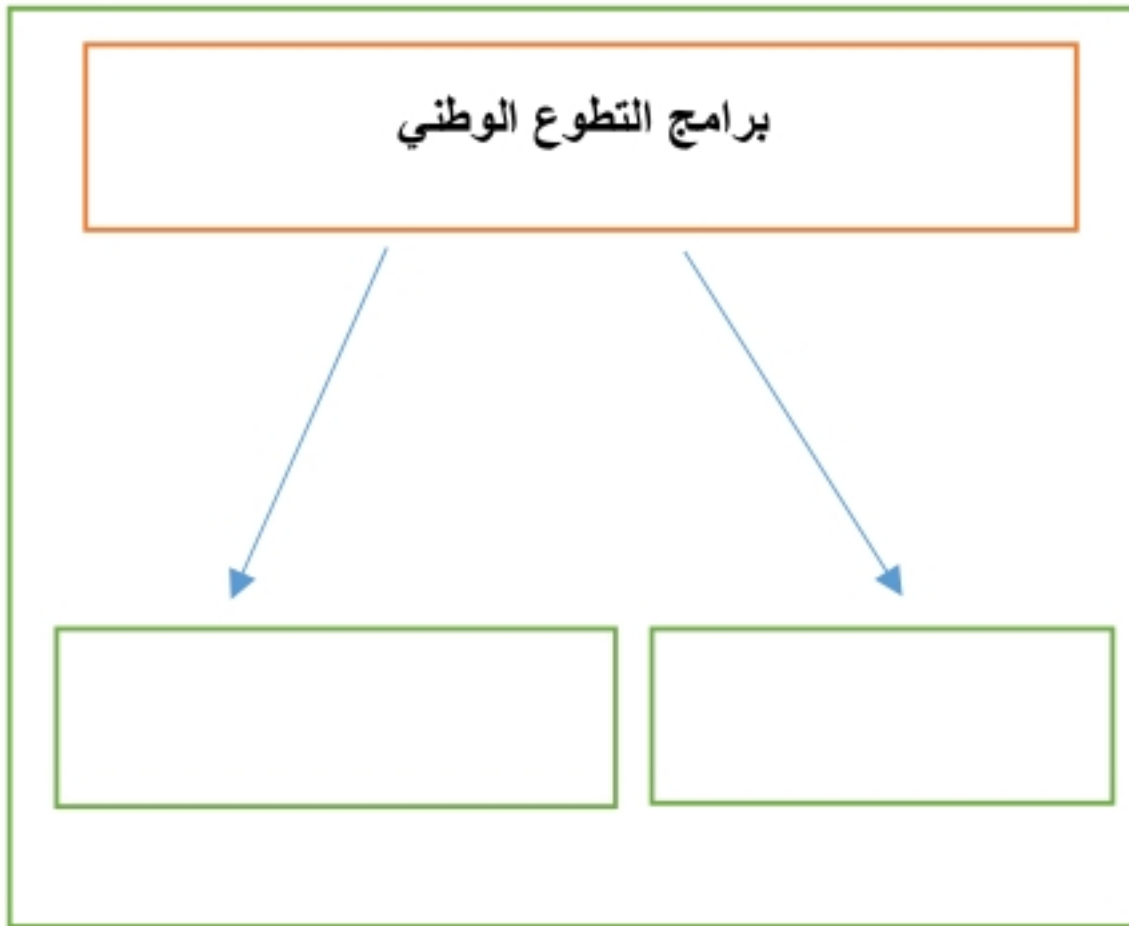
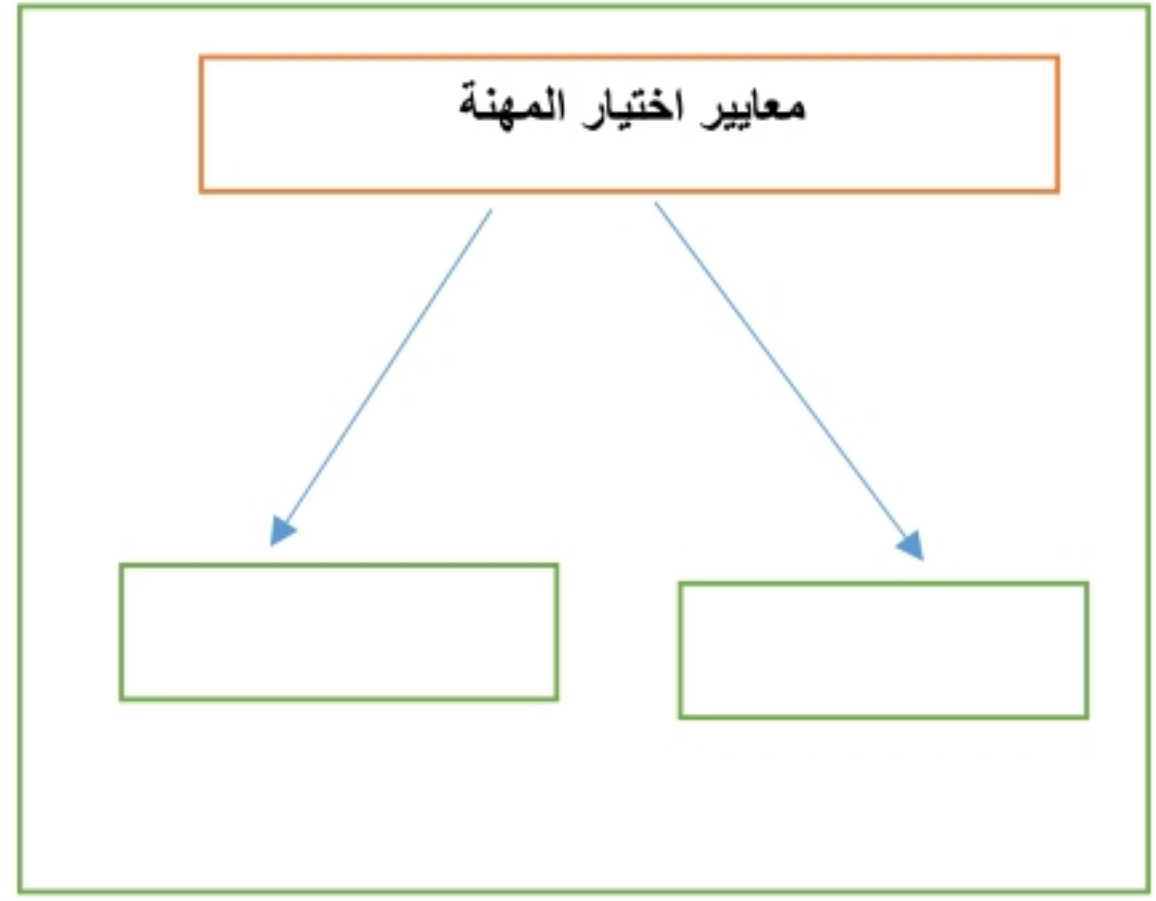
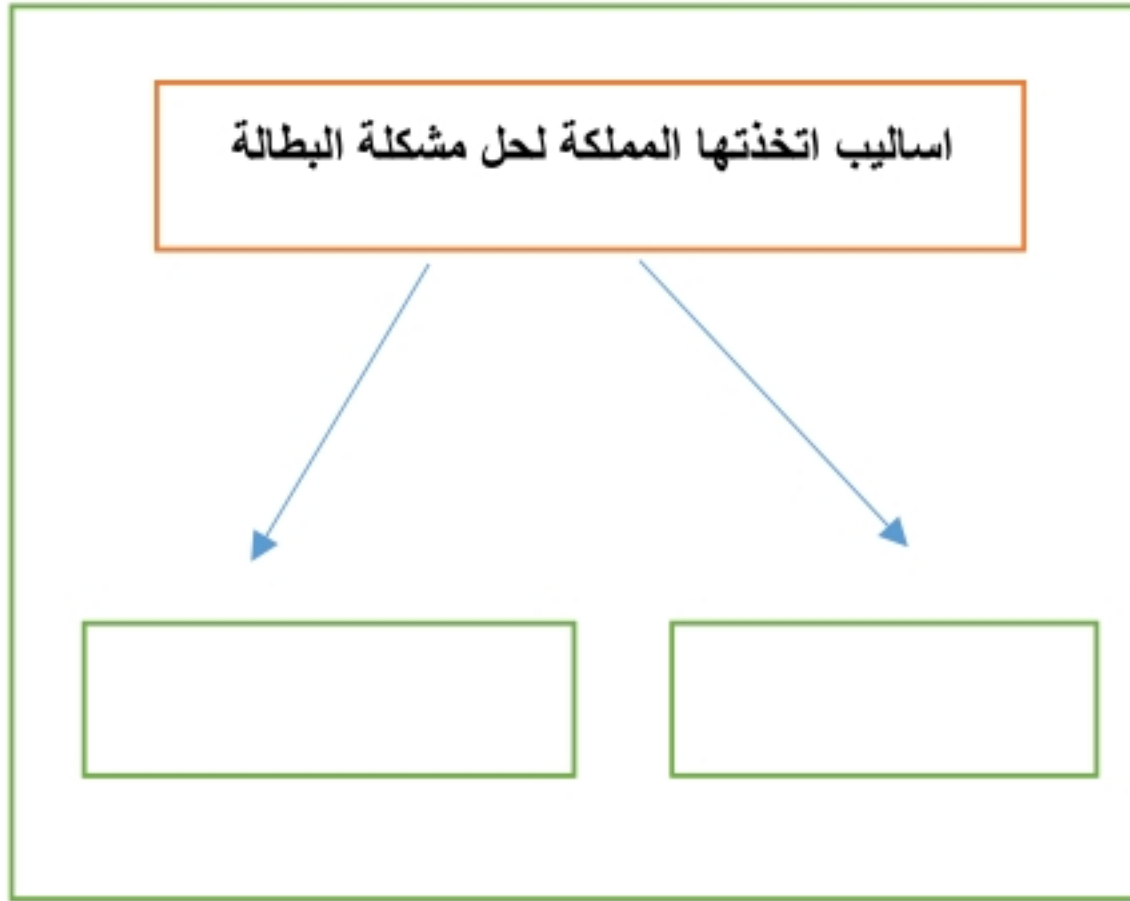
2/ ينقسم العمل المساحي الى قسمين هما و

3/ للتطوع نوعان هما : تطوع و تطوع

4/ هناك عوامل متعددة تتحكم في اقتصاد الدول منها: و

5/ من مكونات نظام تحديد المواقع GPS: قسم و قسم

أكل خرائط المفاهيم التالية ؟



قارن بين كل مما يأتي وفق الجدول ؟

الصور الجوية	وجه المقارنة	الخريطة
	المفتاح	
	الظاهرة التي تفسرها	
	تفاصيل سطح الارض	

أكتب بأسلوبك وعبر برأيك في المواضيع التالية ؟

1/ اثر العمل التطوعي على الفرد والمجتمع :

2/ من واجبات المواطن السعودي الانتماء للوطن (وضح كيف يحقق ذلك) :

3/ أثر الامن والامان الذي نعيشه في ازدهار الاقتصاد الوطني :

4/ برنامج جودة الحياة :

مستعينا بالشكل أدناه ضع المصطلحات امام مايناسيها من العبارات التالية ؟



- () هو العلم الذي يبحث في الطرائق المختلفة لتمثيل سطح الارض .
- () بذل الجهد والوقت والمال من اجل تقديم الخدمة الاجتماعية دون توقع اجر مالي .
- () القيم والضوابط والآداب التي تحكم سلوك الانسان في المجتمع .
- () احساس فطري يرتبط فيه المواطن بوطنه .

عزيزي الطالب من خلال دراستك لأنواع الخرائط حدد نوع الخريطة ادناه مستعينا بالشكل المجاور ؟



خريطة مناخية
خريطة اقتصادية
خريطة سكانية
خريطة تاريخية
خريطة سياسية

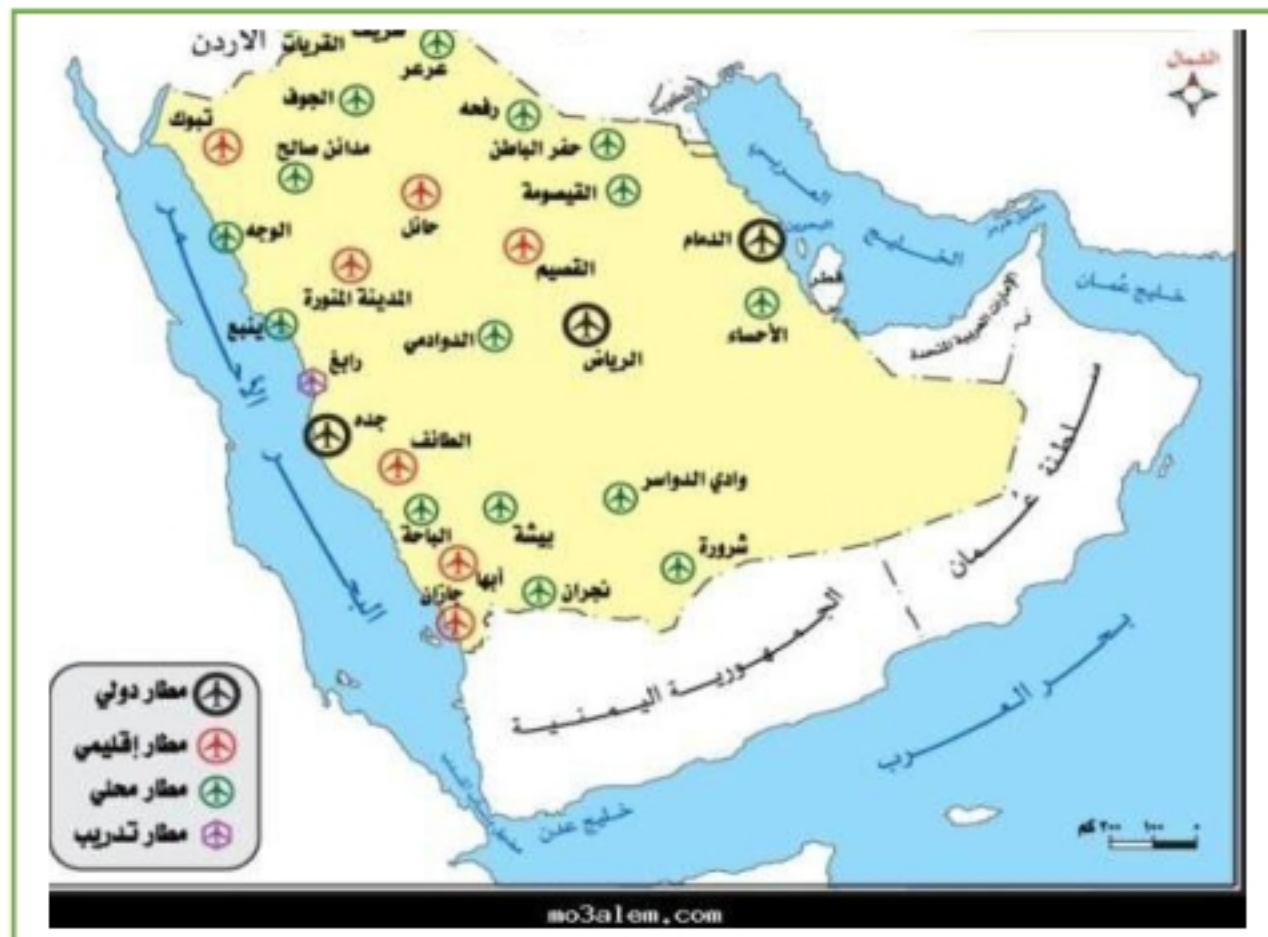
اختر الاجابة الصحيحة فيما يأتي ؟

1	حالة داخلية مستمرة مرتبطة بمشاعر الفرد	2	تمثيل سطح الارض على لوحه مستوية :
أ	القدرات	أ	الخريطة
ب	الانجاز الذاتي	ب	الصور الجوية
ج	التخصص	ج	علم المساحة
د	العمل	د	GPS
3	المعالم الطبيعية التي تساعد المساحة في تمثيلها	4	كل ما يأتي من مخالفات الذوق العام ماعدا
أ	المباني والقرى	أ	ارتداء قمصان عليها كتابة مسيئة
ب	الطرق والسكك الحديدية	ب	احترام أسبقية الآخرين وعدم تجاوزها
ج	الجبال والهضاب	ج	ارتداء ثياب النوم في المساجد
د	السدود والانفاق	د	رمي القمامة في الشارع
5	قدرة الشخص على تحمل نتائج اقواله وافعاله	6	توفير التعليم العام والرعاية الصحية من :
أ	الذوق العام	أ	حقوق المواطن السعودي
ب	التطوع	ب	واجبات المواطن السعودي
ج	الانجاز	ج	آداب الذوق العام
د	المسؤولية	د	فوائد الانتاج
7	ماينجزه النشاط الانساني من سلع وخدمات	8	كل ما يأتي من مظاهر الذوق العام ماعدا
أ	الانجاز الذاتي	أ	افشاء السلام
ب	العمل	ب	الابتسامه
ج	الانتاج	ج	احترام الاخرين
د	المهنة	د	رفع الصوت
9	مشكلة اقتصادية ناتجة عن حركة العرض والطلب	10	يوصف بها من يقدر على العمل ولايرغب فيه
أ	التضخم	أ	البطالة الهيكلية
ب	البطالة	ب	البطالة الاختيارية
ج	الفقر	ج	البطالة الوظيفية
د	الميزان التجاري	د	البطالة المقنعة

ضع الرقم الموجود امام المجموعة الاولى امام مايناسبه من المجموعة الثانية ؟

م	المجموعة الاولى	الرقم	المجموعة الثانية
1	المحافظة على الصلوات		مسؤولية وطنية
2	التطوع في المجتمع		مسؤولية اقتصادية
3	تحقيق الانتماء والولاء		مسؤولية اجتماعية
			مسؤولية ذاتية
1	عنوان الخريطة		خطوط الطول ودوائر العرض
2	مقياس الرسم		قراءة معلومات الخريطة وفهم مدلولاتها
3	شبكة الاحداثيات		النسبة بين البعد على الخريطة وما يقابله على الطبيعة
4	مفتاح الخريطة		الاسم الذي يحدد موضوع الخريطة
			المؤشر الذي يبين اتجاه الشمال

عزيزي الطالب ستجد ادناه خريطة قم بقراءتها بشكل صحيح واجب على الاسئلة؟



(أ) ضع عنوانا مناسباً للخريطة ؟

.....

(ب) حدد نوع هذه الخريطة ؟

.....

(ج) اكتب مقياس الرسم المستخدم ؟

.....

(د) مانوع الرموز المستعملة في المفتاح ؟

.....

ضع علامة (√) امام العبارة الصحيحة وعلامة (x) امام العبارة الخاطئة ؟

√	تشويه المرافق العامة والمنزهات ليس من آداب الذوق العام	1
√	الاعمال التطوعية تكون تحت اشراف جهة مرخص لها	2
x	من صفات الفرد المنجز ان يقوم بأعماله على حسب الفراغ	3
√	تحدد أجهزة GPS الاماكن على سطح الارض بدقة عالية	4
√	التزام آداب الذوق العام يؤدي الى المواطنة الصالحة	5
x	يحدد اطار الخريطة بعد الانتهاء من رسمها	6
√	حث الاسلام على العمل والانجاز	7
√	التبرع بالدم في المستشفيات من أعمال التطوع	8
√	الالتزام والمسؤولية تزيد ثقتك بنفسك وثقة الآخرين بك	9
x	تتشابه الرموز في كل مفاتيح الخرائط	10

علل (بم تفسر) لما يأتي ؟

1/ يعد الاعتماد على النفط مصدرا رئيسا للدخل الوطني مشكلة اقتصادية:

لان النفط طاقة غير متجددة والنفط كغيره سلعة تتأثر بالسوق العالمي والتطورات من ارتفاع وانخفاض في اسعار النفط

2/ تنوع وتعدد انواع الخرائط واختلافها :

بسبب اختلاف المعلومات والموضوعات ومدى الحاجة اليها

3/ للإنجاز الذاتي اهمية كبيرة في حياة الفرد :

يعزز ثقة الفرد بنفسه ويشعر بالرضا النفسي ومصدر اعتزاز للفرد لوطنه

4/ اصدار مجلس الوزراء في وطننا لائحة المحافظة على الذوق العام :

لحماية الفرد والمجتمع من أي سلوك مخالف للآداب العامة والقيم والاخلاق الاسلامية

اكمل الفراغات التالية بما يناسبها؟

1/ من مظاهر الذوق العام : النظافة العامة و الابتسام

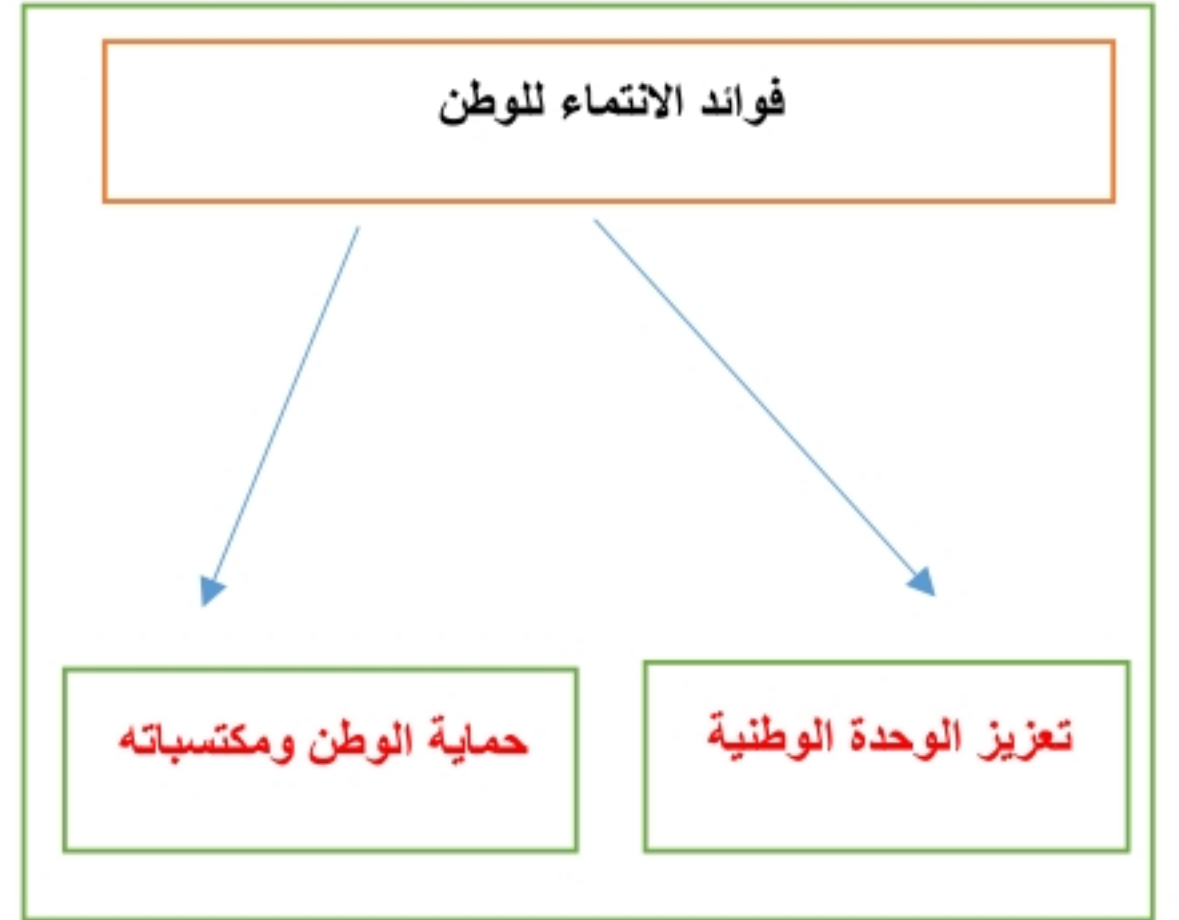
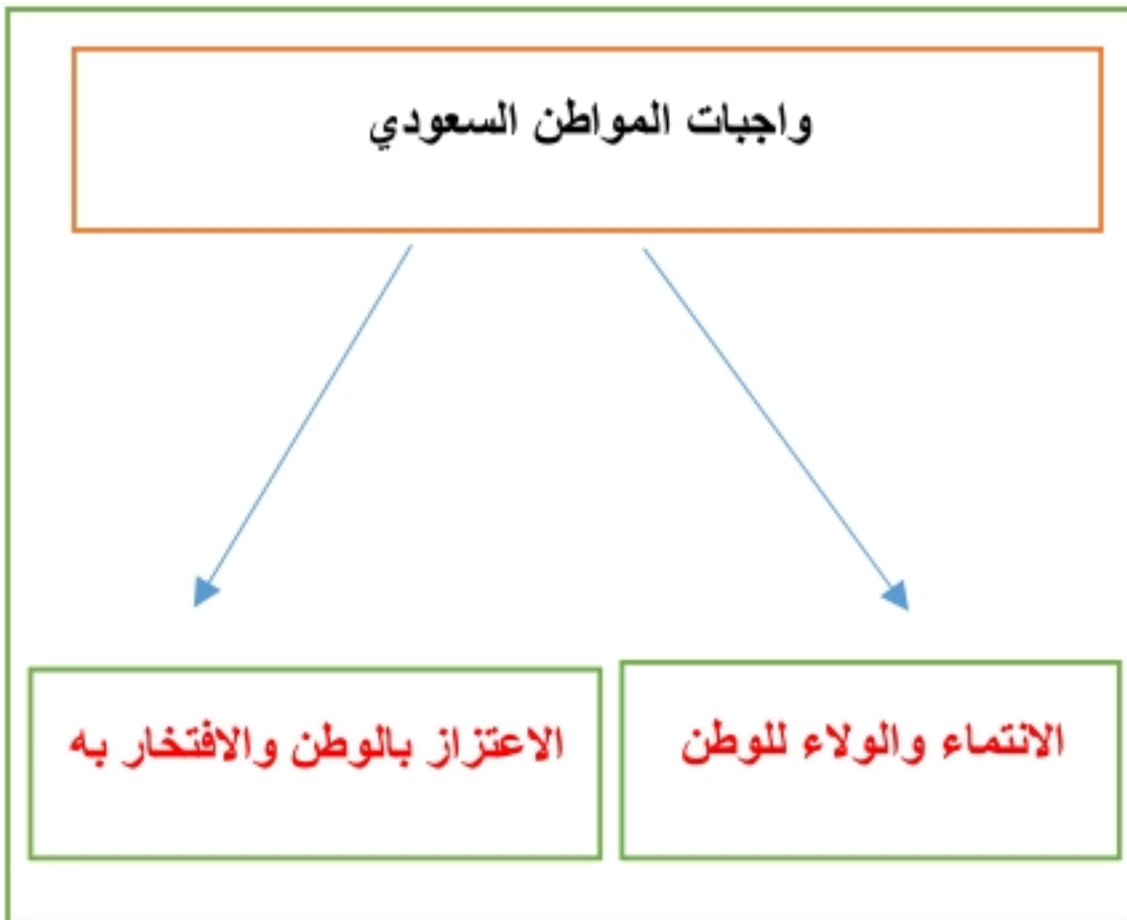
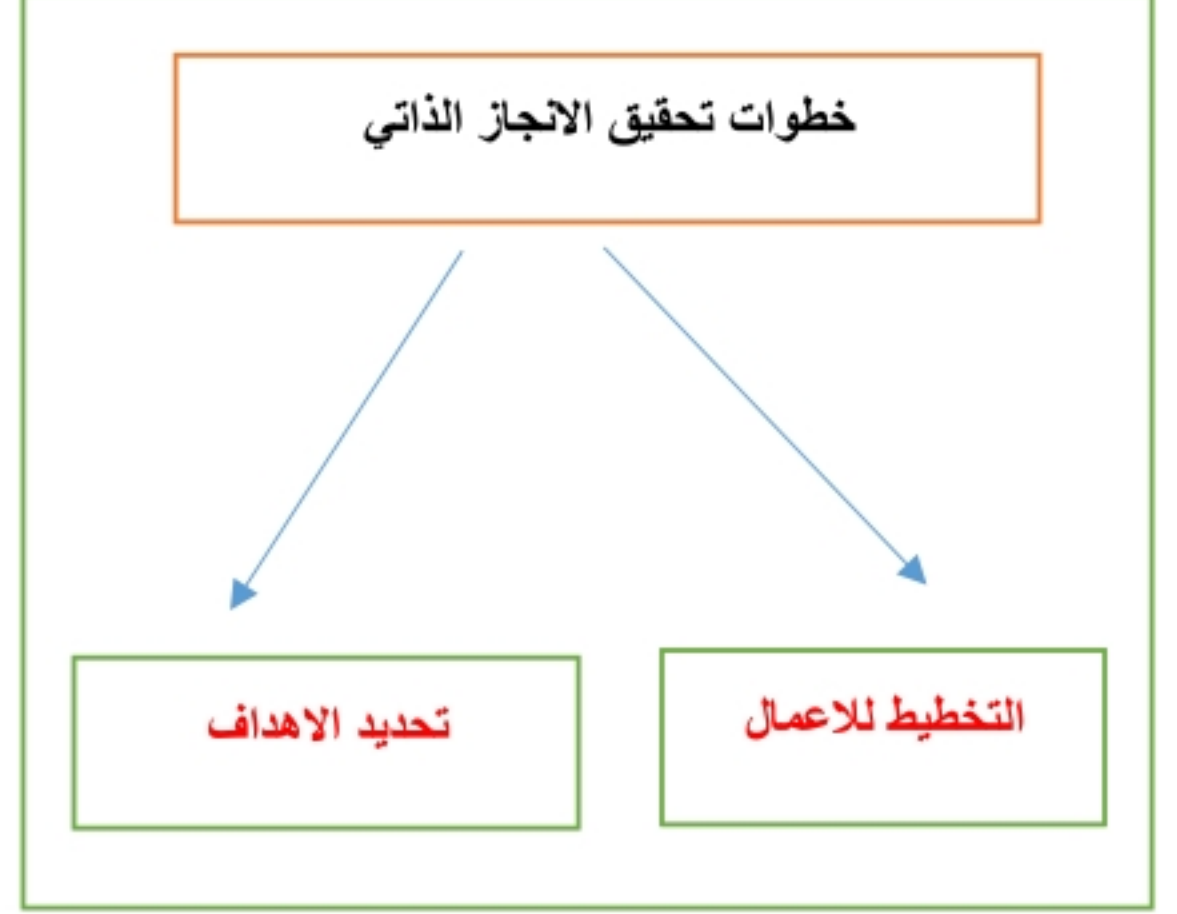
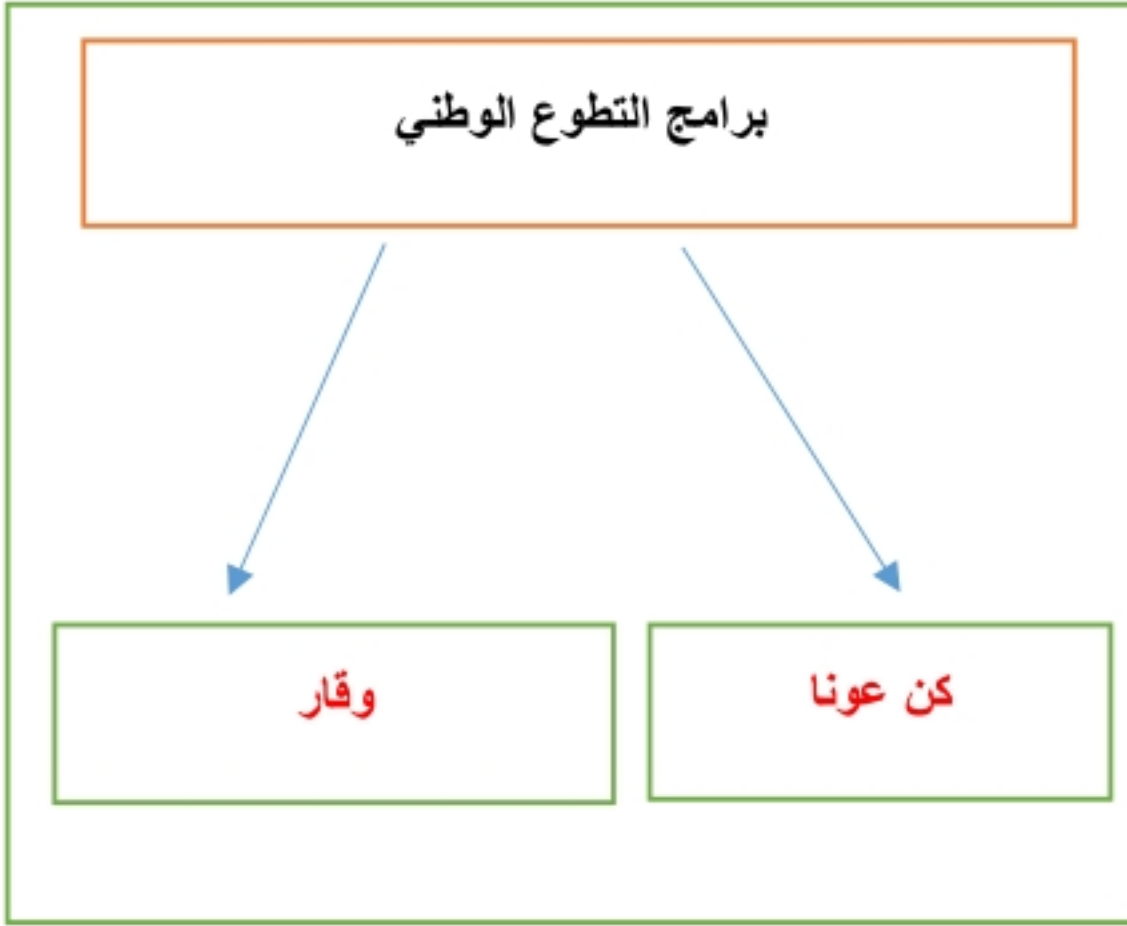
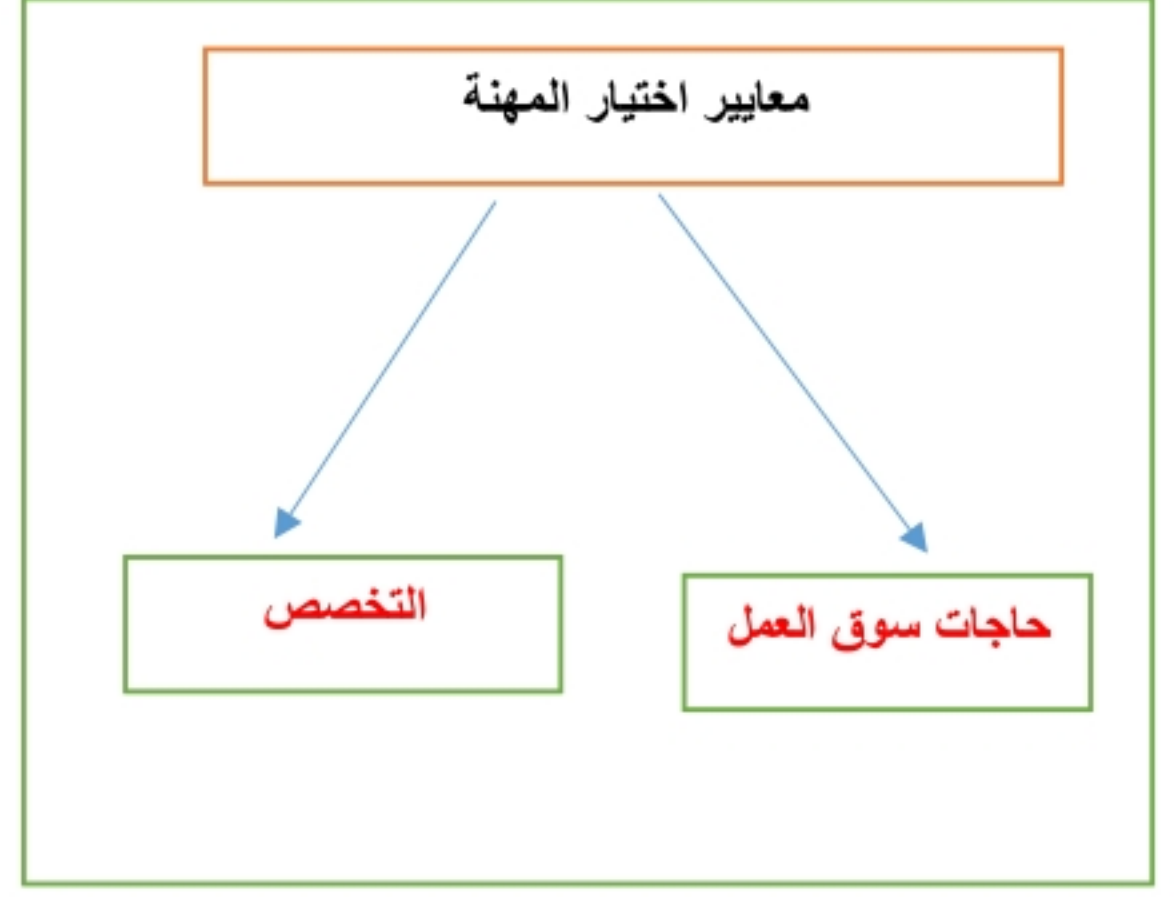
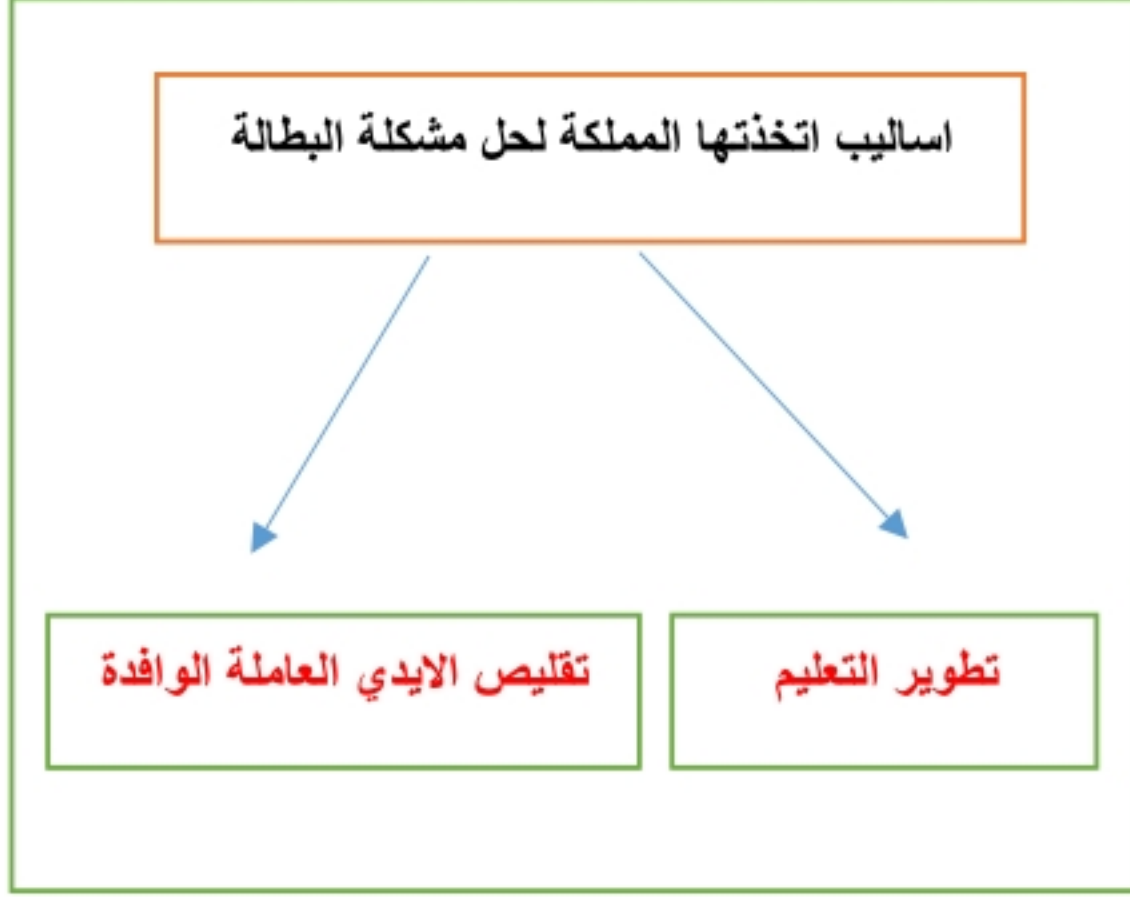
2/ ينقسم العمل المساحي الى قسمين هما الرفع و التوقيع

3/ للتطوع نوعان هما : فردى و تطوع مؤسسى

4/ هناك عوامل متعددة تتحكم في اقتصاد الدول منها: الاستقرار و الموارد

5/ من مكونات نظام تحديد المواقع GPS: قسم الأقمار الصناعية و قسم التحكم

أكل خرائط المفاهيم التالية ؟



مستعينا بالشكل أدناه ضع المصطلحات امام مايناسيها من العبارات التالية ؟



- (علم المساحة) هو العلم الذي يبحث في الطرائق المختلفة لتمثيل سطح الارض .
- (التطوع) بذل الجهد والوقت والمال من اجل تقديم الخدمة الاجتماعية دون توقع اجر مالي .
- (الذوق العام) القيم والضوابط والآداب التي تحكم سلوك الانسان في المجتمع .
- (الانتماء) احساس فطري يرتبط فيه المواطن بوطنه .

عزيزي الطالب من خلال دراستك لأنواع الخرائط حدد نوع الخريطة ادناه مستعينا بالشكل المجاور ؟



خريطة مناخية



خريطة سياسية



خريطة اقتصادية



خريطة سكانية

خريطة مناخية
خريطة اقتصادية
خريطة سكانية
خريطة تاريخية
خريطة سياسية

قارن بين كل مما يأتي وفق الجدول ؟

الصور الجوية	وجه المقارنة	الخريطة
لا تحتاج مفتاح	المفتاح	تحتاج مفتاح
الظواهر الثابتة والمتحركة	الظاهرة التي تفسرها	الظواهر الثابتة
تظهر توضح جميع التفاصيل	تفاصيل سطح الارض	تظهر وتوضح بعض التفاصيل

أكتب بأسلوبك وعبر برأيك في المواضيع التالية ؟

1/ اثر العمل التطوعي على الفرد والمجتمع :

للعمل التطوعي اثر كبير للفرد والمجتمع فهو يحقق الثقة بالنفس والمواطنة والانتماء ومساندة الجهود الحكومية وتعزيز الترابط الاجتماعي

2/ من واجبات المواطن السعودي الانتماء للوطن (وضح كيف يحقق ذلك) :

يحقق المواطن انتمائه لوطنه : بمحبته واعماره والدفاع عنه وعن منجزاته وتحقيق التعاون والتكافل في المجتمع

3/ أثر الامن والامان الذي نعيشه في ازدهار الاقتصاد الوطني :

بوجود الامن والامان الذي ننعم به في وطننا يمارس الافراد والمجتمع نشاطهم الاقتصادي بجد ونشاط وبامن وامان مما يحقق للانشطة الاقتصادية الحركة والانتاج المستمر والازدهار

4/ برنامج جودة الحياة :

احد برامج رؤية المملكة 2030 والذي يخدم عدة جوانب منها الجانب الاقتصادي ويسهم في خفض نسبة البطالة وتوفير فرص عمل للشباب السعودي وفي عدة قطاعات متنوعة

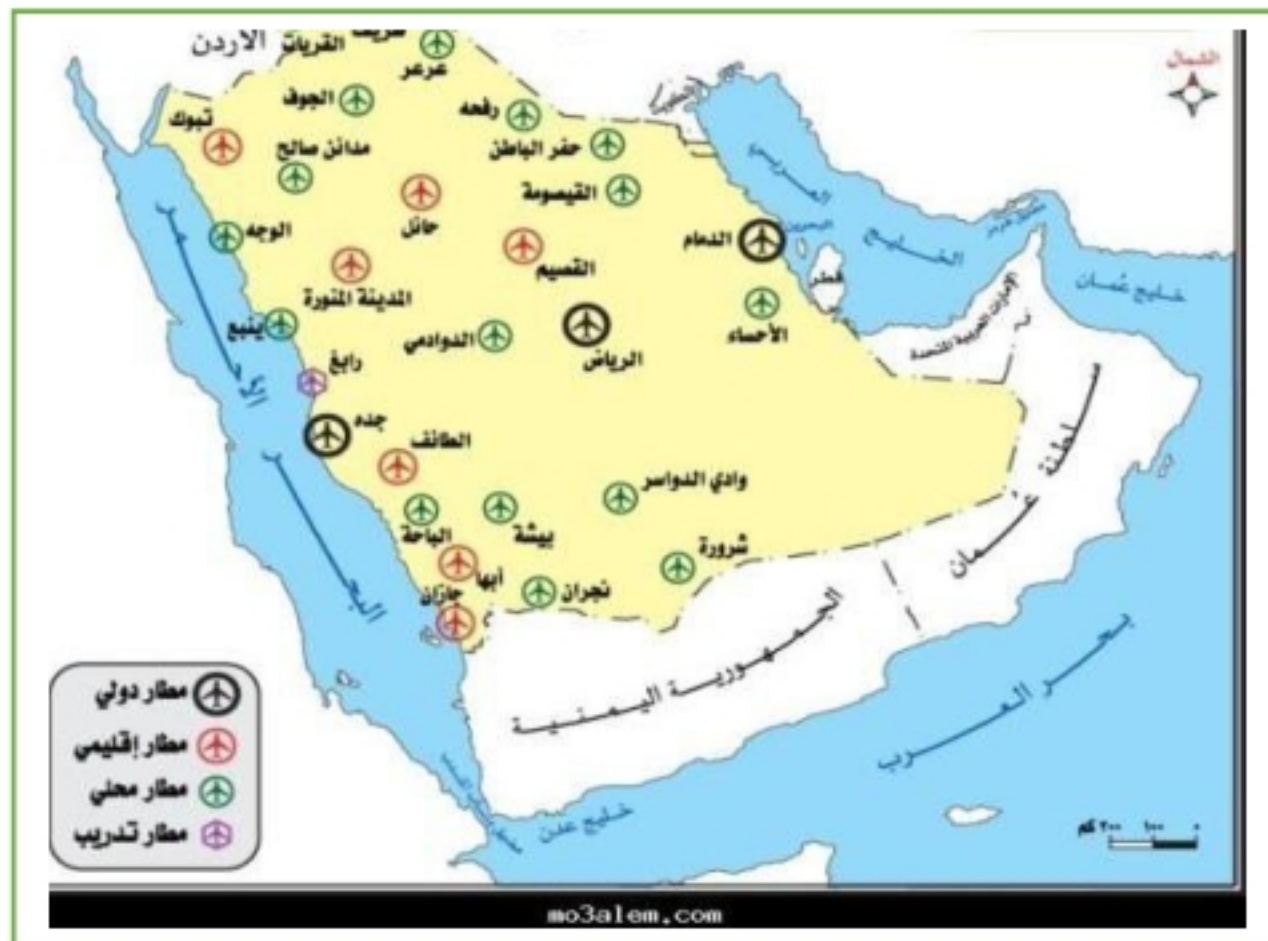
اختر الاجابة الصحيحة فيما يأتي ؟

1	حالة داخلية مستمرة مرتبطة بمشاعر الفرد	2	تمثيل سطح الارض على لوحه مستوية :
أ	القدرات	أ	الخريطة
ب	الانجاز الذاتي	ب	الصور الجوية
ج	التخصص	ج	علم المساحة
د	العمل	د	GPS
3	المعالم الطبيعية التي تساعد المساحة في تمثيلها	4	كل ما يأتي من مخالفات الذوق العام ماعدا
أ	المباني والقرى	أ	ارتداء قمصان عليها كتابة مسيئة
ب	الطرق والسكك الحديدية	ب	احترام أسبقية الآخرين وعدم تجاوزها
ج	الجبال والهضاب	ج	ارتداء ثياب النوم في المساجد
د	السدود والانفاق	د	رمي القمامة في الشارع
5	قدرة الشخص على تحمل نتائج اقواله وافعاله	6	توفير التعليم العام والرعاية الصحية من :
أ	الذوق العام	أ	حقوق المواطن السعودي
ب	التطوع	ب	واجبات المواطن السعودي
ج	الانجاز	ج	آداب الذوق العام
د	المسؤولية	د	فوائد الانتاج
7	ماينجزه النشاط الانساني من سلع وخدمات	8	كل ما يأتي من مظاهر الذوق العام ماعدا
أ	الانجاز الذاتي	أ	افشاء السلام
ب	العمل	ب	الابتسامه
ج	الانتاج	ج	احترام الاخرين
د	المهنة	د	رفع الصوت
9	مشكلة اقتصادية ناتجة عن حركة العرض والطلب	10	يوصف بها من يقدر على العمل ولايرغب فيه
أ	التضخم	أ	البطالة الهيكلية
ب	البطالة	ب	البطالة الاختيارية
ج	الفقر	ج	البطالة الوظيفية
د	الميزان التجاري	د	البطالة المقنعة

ضع الرقم الموجود امام المجموعة الاولى امام مايناسبه من المجموعة الثانية ؟

م	المجموعة الاولى	الرقم	المجموعة الثانية
1	المحافظة على الصلوات	3	مسؤولية وطنية
2	التطوع في المجتمع		مسؤولية اقتصادية
3	تحقيق الانتماء والولاء	2	مسؤولية اجتماعية
		1	مسؤولية ذاتية
1	عنوان الخريطة	3	خطوط الطول ودوائر العرض
2	مقياس الرسم	4	قراءة معلومات الخريطة وفهم مدلولاتها
3	شبكة الاحداثيات	2	النسبة بين البعد على الخريطة وما يقابله على الطبيعة
4	مفتاح الخريطة	1	الاسم الذي يحدد موضوع الخريطة
			المؤشر الذي يبين اتجاه الشمال

عزيزي الطالب ستجد ادناه خريطة قم بقراءتها بشكل صحيح واجب على الاسئلة؟



(أ) ضع عنوانا مناسباً للخريطة ؟

مطارات المملكة العربية السعودية

(ب) حدد نوع هذه الخريطة ؟

خريطة بشرية

(ج) اكتب مقياس الرسم المستخدم ؟

مقياس خطي

(د) مانوع الرموز المستعملة في المفتاح ؟

. رسوم

وزارة التعليم
إدارة تعليم
مكتب
مدرسة



المادة : الدراسات الاجتماعية
الصف : ثالث متوسط
الزمن : ساعة ونصف

اختبار الفصل الدراسي الثالث (الدور الأول) لعام ١٤٤٣ هـ

اسم الطالب :

اسم المراجع	اسم المصحح	الدرجة كتابة	الدرجة رقماً	س ٢	س ١
التوقيع:	التوقيع:	أربعون درجة فقط	٤٠	٣٠	١٠

السؤال الأول: ضع علامة (√) أمام العبارة الصحيحة وعلامة (X) أما العبارة الخاطئة :

١٠

م	العبارة	الإجابة
١.	ليس مهم توفير حقيبة الإسعافات الأولية في المنزل	
٢.	من أقسام الغاز في المملكة الغاز الغير مرافق للنفط	
٣.	من محاور التنمية المستدامة العناية بصحة أفراد المجتمع	
٤.	لا تعد ظاهرة التفحيط ظاهرة اجتماعية خطيرة	
٥.	يعد النفط أهم مصادر الطاقة في العالم	
٦.	تعمل التنمية على النهوض بالمجتمعات في شتى المجالات .	
٧.	من وسائل التنمية الصحية المستشفيات والمدن الطبية	
٨.	يقاس تقدم الدول بحجم انتاجها الصناعي .	
٩.	رؤية ٢٠٣٠ لا تحقق التنمية	
١٠.	الإنجاز الذاتي مرتبط بمشاعر الفرد	

السؤال الثاني: اختر الاجابة الصحيحة:

٣٠

١. المياه السطحية في المملكة تنقسم إلى		
(أ) أربع أقسام	(ب) ثلاثة أقسام .	(ج) قسمين
٢. من المياه السطحية في المملكة		
(أ) مياه البحار	(ب) مياه الأنهار	(ج) مياه العيون
٣. يُعد من أكبر الأودية في المملكة واطولها		
(أ) وادي الرمة الباطن	(ب) وادي السرحان	(ج) وادي تربة .
٤. تتحدر روافده من مرتفعات السروات وينتهي في الربع الخالي		
(أ) وادي الرمة الباطن	(ب) وادي السرحان	(ج) وادي الدواسر
٥. ينحدر من بلاد زهران ويعرف بوادي الخرمة		
(أ) وادي الرمة الباطن	(ب) وادي الدواسر	(ج) وادي تربة
٦. المياه التي لا يمكن الاستفادة منها في الاستخدام البشري هي		
(أ) مياه الصرف الصحي	(ب) مياه البحر	(ج) مياه الآبار والعيون
٧. بدأ التنقيب عن النفط في المملكة في عهد الملك		
(أ) خالد	(ب) سعود .	(ج) عبدالعزيز
٨. تم أول اكتشاف للنفط بكميات تجارية في بئر		
(أ) السفانية	(ب) الدمام	(ج) الغوار .
٩. اكتشف النفط في المملكة بكميات كبيرة عام :		
(أ) ١٣٥٧ هـ .	(ب) ١٤٠٠ هـ .	(ج) ١٣٥٩ هـ .
١٠. يمتاز بأنه أكبر حقول النفط على اليابس مساحةً وإنتاجاً في العالم		
(أ) حقل الدمام	(ب) حقل الغوار	(ج) حقل بقيق

١١. يمتاز بالقرب من شاطئ الخليج العربي وهو ثاني حقل مغمور بالمياه في المملكة

(أ) حقل منيفة (ب) حقل أبو حدرية (ج) حقل الفاضلي

١٢. أهم صادرات المملكة

(أ) الذهب (ب) النفط (ج) الملابس

١٣. يُصنف الإنتاج الصناعي في المملكة إلى

(أ) وحدتين رئيسيتين (ب) ثلاث وحدات رئيسية (ج) أربع وحدات رئيسية

١٤. الصناعات الأساسية في المملكة تعتمد معظمها على

(أ) الفوسفات (ب) الزنك (ج) النفط

١٥. الصناعات التحويلية في المملكة مثل

(أ) المواد الغذائية (ب) البتروكيماوية . (ج) تكرير النفط .

١٦. من المدن السياحية الجبلية في المملكة

(أ) الرياض (ب) أبها (ج) الدمام

١٧. خطوات تحقيق الإنجاز الذاتي

(أ) تحديد الأهداف (ب) عدم بذل الجهد (ج) التخطيط

١٨. النشاط الإنساني للحصول على السلع والخدمات من المواد الخام أو المعارف هو

(أ) العمل (ب) التخطيط (ج) الإنتاج

١٩. عند انخفاض أسعار النفط تتأثر موارد الدولة وبتالي

(أ) يثبت الإنفاق (ب) يزيد الإنفاق (ج) يتقلص الإنفاق

٢٠. هناك العديد من الموارد الطبيعية و منها

(أ) السكان (ب) النفط (ج) السوق

٢١. مشكلة اقتصادية واجتماعية تعني ألا تنهياً فرص للعمل للباحثين عنه

(أ) العمل (ب) البطالة (ج) الإنتاج

٢٢. من الآثار الاقتصادية للبطالة

(أ) الأمراض النفسية

(ب) الجريمة

(ج) ضعف الإنتاج

٢٣. توفر وزارة الصحة خدمات تسجيل المواعيد عبر تطبيق

(أ) منتظر

(ب) موعد

(ج) مستشفى

٢٤. توفر وزارة الصحة خدمة اتصال على مدار الساعة للحصول على استشارة طبية على الرقم

(أ) ٩٣٧

(ب) ٩٣٨

(ج) ٩٣٩

٢٥. أول آيات نزلت على الرسول صلى الله عليه وسلم وتحث على التعلم والقراءة كانت في سورة

(أ) الإخلاص

(ب) العلق

(ج) الناس

٢٦. أول من أدخل النظام التعليمي المجاني في المملكة هو

(أ) الملك فيصل .

(ب) الملك فهد .

(ج) الملك عبدالعزيز

٢٧. في الحديث مثل المؤمنين في توادهم وتراحمهم وتعاطفهم مثل :

(أ) الجسد الواحد .

(ب) الجماعة .

(ج) الأخوة .

٢٨. عدد السدود في المملكة العربية السعودية أكثر من

(أ) ٥٠٠ سد

(ب) ٦٠٠ سد

(ج) ٧٠٠ سد

٢٩. قطار يربط بين مكة المكرمة والمدينة المنورة مروراً بجدة

(أ) قطار الرياض

(ب) قطار الشمال

(ج) قطار الحرمين

٣٠. مجموعة من الإجراءات والوسائل التي تتخذ للوقاية من وقوع الأخطار والحوادث

(أ) الحوادث

(ب) السلامة

(ج) الجريمة

انتهت الأسئلة مع تمنياتي لكم بالتوفيق والنجاح معلم المادة /

المادة : الدراسات الاجتماعية
الصف : ثالث متوسط
الزمن : ساعة ونصف



وزارة التعليم
إدارة تعليم
مكتب
مدرسة

اختبار الفصل الدراسي الثالث (الدور الأول) لعام ١٤٤٣ هـ

الإجابة النموذجية

اسم المراجع	اسم المصحح	الدرجة كتابة	الدرجة رقماً	س ٢	س ١
التوقيع:	التوقيع:	أربعون درجة فقط	٤٠	٣٠	١٠

السؤال الأول: ضع علامة (√) أمام العبارة الصحيحة وعلامة (X) أما العبارة الخاطئة :

١٠

م	العبارة	الإجابة
١.	ليس مهم توفير حقيبة الإسعافات الأولية في المنزل	<input checked="" type="checkbox"/>
٢.	من أقسام الغاز في المملكة الغاز الغير مرافق للنفط	<input checked="" type="checkbox"/>
٣.	من محاور التنمية المستدامة العناية بصحة أفراد المجتمع	<input checked="" type="checkbox"/>
٤.	لا تعد ظاهرة التفحيط ظاهرة اجتماعية خطيرة	<input checked="" type="checkbox"/>
٥.	يعد النفط أهم مصادر الطاقة في العالم	<input checked="" type="checkbox"/>
٦.	تعمل التنمية على النهوض بالمجتمعات في شتى المجالات .	<input checked="" type="checkbox"/>
٧.	من وسائل التنمية الصحية المستشفيات والمدن الطبية	<input checked="" type="checkbox"/>
٨.	يقاس تقدم الدول بحجم إنتاجها الصناعي .	<input checked="" type="checkbox"/>
٩.	رؤية ٢٠٣٠ لا تحقق التنمية	<input checked="" type="checkbox"/>
١٠.	الإنجاز الذاتي مرتبط بمشاعر الفرد	<input checked="" type="checkbox"/>

السؤال الثاني: اختر الاجابة الصحيحة:

٣٠

١. المياه السطحية في المملكة تنقسم إلى		
(أ) أربع أقسام	(ب) ثلاثة أقسام .	(ج) <u>قسمين</u>
٢. من المياه السطحية في المملكة		
(أ) مياه البحار	(ب) مياه الأنهار	(ج) <u>مياه العيون</u>
٣. يُعد من أكبر الأودية في المملكة واطولها		
(أ) <u>وادي الرمة الباطن</u>	(ب) وادي السرحان	(ج) وادي تربة .
٤. تتحدر روافده من مرتفعات السروات وينتهي في الربع الخالي		
(أ) وادي الرمة الباطن	(ب) وادي السرحان	(ج) <u>وادي الدواسر</u>
٥. ينحدر من بلاد زهران ويعرف بوادي الخرمة		
(أ) وادي الرمة الباطن	(ب) وادي الدواسر	(ج) <u>وادي تربة</u>
٦. المياه التي لا يمكن الاستفادة منها في الاستخدام البشري هي		
(أ) <u>مياه الصرف الصحي</u>	(ب) مياه البحر	(ج) مياه الآبار والعيون
٧. بدأ التنقيب عن النفط في المملكة في عهد الملك		
(أ) خالد	(ب) سعود .	(ج) <u>عبدالعزیز</u>
٨. تم أول اكتشاف للنفط بكميات تجارية في بئر		
(أ) السفانية	(ب) <u>الدمام</u>	(ج) الغوار .
٩. اكتشف النفط في المملكة بكميات كبيرة عام :		
(أ) <u>١٣٥٧هـ.</u>	(ب) ١٤٠٠هـ .	(ج) ١٣٥٩هـ .
١٠. يمتاز بأنه أكبر حقول النفط على اليابس مساحةً وإنتاجاً في العالم		
(أ) حقل الدمام	(ب) <u>حقل الغوار</u>	(ج) حقل بقيق

١١. يمتاز بالقرب من شاطئ الخليج العربي وهو ثاني حقل مغمور بالمياه في المملكة

(أ) حقل منيفة (ب) حقل أبو حدرية (ج) حقل الفاضلي

١٢. أهم صادرات المملكة

(أ) الذهب (ب) النفط (ج) الملابس

١٣. يُصنف الإنتاج الصناعي في المملكة إلى

(أ) وحدتين رئيسيتين (ب) ثلاث وحدات رئيسية (ج) أربع وحدات رئيسية

١٤. الصناعات الأساسية في المملكة تعتمد معظمها على

(أ) الفوسفات (ب) الزنك (ج) النفط

١٥. الصناعات التحويلية في المملكة مثل

(أ) المواد الغذائية (ب) البتروكيماوية . (ج) تكرير النفط .

١٦. من المدن السياحية الجبلية في المملكة

(أ) الرياض (ب) أبها (ج) الدمام

١٧. خطوات تحقيق الإنجاز الذاتي

(أ) تحديد الأهداف (ب) عدم بذل الجهد (ج) التخطيط

١٨. النشاط الإنساني للحصول على السلع والخدمات من المواد الخام أو المعارف هو

(أ) العمل (ب) التخطيط (ج) الإنتاج

١٩. عند انخفاض أسعار النفط تتأثر موارد الدولة وبتالي

(أ) يثبت الإنفاق (ب) يزيد الإنفاق (ج) يتقلص الإنفاق

٢٠. هناك العديد من الموارد الطبيعية و منها

(أ) السكان (ب) النفط (ج) السوق

٢١. مشكلة اقتصادية واجتماعية تعني ألا تنهيا فرص للعمل للباحثين عنه

(أ) العمل (ب) البطالة (ج) الإنتاج

٢٢. من الآثار الاقتصادية للبطالة

(أ) الأمراض النفسية

(ب) الجريمة

(ج) ضعف الإنتاج

٢٣. توفر وزارة الصحة خدمات تسجيل المواعيد عبر تطبيق

(أ) منتظر

(ب) موعد

(ج) مستشفى

٢٤. توفر وزارة الصحة خدمة اتصال على مدار الساعة للحصول على استشارة طبية على الرقم

(أ) ٩٣٧

(ب) ٩٣٨

(ج) ٩٣٩

٢٥. أول آيات نزلت على الرسول صلى الله عليه وسلم وتحث على التعلم والقراءة كانت في سورة

(أ) الإخلاص

(ب) العلق

(ج) الناس

٢٦. أول من أدخل النظام التعليمي المجاني في المملكة هو

(أ) الملك فيصل .

(ب) الملك فهد .

(ج) الملك عبدالعزيز

٢٧. في الحديث مثل المؤمنين في توادهم وتراحمهم وتعاطفهم مثل :

(أ) الجسد الواحد .

(ب) الجماعة .

(ج) الأخوة .

٢٨. عدد السدود في المملكة العربية السعودية أكثر من

(أ) ٥٠٠ سد

(ب) ٦٠٠ سد

(ج) ٧٠٠ سد

٢٩. قطار يربط بين مكة المكرمة والمدينة المنورة مروراً بجدة

(أ) قطار الرياض

(ب) قطار الشمال

(ج) قطار الحرمين

٣٠. مجموعة من الإجراءات والوسائل التي تتخذ للوقاية من وقوع الأخطار والحوادث

(أ) الحوادث

(ب) السلامة

(ج) الجريمة

انتهت الأسئلة مع تمنياتي لكم بالتوفيق والنجاح معلم المادة /