

تم تحميل وعرض المادة من :



موقع واجباتي  
www.wajibati.net


موقع واجباتي منصة تعليمية تساهم بنشر حل المناهج الدراسية بشكل متميز لترتقي بمجال التعليم على الإنترنت ويستطيع الطلاب تصفح حلول الكتب مباشرة لجميع المراحل التعليمية المختلفة

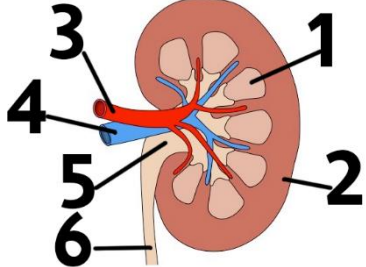
اختبار عملي لمقرر أحياء ٢-٢  
زمن الاختبار: ٥٠ دقيقة  
الفصل الدراسي الثاني  
للعام الدراسي ١٤٤٤ هـ

المملكة العربية السعودية  
وزارة التعليم  
الإدارة العامة للتعليم بمنطقة .....  
مدرسة الثانوية .....  
اسم الطالبة

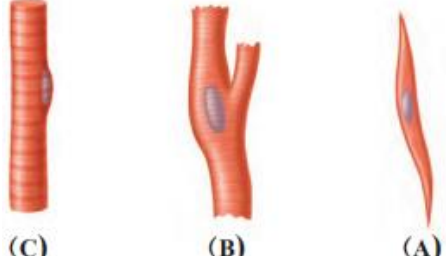
اسم الطالبة	رقم الجلوس	الشعبة
-------------	------------	--------

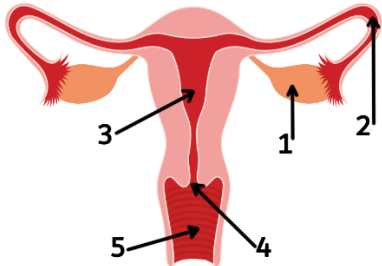
درجات فقط	١٠	أجب على الأسئلة التالية على حسب الشكل المجاور لها.
-----------	----	--

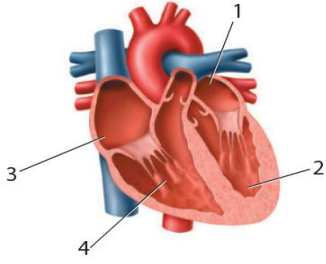
	١ ما هو نوع المفصل الموجود في الصورة؟ .....
	- ما لون نهايات العظام في المفصل المتحرك .....

	٢ الي أي جهاز ينتمي هذا العضو ..... والرقم ٦ يشير ..... .....
--	---

٣ استقص رد الفعل المنعكس لرمش العين فسري سبب اختلاف ردة الفعل للشخص في كل مره ؟ .....
---

	٤ أي العضلات ارادية ..... وكيف تربط العضلات مع العظام .....
---	--

	٥ ما هو التركيب المشار له بالرقم ١؟ ..... ينمو فيه الجنين حتى ولادته رقم .....
---	---



اسم العضو ؟ .....

٦

ما هو اسم الحجرة المشار لها برقم ٤

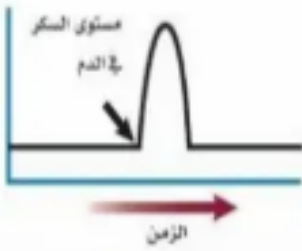
.....

من تجربة : كيف يساعد انزيم الببسين في عملية الهضم ؟

٧

صف دور كل من الببسين والرقم الهيدروجيني في هضم البروتينات ؟

.....



يوضح الرسم البياني مستوى السكر في الدم لفترة من الزمن ,

ماهو الهرمون الذي قد يسبب الارتفاع المفاجئ المشار اليه

بالسهم .....

٨

وماهي الغدة المفرزة له .....

من تجربة : هل يمكن مشاهدة اثار التعرض للكحول

٩

ما العواقب التي تنتج عن شرب الكحول مستقبلا ؟

.....

اجيبي عن الاسئلة الاتية

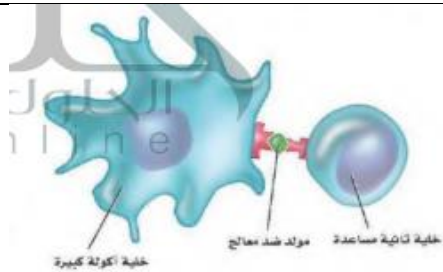
١٠

١- خلية تنشط الخلية البلازمية ( B ) والخلايا التائية القاتلة ( T )

.....

٢- ما نوع الاستجابة المناعية الممثلة في الشكل

.....




انتهت الأسئلة

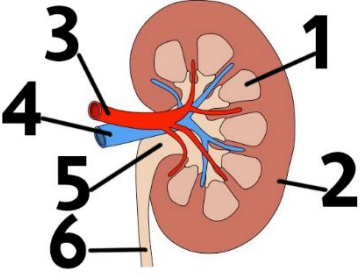
معلم المادة:

اختبار عملي لمقرر أحياء ٢-٢  
زمن الاختبار: ٥٠ دقيقة  
الفصل الدراسي الثاني  
للعام الدراسي ١٤٤٤ هـ

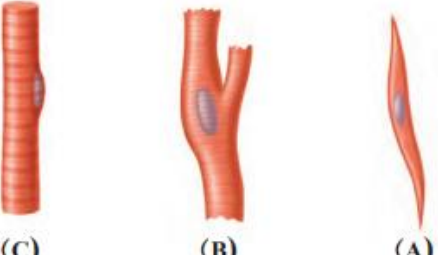
اسم الطالبة	رقم الجلوس	الشعبة
-------------	------------	--------

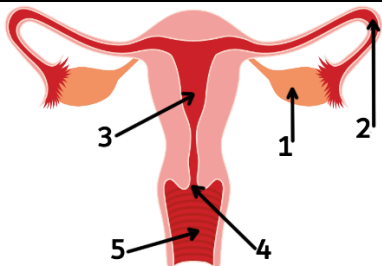
درجات فقط	١٠	أجب على الأسئلة التالية على حسب الشكل المجاور لها.
-----------	----	--

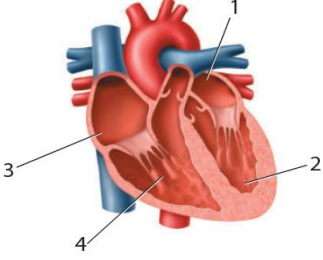
	١	ما هو نوع المفصل الموجود في الصورة؟ الرزبي 1/2
		- ما لون نهايات العظام في المفصل المتحرك لونها ابيض 1/2

	٢	الي أي جهاز ينتمي هذا العضو الجهاز الإخراجي 1/2
		والرقم ٦ يشير الحالب 1/2

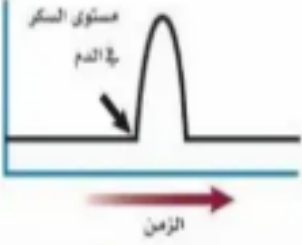
٣		استقص رد الفعل المنعكس لرمش العين
		فسري سبب اختلاف ردة الفعل للشخص في كل مره ؟ ردة الفعل المنعكس تختلف حسب نوع الحاسة وشدة المؤثر وعمر الشخص الذي يستقبل المؤثر ١

	٤	أي العضلات ارادية رقم C 1/2
		وكيف تربط العضلات مع العظام ب الاوتار 1/2

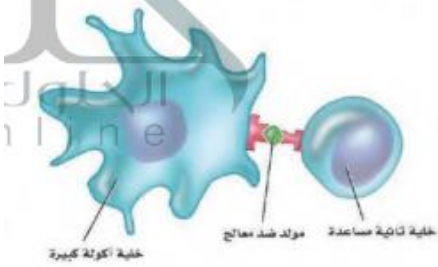
	٥	ما هو التركيب المشار له بالرقم ١؟ المبيض 1/2
		ينمو فيه الجنين حتى ولادته رقم ٣ 1/2

	اسم العضو ؟ القلب $\frac{1}{2}$	٦
	ما هو اسم الحجرة المشار لها برقم ٤ بطين ايمن $\frac{1}{2}$	

من تجربة : كيف يساعد انزيم الببسين في عملية الهضم ؟	٧
صف دور كل من الببسين والرقم الهيدروجيني في هضم البروتينات ؟ انزيم الببسين وحمض الهيدروكلوريك يهضم البروتينات في المعدة وان الببسين يسرع من عمليه هضم البروتينات ١	

	يوضح الرسم البياني مستوى السكر في الدم لفترة من الزمن , ماهو الهرمون الذي قد يسبب الارتفاع المفاجئ المشار اليه بالسهم الجلوكاجون $\frac{1}{2}$	٨
	وماهي الغدة المفرزة له البنكرياس $\frac{1}{2}$	

من تجربة : هل يمكن مشاهدة اثار التعرض للكحول	٩
ما العواقب التي تنتج عن شرب الكحول مستقبلا ؟ تلف طويل لبعض مناطق الدماغ المسؤولة عن الذاكرة ١	

	اجيبي عن الاسئلة الاتية	١٠
	١- خلية تنشط الخلية البلازمية ( B ) والخلايا التائية القاتلة ( T ) الخلية التائية المساعدة $\frac{1}{2}$ ٢- ما نوع الاستجابة المناعية الممثلة في الشكل متخصصة $\frac{1}{2}$	

انتهت الأسئلة

معلم المادة: